



T.C.
MİLLÎ EĞİTİM BAKANLIĞI
ÖLÇME, DEĞERLENDİRME VE
SINAV HİZMETLERİ GENEL MÜDÜRLÜĞÜ



AÇIK ÖĞRETİM LİSESİ / MESLEKİ AÇIK ÖĞRETİM LİSESİ /
AÇIK ÖĞRETİM İMAM HATİP LİSESİ
2019 - 2020 ÖĞRETİM YILI
2. DÖNEM SINAVI

1.
OTURUM


25 TEMMUZ 2020 Saat: 09.30

DERS KODU VE ADI	SAYFA	DERS KODU VE ADI	SAYFA	DERS KODU VE ADI	SAYFA
(111) DİN KÜL. AHL. BİL. - 1	3	(421) FİZİK - 1	23	(547) TÜRK DİLİ VE EDEBİYATI - 7	45
(112) DİN KÜL. AHL. BİL. - 2	4	(425) SEÇMELİ FİZİK - 1	24	(548) TÜRK DİLİ VE EDEBİYATI - 8	46
(115) DİN KÜL. AHL. BİL. - 5	5	(432) KİMYA - 2	25	(609) SEÇMELİ MATEMATİK - 2	48
(121) FELSEFE - 1	6	(436) SEÇMELİ KİMYA - 2	27	(611) DİNLER TARİHİ - 1	49
(125) FELSEFE - 3	8	(441) BİYOLOJİ - 1	29	(621) SEÇ. TÜRK DİLİ VE	
(132) TARİH - 2	10	(443) BİYOLOJİ - 3	30	EDEBİYATI - 3	51
(136) SEÇMELİ TARİH - 2	10	(446) SEÇMELİ BİYOLOJİ - 2	31	(622) SEÇ. TÜRK DİLİ VE	
(151) COĞRAFYA - 1	11	(461) SEÇMELİ EKONOMİ - 1	32	EDEBİYATI - 4	52
(155) SEÇMELİ COĞRAFYA - 1	13	(465) TEMEL DİNİ BİL. - 1	33	(713) İSLAM KÜLTÜR VE	
(157) SEÇMELİ COĞRAFYA - 3	14	(477) SEÇMELİ İŞLETME - 2	35	MEDENİYETİ - 1	54
(181) İNGİLİZCE - 1	15	(479) SEÇMELİ MANTIK - 2	36	(817) AKAİD - 1	55
(181) ALMANCA - 1	16	(502) İNGİLİZCE - 8	37	(819) KELAM - 1	57
(181) FRANSTZCA - 1	17	(502) ALMANCA - 8	38	(825) OSMANLI TÜRKÇESİ - 1	58
(222) SAĞLIK BİLGİSİ VE		(502) FRANSTZCA - 8	39	(931) SİYER - 1	59
TRAFİK KÜLTÜRÜ - 2	18	(511) FİKİH - 1	40	(974) SEÇMELİ GİRİŞİMCİLİK - 1	60
(244) İNGİLİZCE - 5	20	(532) SEÇMELİ		(999) MATEMATİK - 2	62
(244) ALMANCA - 5	21	PEYGAMBERİMİZİN HAY. - 2	41		
(244) FRANSTZCA - 5	22	(544) TÜRK DİLİ VE EDEBİYATI - 4	43		

ADAYLARIN DİKKATİNE!

- Her ders için 20 soru bulunmaktadır. Bu oturumda **180** dakikalık cevaplama süreniz vardır. Sınav başladıktan sonra ilk **30** dakika tamamlanmadan dışarı çıkmayınız.
- Sınav sırasında çanta, cep telefonu, saat, kablosuz iletişim sağlayan cihazlar ve kulaklık, kolye, küpe, bilezik, yüzük, broş ve benzeri eşyalar ile her türlü elektronik ve/veya mekanik cihazları yanınızda bulundurmuyunuz. Bu araçları yanınızda bulundurmanız ve kopya çekmeye teşebbüs etmeniz hâlinde sınavınız geçersiz sayılacaktır.
- Başvuru şartlarını taşımadığınız hâlinde sınava girmeniz, kopya çekmeniz, başka adayın sınav evrakını kullanmanız ve geçerli kimlik belgenizi ibraz edemediğiniz durumlarda sınavınız geçersiz sayılacaktır.
- Sınavın değerlendirilmesi aşamasında, bilgisayar ortamında yapılan kopya analizinde sistemin ikili ve/veya toplu kopya tespiti hâlinde sınavınız geçersiz sayılacaktır.
- Adaylar, sınav kurallarına ve salon görevlilerinin tüm uyarılarına uymak zorundadır. Kurallara ve uyarılara uymayan adayların sınavları geçersiz sayılacaktır.**
- Sınav başladıktan sonra adayların salon görevlileri ve birbirleri ile konuşmaları; kalem, silgi vb. şeyleri istemeleri yasaktır.
- Adaylar sınav süresince, geçerli kimlik belgelerinden birinin aslını (fotoğraflı nüfus cüzdanı, süresi geçmemiş pasaport veya sürücü belgesi) masalarının üzerinde bulundurmamak zorundadır.
- Sınav evraklarını teslim etmeyen, soru kitapçıklarının sayfalarından bir kısmını eksik teslim edenlerin sınavları geçersiz sayılacaktır.**
- Sınav başlamadan önce kitapçığın arkasındaki açıklamaları okuyunuz.

BAŞLAYINIZ DENMEDEN SORU KİTAPÇIKLARINI AÇMAYINIZ.



1. OTURUM

(111) DİN KÜL. AHL. BİL. – 1

1. Gayb ile ilgili konuların bilgi kaynağı aşağıdakilerden hangisidir?

- A) Vahiy B) Akıl
C) Duyular D) Sezgi

2. Aşağıdakilerden hangisi kul hakkı ihlali olarak değerlendirilemez?

- A) Gıybet ve dedikodu yapmak
B) Başkasının özel hayatını araştırmak
C) İhtiyaç sahibine yardımı gizli yapmak
D) Kişinin izni olmadan telefonunu dinlemek

3. “Âlimin, ibadet edene üstünlüğü, ayın diğer yıldızlara olan üstünlüğü gibidir. Kuşkusuz âlimler peygamberlerin varisleridir.”

Bu hadiste aşağıdakilerden hangisi vurgulanmaktadır?

- A) İbadetin faydaları
B) İlim elde etmenin yolu
C) Peygamberlere duyulan sevgi
D) İlim sahibi olmanın önemi

4. Aşağıdaki ayetlerin hangisi doğru bilginin önemi ile ilgili değildir?

- A) “Hakkında kesin bilgi sahibi olmadığın şeyin ardına düşme. Çünkü kulak, göz ve gönül, bunların hepsi ondan sorumludur.”
(İsrâ suresi, 36. ayet)
- B) “Sizler hiçbir şey bilmez bir durumdayken Allah sizi analarınızın karnından dışarı çıkardı; şükrediniz diye size kulaklar, gözler, kalpler verdi.”
(Nahl suresi, 78. ayet)
- C) “Ey müminler! Size bir fâsık haber getirirse bilmeyerek bir topluluğa zarar verip yaptığınıza pişman olmamak için onun doğruluğunu araştırın.”
(Hucurât suresi, 6. ayet)
- D) “Onların çoğu sadece zanna uyuyor. Oysa zan hiçbir şekilde gerçek ve kesin bilginin yerini tutamaz...”
(Yûnus suresi, 36. ayet)

5. “Allah’ım! Huşu duymayan kalpten, kabul edilmeyen duadan, doymayan nefisten ve fayda vermeyen ilimden sana sığınırım.”

Aşağıdakilerden hangisi bu hadiste sakınılması istenen durumlardan biri değildir?

- A) Canlılara karşı merhametsiz olmak
B) Bilginin gerektirdiği şekilde amel etmemek
C) İstek ve arzulara aşırıya kaçmak
D) Allah’a gerektiği gibi saygı duymamak

6. “Bir şeye gönülden inanmak” anlamına gelen kavram aşağıdakilerden hangisidir?

- A) İctihad B) İbadet
C) İtikat D) İcma

7. “Kim inanarak iyi olan işler yaparsa o, ne zulme uğramaktan korkar ne de yoksun bırakılmaktan.”

(Tâ-Hâ suresi, 112. ayet)

Bu ayette altı çizili bölüm ile aşağıdakilerden hangisi vurgulanmaktadır?

- A) Vahiy - sünnet ilişkisi
B) İman - amel ilişkisi
C) Dünya - ahiret ilişkisi
D) İlim - ibadet ilişkisi

8. Bilgi birikimi ve Arap diline hâkimiyet ölçüsünde Kur’an-ı Kerim metninin içerdiği manaların ortaya çıkarılmasına ve yorumlanmasına ne ad verilir?

- A) Meal B) Tercüme
C) Tefsir D) Mukabele

9. Dil, şükretmek içindir. Hakk’ı bilen, onu gıybet için kullanmaz. Kulak, Kur’an ve nasihat dinlemek içindir; bâtil ve boş sözler dinlemek için değil. İki göz, Allah’ın kudret ve sanatını temaşa içindir; eşin dostun ayıbını görmek için değil.

Bu parçada aşağıdakilerden hangisi vurgulanmaktadır?

- A) Beden ve ruh sağlığını korumanın önemi
B) Verilen nimetler için Allah’a teşekkür edilmesinin önemi
C) Varoluştaki amaç ve hikmetin düşünülmesinin gerekliliği
D) Duyu organlarının yaratılış amacına uygun kullanılmasının gerekliliği

10. Aşağıdakilerden hangisi dinin insan üzerindeki etkilerinden değildir?

- A) Sorumluluk sahibi olmasını sağlar.
B) Özgürlük alanını ortadan kaldırır.
C) Hayatını anlamlandırmasına katkı sağlar.
D) Aklını ve iradesini doğru kullanmaya yönlendirir.

11. Aşağıdakilerden hangisi “İslam” kavramının sözlük anlamlarından biridir?

- A) Taklit etmek
B) Hüküm koymak
C) Kurtuluşa ermek
D) Tereddüt göstermek

12. İlmihal kitaplarında İslam dininin iman esasları - - - ile ifade edilir.

Bu cümlede boş bırakılan yere aşağıdakilerden hangisi getirilmelidir?

- A) Âmentü B) Rabbenâ
C) Âyete’l-kürsî D) Kelime-i tevhid

13. Aşağıdakilerden hangisi İslam inanç esaslarının özelliklerinden biri değildir?

- A) Açık ve sade olması
B) Hür iradeye dayalı olması
C) İnsan fitratına uygun olması
D) Zamana ve mekâna göre değişkenlik göstermesi

14. “Senden önce gönderdiğimiz bütün peygamberlere, ‘Şüphesiz, benden başka hiçbir ilâh yoktur. Öyleyse bana ibadet edin.’ diye vahyettik.” (Enbiyâ suresi, 25. ayet)

Bu ayetten aşağıdakilerin hangisine ulaşılamaz?

- A) Peygamberlerin Allah’a karşı bir takım sorumlulukları vardır.
B) Hz. Muhammed’den (sav.) önce de birçok peygamber gönderilmiştir.
C) Allah peygamberlere kendi toplumlarının dili ile vahiy göndermiştir.
D) Bütün peygamberler tevhit inancı üzerine tebliğde bulunmuştur.

1. OTURUM

15. Yahudi hahamlarından bir topluluk Hz. Peygamber'e gelerek: "Ey Allah'ın Resulü biz, sana, kitabına, Musa'ya, Tevrat'a ve Üzeyr'e iman ediyoruz. Bunlardan başka kitapları ve peygamberleri tanımıyoruz." dediler. Hz. Peygamber de: "Hayır, Allah'a, bütün peygamberlerine, Muhammed'e, kitabı Kur'an'a ve ondan önceki her kitaba iman ediniz." buyurdu. "Yapmayız." dediler. Bunun üzerine bir ayet nazil oldu ve hepsi iman ettiler.

Bu parçada aşağıdakilerden hangisi vurgulanmaktadır?

- A) Hz. Peygamber'in tebliğ görevini yerine getirdiği
- B) İman esaslarının tümüne inanılması gerektiği
- C) İslam inanç esaslarının diğer dinlerin inanç esasları ile benzerlik gösterdiği
- D) Farklı din mensuplarının İslam'ı kabul etmelerinde iman esaslarının etkisi olduğu

16. "Ancak sana ibadet eder ve ancak senden yardım dileriz."
(Fâtiha suresi, 5. ayet)

Bu ayette ibadet ile ilgili aşağıdaki sorulardan hangisinin cevabı bulunmamaktadır?

- A) Nasıl yapılır?
- B) Ne zaman yapılır?
- C) Çeşitli nelerdir?
- D) Kime yapılır?

17. Hz. Peygamber'in aşağıdaki tutum ve davranışlarından hangisi sünnet-i zevâide örnektir?

- A) Beyaz elbise giymesi
- B) Dini tebliğ etmesi
- C) Bayram namazı kılması
- D) Doğru ve güvenilir olması

18. Yapılması tavsiye edilip övülen fakat yapılmamasında da bir sakınca bulunmayan eylem veya davranışlara ne denir?

- A) Farz
- B) Vacip
- C) Mendup
- D) Mekruh

19. Toplumdaki gelir dengesizliğinin giderilmesine katkı sağlayan ibadet aşağıdakilerden hangisidir?

- A) Namaz
- B) Zekât
- C) Hac
- D) Dua

20. Aşağıdakilerden hangisi ibadetlerde istenmeyen durumlardan biridir?

- A) Huşu
- B) İhlas
- C) Niyet
- D) Gösteriş

(112) DİN KÜL. AHL. BİL. – 2

1. Bir toplumda benimsenmiş ve yaşatılmakta olan her türlü düşünce, kural ve uygulamalara ne ad verilir?

- A) Değer
- B) Hukuk
- C) Örf
- D) Tarih

2. Selimiye Camii'ni en kapsamlı şekilde aşağıdaki değer türlerinden hangisi ifade eder?

- A) Tarihî
- B) Ahlakî
- C) Sanatsal
- D) Maddî - manevî

3. İslam dini kendi temel yapısına aykırı olmayan örf ve âdetleri kabul etmiştir.

Aşağıdakilerden hangisi bu duruma örnek gösterilebilir?

- A) Fal bakmak
- B) Başlık parası istemek
- C) Davete icabet etmek
- D) Türbelerde mum yakmak

4. Değerler ile ilgili aşağıdakilerden hangisi söylenemez?

- A) Temeli ailede atılır.
- B) Kanunlarla belirlenir.
- C) Maddî ve manevî yönü vardır.
- D) Toplumda birlik ve beraberliği sağlar.

5. Müşrikler Hz. Peygamber'e, İslam davasından vazgeçmesi karşılığında çeşitli vaatlerde bulundular. Amcası Ebu Talib'i aracı olarak gönderdiler. Ancak Hz. Peygamber, "Güneş'i sağ elime, Ay'ı sol elime verseler yine de yolumdan dönmeyeceğim." diyerek yaptıkları tüm vaatleri reddetti.

Bu durum Hz. Peygamber'in sahip olduğu değerlerden hangisine örnek gösterilebilir?

- A) Mütevazılığına
- B) Merhametine
- C) Adaletine
- D) Şecaatine

6. "Rabb'in, sadece kendisine kulluk etmenizi, ana-babanıza da iyi davranmanızı kesin bir şekilde emretti. Onlardan biri veya her ikisi senin yanında yaşlanırsa kendilerine 'öf!' bile deme; onları azarlama, ikisine de güzel söz söyle. Onları esirgeyerek alçak gönüllülikle üzerlerine kanat ger ve 'Rabb'im! Küçüklüğümde onlar beni nasıl yetiştirmişlerse şimdi de sen onlara öyle rahmet et!' diyerek dua et."
(İsrâ suresi, 23-24. ayetler)

Bu ayetlerde aşağıdaki konulardan hangisine değinilmemiştir?

- A) Allah'a itaat
- B) Anne baba hakkı
- C) Duanın kabulünün şartları
- D) Aile fertlerinin birbirlerine karşı sorumlulukları

7. Aşağıdakilerden hangisi dinî değerleri ifade eden kavramlardır?

- A) Helal - haram
- B) İyi - kötü
- C) Güzel - çirkin
- D) Kolay - zor

8. "Hikmet, müminin yitiğidir. Onu bulunduğu yerde alır."

Bu hadiste geçen hikmet kavramının anlamı aşağıdakilerden hangisidir?

- A) Maddî zenginlik
- B) Faydalı bilgi, söz
- C) Selim akıl
- D) Şan, şöhret

9. Bastığın yerleri "toprak!" diyerek geçme, tanı!
Düşün altında binlerce kefensiz yatanı.
Sen şehit oğlusun, incitme, yazıktır, atanı;
Verme, dünyaları alsan da, bu cennet vatani.

Bu dörtlükte aşağıdaki değerlerden hangisine değinilmemiştir?

- A) Şecaat
- B) Şehitlik
- C) Bayrak sevgisi
- D) Yurt sevgisi

10. • Şehre mensup olan, şehirli anlamlarına gelmektedir.
• Farklı kültürlerin bir araya gelmesi ile oluşur.

Bu bilgiler aşağıdakilerden hangisi ile ilgilidir?

- A) Değer
- B) Ahlak
- C) Gelenek
- D) Medeniyet

11. Aşağıdakilerden hangisi İslam medeniyetinin temelini oluşturmaktadır?

- A) Aile
- B) Vahiy
- C) Sosyal çevre
- D) Örf ve âdetler

1. OTURUM

12. İslam medeniyeti ile ilgili aşağıdakilerden hangisi söylenebilir?

- A) Yeniliklere ve gelişime açıktır.
- B) Hz. İbrahim'in Kâbe'yi inşa etmesi ile başlar.
- C) En fazla Çin kültüründen etkilenmiştir.
- D) Selçuklular zamanında en parlak dönemini yaşamıştır.

13. Aşağıdaki eserlerden hangisi Hoca Ahmet Yesevi'ye aittir?

- A) Makalat
- B) Mukaddime
- C) Divan-ı Hikmet
- D) Kutadgu Bilig

14. Mescid-i Haram ve Mescid-i Aksa sırasıyla aşağıdaki şehirlerin hangisinde bulunmaktadır?

- A) Mekke - Kudüs
- B) Kudüs - Mekke
- C) Medine - Gazze
- D) Gazze - Medine

15. • Abbasi halifesi Ebu Cafer el-Mansur tarafından kurulmuştur.
• 1534 yılında Kanuni Sultan Süleyman döneminde Osmanlı topraklarına katılmıştır.
• Nizamiye medreseleri ilim ve kültür açısından önemli bir üne sahiptir.

Hakkında bilgi verilen bu bölge aşağıdakilerden hangisidir?

- A) Hicaz
- B) Bağdat
- C) Endülüs
- D) Anadolu ve Balkanlar

16. • İbrahim bin Ethem
• Bişr el-Hafî
• Bâyezâzid-i Bistâmî

Bu sufilerin yetiştiği bölge aşağıdakilerden hangisidir?

- A) Şam
- B) Kudüs
- C) Horasan
- D) Hint Alt Kıtası

17. Ülke olarak Türkiye, Bosna Hersek, Makedonya, Arnavutluk, Bulgaristan, Yunanistan ve Sırbistan gibi ülkeleri içine alan bölge aşağıdakilerden hangisidir?

- A) Balkanlar
- B) Mâverâünnehir
- C) Kuzey Afrika
- D) İran

18. "...Muhakkak ki Allah katında en değerliniz O'na karşı gelmekten en çok sakınanınızdır..."
(Hucurât suresi, 13. ayet)

Bu ayette aşağıdakilerden hangisi vurgulanmaktadır?

- A) Müminlerin cennet ile mükâfatlandırılacağı
- B) İnsanın yaptığından sorumlu olduğu
- C) İnsanın en üstün varlık olarak yaratıldığı
- D) Allah'ın emir ve yasaklarına uymanın önemi

19. el-Hamra Sarayı aşağıdaki ülkelerden hangisinde bulunmaktadır?

- A) Mısır
- B) İspanya
- C) Bosna Hersek
- D) Cezayir

20. "Şüphesiz Allah, adaleti, iyilik yapmayı, yakınlarla yardım etmeyi emreder..."
(Nahl suresi, 90. ayet)

Aşağıdakilerden hangisi bu ayette yerine getirilmesi istenen tutum ve davranışlar arasında yer almaz?

- A) Hakkı gözetmek
- B) Cömert olmak
- C) İnfak etmek
- D) Çalışkan olmak

(115) DİN KÜL. AHL. BİL. – 5

1. Aşağıdaki ayetlerden hangisinin konusu diğerlerinden farklıdır?

- A) "İnsan, kendisinin başıboş bırakılacağını mı sanır?"
(Kiyâme suresi, 36. ayet)
- B) "Göğü, yeri ve ikisi arasındakileri boş yere yaratmadık..."
(Sâd suresi, 27. ayet)
- C) "Allah da onlara hem dünya nime-tinin hem de ahiret sevabının güzelliğini verdi. Allah işini güzel yapanları sever."
(Âl-i İmrân suresi, 148. ayet)
- D) "Biz göğü, yeri ve bunlar arasındakileri oyun olsun diye yaratmadık."
(Enbiyâ suresi, 16. ayet)

2. Ahirete iman eden bir kimse ile ilgili aşağıdakilerden hangisi söylenemez?

- A) Salih amel işlemeye özen gösterir.
- B) Sorumluluk bilinci ile hareket eder.
- C) Davranışlarında Allah'ın rızasını kazanmayı hedefler.
- D) Kendi menfaatini toplum menfaatine tercih eder.

3. "Göklerdeki ve yerdeki herkes ister istemez O'na boyun eğmişken ve O'na döndürülüp götürülecekken onlar Allah'ın dininden başkasını mı arıyorlar?"
(Âl-i İmrân suresi, 83. ayet)

Bu ayette aşağıdakilerden hangisi vurgulanmaktadır?

- A) Yaratılan her şeyin bir sonunun olduğu
- B) Evrenin belli bir düzen içinde hareket ettiği
- C) Kâinatın yaratıcısı olan Allah'a inanılması gerektiği
- D) İnsanın en güzel biçimde yaratıldığı

4. Aşağıdaki ayetlerden hangisi dünya hayatının bir imtihan olduğunu konu edinmektedir?

- A) "Andolsun ki sizi biraz korku ve açlıkla; mallardan, canlılardan ve ürünlerden eksiltmekle sinayacağız. Sabredenleri müjdele!"
(Bakara suresi, 155. ayet)
- B) "Yedi göğü birbiriyle tam bir uygunluk içinde yaratan O'dur. Rahmânın yaratışında hiçbir uyumsuzluk göremezsin..."
(Mülk suresi, 3. ayet)
- C) "De ki: Yeryüzünde gezip dolaşın ve Allah'ın ilk yaratılışı nasıl başlatıp devam ettirdiğini görün..."
(Ankebût suresi, 20. ayet)
- D) "Allah'ın sana verdiği şeylerde ahiret yurdunu ara. Dünyadan da nasibini unutma..."
(Kasas suresi, 77. ayet)

5. "...O, ölüleri diriltir ve O'nun her şeye gücü yeter. Kıyamet vakti şüphe yok ki gelip çatacaktır ve Allah kabirde yatanları diriltecektir."
(Hac suresi, 6-7. ayetler)

Bu ayetlerde aşağıdakilerden hangisine değinilmektedir?

- A) Mizan
- B) Ba's
- C) Sırat
- D) Mahşer

6. Aşağıdakilerden hangisi cehennem isimlerindedir?

- A) Adn
- B) Naim
- C) Ravza
- D) Hâviye

1. OTURUM

7. İslam kültüründe, ölen bir kişi için genel olarak yapılması gereken hazırlıklara ne ad verilir?

- A) Teçhiz B) Gasil
C) Tekfin D) Vasiyet

8. Teşyi kavramı cenaze ile ilgili aşağıdakilerden hangisini ifade etmektedir?

- A) Yıkanmasını
B) Kefenlenmesini
C) Kabre taşınmasını
D) Defnedilmesini

9. I. Ailesinden borçlarını ödemesini istemek
II. Cenaze namazına katılmak
III. Feryat ederek ağlamak
IV. Cenaze evine yemek götürmek

Numaralanmış ifadelerden hangilerinin ölen kimsenin arkasından yapılması tavsiye edilmez?

- A) I ve II B) I ve III
C) II ve IV D) III ve IV

10. "Şüphesiz ki ben Allah'ın kuluyum. Onun için bana 'Allah'ın kulu ve Resûlü' deyin."

Bu hadiste Hz. Peygamber'in aşağıdaki özelliklerinden hangisi vurgulanmaktadır?

- A) Son peygamber olduğu
B) Mütevazı olduğu
C) Kararlı olduğu
D) Beşer olduğu

11. I. Cimrilik yapmak
II. Sözünde durmamak
III. Merhametsiz olmak
IV. Emanete ihanet etmek

Numaralandırılmış ifadelerden hangileri münafıklık alametlerindedir?

- A) I ve II B) I ve III
C) II ve IV D) III ve IV

12. Aşağıdaki hadislerden hangisinde sabırlı davranmak tavsiye edilmektedir?

- A) "Müslümanlar benim başıma gelen musibetlere baksınlar da kendi musibetleri karşısında güçlü olsunlar."
B) "Küçüğüne merhamet etmeyen, büyüğüne saygı göstermeyen bizden değildir."
C) "Siz kolaylaştırıcı olarak gönderildiniz, zorlaştırıcı olarak değil."
D) "Müslüman, elinden ve dilinden emin olunan kimsedir."

13. • "Sana tâbi olan müminlere tevazu ile davran!"
(Şu'arâ suresi, 215. ayet)

- "Rahman'ın kulları, yeryüzünde tevazu ile yürüyen kimselerdir..."
(Furkân suresi, 63. ayet)

Bu ayetlerin ortak vurgusu aşağıdakilerden hangisidir?

- A) Adil olmak
B) Kararlı olmak
C) Güvenilir olmak
D) Alçak gönüllü olmak

14. Aşağıdaki ayetlerin hangisinde Hz. Peygamber'in teşri görevi vurgulanmaktadır?

- A) "Ey örtünüp bürünen Peygamber! Kalk ve insanları uyar."
(Müddessir suresi, 1-2. ayetler)
B) "Allah ve Resûlü bir iş hakkında hüküm verdikleri zaman, hiçbir mümin erkek ve hiçbir mümin kadın için kendi işleri konusunda tercih kullanma hakları yoktur..."
(Ahzâb suresi, 36. ayet)

- C) "De ki 'Ben de ancak sizin gibi bir beşerim. Ne var ki bana, 'Sizin ilahınız ancak bir tek ilahdır.' diye vahyolunuyor..."
(Kehf suresi, 110. ayet)
D) "Artık sen öğüt ver! Sen ancak bir öğüt vericisin. Sen, onlar üzerinde bir zorba değilsin."
(Gâşiye suresi, 21-22. ayetler)

15. "Üsve-i hasene" kavramı ile aşağıdakilerden hangisi ifade edilmektedir?

- A) Güzel söz B) Güzel ahlak
C) Güzel örnek D) Güzel isimler

16. Hz. Peygamber'in doğumunu ve hayatından bazı kesitleri anlatan eserlere ne ad verilir?

- A) Mevlid B) Megazi
C) Na'at D) Kırk hadis

17. Aşağıdakilerden hangisi bir salavat ifadesi değildir?

- A) Aleyhi's-salâtü ve's-selam
B) es-Salâtü ve's-selamü aleyhi
C) Sallâllahu aleyhi ve sellem
D) Sadakallahu'l-azim

18. Dalalet kavramının zıddı aşağıdakilerden hangisidir?

- A) Hikmet B) Hidayet
C) İtaat D) İsâr

19. Aşağıdakilerden hangisi ihsan sahibi bir insandan beklenen davranışlardan değildir?

- A) İbadetlerini samimiyetle yerine getirmesi
B) Kötü söz ve davranışlardan kaçınması
C) Sorumluluklarını göz ardı etmesi
D) Her işinde Allah rızasını gözetmesi

20. "Rabbimiz! Ancak sana ibadet eder ve ancak senden yardım dileriz. Bizi dosdoğru yola ilet..."
(Fâtiha suresi, 5-6. ayetler)

Bu ayetlerin altı çizili bölümünde aşağıdaki kavramlardan hangisine işaret edilmektedir?

- A) Cihat
B) Salih amel
C) Sadaka-i carie
D) Sırat-ı müstakim

(121) FELSEFE – 1

1. "İnsan kendisi ve dünya üzerine düşünen tek varlıktır." ifadesinden aşağıdakilerin hangisine ulaşamaz?

- A) Her canlı, içinde bulunduğu dünyayı merak eder.
B) İnsan, varlığının nedeniyle ilgili görüşler üretir.
C) Düşünme insana özgü bir etkinliktir.
D) İnsan düşünme yoluyla doğayı kavrar.

2. Düşünen öznenin kendi üstüne dönerek düşünmesi, duygularına, algılarına, bilgilerine ve kavrayışlarına bağlı olarak kendini anlama, tanıma ya da bilme yeteneğidir.

Tanımı verilen kavram aşağıdakilerden hangisidir?

- A) Bilim B) Özbilim
C) Özne D) Nesne

3. **Platon:** Var olanı bilmek için düşüncenin yöntemli bir çalışmasıdır.

Aristoteles: Var olanın ilk ilkelerinin ve temellerinin araştırılmasıdır.

El-Kindî: İnsanın, gücü ölçüsünde varlığın hakikatini bilmesidir.

Verilen felsefe tanımlarının ortak özelliği aşağıdakilerden hangisidir?

- A) Doğaya eleştirel bir bakışla yaklaşmaları
B) Ahlakı temellendirmeye çalışmaları
C) Var olanı bilme çabasında olmaları
D) İnsanın bilme yetisinin sınırlı olduğunu vurgulamaları

1. OTURUM

4. Yeşillikler ve ormanlıklar, bir âşık için mutluluk kaynağı sayılırken bir avcı için avcılık yapılacak yer olarak görülür.

Bu sözün anlamından hareketle filozoflar için aşağıdakilerden hangisi söylenebilir?

- A) Doğayı birbiriyle uyumlu bir bütün olarak gördükleri
B) Varoluşun insan için bir anlamı olmadığını düşündükleri
C) Aynı gerçeği kendi görüş açılarına göre yorumladıkları
D) Mutluluğun doğada aranması gerektiğini söyledikleri
5. Özne olarak insanın, nesne olarak var olanla karşılaşması ve bunun sonucunda ortaya ürün olarak bilgiyi çıkarmasına bilme denir.

Bu tanıma göre aşağıdakilerden hangisi bilme sürecinde yer alan kavramlardan değildir?

- A) Özne
B) Nesne
C) Bilgi
D) Çelişki

6. Bilgiyi seven, bilgelik arayışına muhtaç olduğunu hisseden filozof da herkes gibi yer, içer, gezer. Onu diğer insanlardan farklılaştıran şey, onun kendi kendine soru soran kişi olmasıdır. Filozof, düşüncelerini mantıksal bir tutarlılıkla ortaya koyan ve sistemli bir bütünlük içinde sunar. O, karşıtlıkları içinde hayatı, hayatın anlamını, anlamsızlığı, doğruyu yanlışlığı, iyiyi kötüyü, bizi mutluluğa götüreni bilmeye çalışır. O, düşünceleriyle evrensel bir bilince sahip, orali ya da buralı değil bir evren vatandaşdır.

Bu parçaya göre aşağıdakilerden hangisi filozofun özelliği olamaz?

- A) Kesin bilgiye ulaştığını düşünür.
B) Fikirlerini sistemli bir bütünlük içinde sunar.
C) Hayatın anlamını sorgular.
D) Düşüncelerini mantıksal bir tutarlılıkla açıklar.

7. **Aşağıdakilerden hangisi felsefi düşüncenin ortaya çıkışıyla ilgili doğru bir bilgi değildir?**

- A) Bağımsız bir düşünce faaliyeti olarak felsefenin, Antik Yunanlılarda başladığı kabul edilir.
B) Antik Yunan dışında Çin, Hint, Sümer, Mezopotamya, Mısır ve İran'da önemli bir düşünce geleneğinin bulunduğu ifade edilir.
C) Antik Yunanlılar kendilerinden önce yapılan dinî-mitolojik açıklamalarla ilgili sorgulama yapmayı gerekli görmemiş ve bu düşüncelerle tatmin olmuşlardır.
D) Felsefe, var olan her şeyin esasını merak eden ve bunları bilmek, anlamak ihtiyacı duyan insan aklının her tür bilgiyi eleştiri süzgecinden geçirme çabasıyla doğmuştur.

8. **Aşağıdakilerden hangisi filozofların özelliklerindedir?**

- A) Her şeyi bilmek
B) Kavramsal sorgulama yapmak
C) Fikirleri olduğu gibi kabul etmek
D) Düşüncelerini kendine saklamak

9. Sahip olduğu bilgileri sorgulayan zihnin kendi üzerine dönme hareketidir.

Verilen tanım felsefenin aşağıdaki özelliklerinden hangisine aittir?

- A) Merak etme
B) Sistemli olma
C) Şüphe duyma
D) Refleksif olma

10. Arzu, Bilge, Hasan ve Mert açık lise öğrencileridir. Bir gün bir üniversitede "Her Soru Felsefe Sorusu mudur?" konulu bir seminere giderler. Seminer sonrasında aralarında şöyle bir konuşma geçer:

Arzu: Felsefe sorusunu diğer sorulardan ayıran özellikler vardır.

Bilge: Bence sorduğumuz her soru felsefe sorusudur.

Hasan: Örneğin "Mutlu bir arkadaşın var mı?" sorusu bir felsefe sorusudur.

Mert: Sanırım felsefe sorusu, bizim günlük sorulardan bağımsız olarak ele almamız gereken sorulardır. Örneğin "Mutlu olmam için nasıl yaşamalıyım?", "İyi nedir?" soruları gibi.

Bu diyaloga göre felsefe sorusuyla ilgili doğru bilgiye sahip öğrenciler aşağıdakilerin hangisinde verilmiştir?

- A) Arzu ve Hasan
B) Bilge ve Hasan
C) Arzu ve Mert
D) Bilge ve Mert

11. "Bir görüşü desteklemek, doğrulamak veya güçlendirmek için öne sürülen önerme ya da önermeler" **aşağıdaki kavramlardan hangisiyle ifade edilir?**

- A) Argüman
B) Geçerlilik
C) Çelişiklik
D) Doğruluk

12. Dış dünyada nesnel bir varoluşa sahip olan varlık; bilinçten, bilen insan zihninden bağımsız olarak var olan her şey "gerçeklik" olarak tanımlanır.

Buna göre aşağıdakilerden hangisi gerçeklik örneğidir?

- A) Denizin renginin mavi olması
B) Bir geminin var olması
C) Gemideki insan sayısının çok olması
D) Geminin boyutlarının büyük olması

13. Bu akıl yürütmede doğru olduğuna inanılan genel bir önerme veya varsayım (doğru olduğu düşünülen fikir) ile başlanır ve bu varsayımaya dayanarak belli sonuçlara varılır.

Tanımı verilen akıl yürütme türü aşağıdakilerden hangisidir?

- A) Tümdengelim
B) Tümevarım
C) Analoji (benzetme)
D) Eksik tümevarım

14. Ormandaki bütün ağaçlar doğaya bir güzellik verir ve fayda sağlar. Kayın ağacı da ormandaki bir ağaçtır. O hâlde kayın ağacı da doğaya bir güzellik verir ve fayda sağlar.

Verilen akıl yürütmeyle ilgili aşağıdakilerden hangisi doğru bir bilgidir?

- A) Sonuç öncüllerden zorunlu olarak çıkmaktadır.
B) Tümevarım yoluyla ulaşılan bir argümandır.
C) Geçersiz bir akıl yürütmedir.
D) Bir örnekten hareketle sonuca ulaşılmıştır.

15. "Gerçeklik üzerine olan bilgiyi ifade eden önermelerin dayanıklarını ortaya koymak" **aşağıdaki kavramlardan hangisiyle ifade edilir?**

- A) Tutarlılık
B) Önerme
C) Temellendirme
D) Sonuç

1. OTURUM

(125) FELSEFE – 3

16. Doğru düşünmek için kavramların sorgulanarak titizlikle seçilmesi ve yerinde kullanılması gerekir.

Bu ifadede düşüncenin aşağıdaki alanlardan hangisiyle ilişkisi vurgulanmıştır?

- A) Astronomi B) Dil
C) Coğrafya D) Sosyoloji

17. Aşağıdakilerden hangisi felsefi temellendirme için gerekli değildir?

- A) Öne sürülen önermelerin doğru olması
B) Kavramların doğru kullanılması
C) Konu edinilen bilgilerin gerçekleştirilmesi
D) Düşüncelerin kime ait olduğunu bilinmesi

18. Şeker ve karbonhidrat ağırlıklı besinler yerine sebze ve protein ağırlıklı besinler tüketerek sağlığım için iyi olanı yapıyorum. Bu besinlerle beslenmek metabolizmamızı düzenler. Tanıdığım tüm sağlıklı insanlar böyle besleniyor. Doktorlar da bu şekilde beslenmenin sağlıklı olduğunu belirtiyor.

Aşağıdakilerden hangisi bu parçadan çıkarılabilecek felsefi bir soru niteliğindedir?

- A) Sağlığımız için hangi besinleri tüketmeliyiz?
B) Sağlıklı insanlar nasıl beslenir?
C) Sağlıklı olmak ne demektir?
D) Sağlıklı besinleri tüketmek faydalı mıdır?

19. Aşağıdakilerden hangisi felsefi bir tartışmanın amaçlarındandır?

- A) Görüşlerini temellendirmeksizin kabul ettirmeye çalışmak
B) Gerçekte olup biteni farklı bir şekilde aktarmak
C) Fikirlerini tartışma yoluyla geliştirmeye çalışmak
D) Bildiklerinin kesin doğru olduğunu düşünmek

20. Aşağıdakilerden hangisi bir görüşün felsefi bir boyut kazandığını gösteren şartlardan değildir?

- A) Felsefi bir sorunun peşinden giden bir düşünüş olması
B) Kavramların ne olduğunun araştırılması
C) Görüşler arasında sistemli bir bütünlük bulunması
D) Fikirlerin birbirleriyle çelişik olması

1. Miletli filozof Thales, evrene yönelik açıklamasında maddeye dayalı bir ilke öne sürmüştür. Felsefe dışında matematik ve geometri gibi alanlarda da çalışmaları vardır. Geometride kendi adıyla geçen "Thales Teoremi"ni oluşturmuştur.

Bu parçadan hareketle Thales ile ilgili aşağıdakilerden hangisine ulaşılabılır?

- A) Evreni mitolojik (efsanevi) öğelerle açıklamıştır.
B) Felsefenin gelişip sistemleşmesine katkıda bulunmuştur.
C) Doğa olayları hakkındaki açıklamalarıyla öne çıkmıştır.
D) Felsefenin yanı sıra farklı alanlara da ilgi duymuştur.

2. İyi eğitilmiş erdemli bir ruh, hem kötü-lüğün hem de iyiliğin nasıl bir şey olduğunu öğrenir. Bana kalırsa bilgelik kötü adamın değil, erdemli adamın sahip olabileceği bir meziyettir.

Buna göre erdemli insan için aşağıdakilerden hangisi söylenebilir?

- A) Mutlu olmak için yaşadığı
B) Kötü eylemlerde bulunduğu
C) İyinin bilgisine sahip olduğu
D) Düşünceleriyle başkalarını etkilediği

3. Aşağıdakilerden hangisi evrenin ilk nedeni olarak belirlenmiş "soyut" bir ilkedir?

- A) Toprak
B) Apeiron (sınırsız)
C) Hava
D) Ateş

4. Meletos: Sokrates, seni böyle vakitsiz bir sona sürükleyen bir ömürden utanç duymuyor musun?

Sokrates: Dostum, yanılıyorsun. Değeri olan bir kimse, yaşayacak mıyım yoksa ölecek miyim diye düşünmemelidir. Bir iş görürken yalnız doğru mu eğri mi hareket ettiğini, cesaretle bir adam gibi mi yoksa tabansızca mı hareket ettiğini düşünmelidir.

Bu diyaloga göre aşağıdakilerden hangisi değeri olan bir insanın davranışına kaynaklık etmelidir?

- A) Erdem B) Fayda
C) Mutluluk D) Sevgi

5. Protagoras'a göre insan, duyuları aracılığıyla bilgiyi oluşturur. Duyular her insanda farklı yoğunlukta gerçekleştiğinden duyunun bilgisi göreceli ve değişir özelliktedir.

Bu parçaya göre Protagoras aşağıdakilerden hangisine karşıt görüştedir?

- A) Bilgi değişen bir özelliğe sahiptir.
B) Acıyı ya da hazzı herkes farklı düzeyde yaşar.
C) Kesin bilginin kaynağı duyularımızdır.
D) Duyularımız gerçek konusunda bizi yanıltır.

6. Aristoteles'e göre "formel neden" bir şeyin biçimsel nedenidir.

Buna göre; "bir sanatçı tarafından bir demet çiçeğin, içine konması için alçıdan yapılan vazo" **örneğinde aşağıdakilerden hangisi "formel neden"dir?**

- A) Vazonun yapıldığı alçı
B) Alçının vazo görünüşünü alması
C) Vazonun bir demet çiçek için yapılması
D) Alçının vazoya dönüşmesini sağlayan sanatçı

7. Platon'a göre gerçek varlık değişmeden kalabilen, akılla kavranabilen, kendi kendinin nedeni olan idealardır. İdealardan pay alarak var olan fenomenler ise duyusal alana ait olan birer kopyadır.

Bu parça felsefenin aşağıdaki alanlarından hangisine yönelik bir açıklamadır?

- A) Ahlak B) Varlık
C) Sanat D) Siyaset

8. • Augustinus'a göre Tanrı her zaman insana iyiyi emreder ancak insan irade yetisiyle iyi ve kötü arasında seçim yapma özgürlüğüne sahiptir.
• Aquinalı Thomas'a göre kötülük, iyinin eksikliği ve irade zayıflığının sonucudur.

Bu görüşlerde Hristiyan felsefesinin aşağıdaki problemlerinden hangisi tartışılmıştır?

- A) Ruhun ölümsüzlüğü
B) Tanrı'nın varlığının kanıtı
C) Tümmeler
D) Kötülük

1. OTURUM

9. Hristiyan felsefesinde dinî inanç ile felsefi düşünceleri kaynaşmış ve felsefenin tüm alanlarında din etkili olmaya başlamıştır. Bu etkinin olumsuz yansımaları da olmuştur. Felsefeye karşı alınan bu tutumdan dolayı bu dönemde felsefenin yanında bilim de dışlanmıştır. Felsefe ve bilim merkezleri bir bir kapatılmıştır. Örneğin 5. yüzyılda İskenderiye Kütüphanesi, bilimsel ve felsefi çalışmaların Hristiyan düşüncesine zarar verdiği gerekçesiyle yakılmıştır. Benzer gerekçelerle 6. yüzyılda Yunan Akademisi de kapatılmıştır.

Buna göre aşağıdakilerden hangisi Hristiyan felsefesiyle ilgili doğru bir bilgi değildir?

- A) Doğanın bilimsel yöntemle anlaşılması gerektiği benimsenmiştir.
- B) Kutsal metinlerin doğruluğu merkeze alınmıştır.
- C) Din merkezli düşünce görülmüştür.
- D) Din akıldan üstün tutulmuştur.

10. **Aşağıdakilerden hangisi İslam felsefesinin genel özelliklerinden değildir?**

- A) Batı felsefesini etkilemiştir.
- B) Felsefenin gelişimine katkı sağlamıştır.
- C) Akıl, iman ve inanç gibi konular tartışılmıştır.
- D) Kendinden önceki felsefelerden bağımsız bir düşüncedir.

11. **Aşağıdakilerden hangisi İslam felsefesinin "irade özgürlüğü problemi"ne yönelik bir ifadedir?**

- A) Erdemli hayat, ahlaki açıdan ideal olan devlette gerçekleşir.
- B) Varlığı başka bir varlığa muhtaç olmayan, ezeli ve ebedî varlık Tanrı'dır.
- C) İnsan özgürdür, akli ve iradesiyle eylemlerini kendi seçer.
- D) Evrende yaratılan şeylerin bir yaratıcısı olması zorunludur.

12. Gerçek olan tek şeyin madde, onun da ezeli ve ebedî olduğunu savunan görüştür. Dolayısıyla bu akım filozofları Tanrı'nın varlığını kabul etmez. İbnü'r Râvendî, önemli temsilcilerdendir.

Bu bilgiler İslam felsefesinin aşağıdaki görüşlerinden hangisine aittir?

- A) Tabiiyun (Natüralistler)
- B) Dehriyye (Materyalist)
- C) İhvanı Safa
- D) Bâtınilik

13. El Kindî, vahiy bilgilerinin akılla şekillenen felsefi bilgilerle aynı amaçta olduğunu belirtir. İki bilgi de hakikatin bilgisine ulaştırır. Gerçeğin bilgisini felsefenin verebileceğini ileri sürer.

Bu parçadan hareketle El Kindî için inancın temelinde aşağıdakilerden hangisi yer alır?

- A) Akıl
- B) Yarar
- C) Deney
- D) Duygu

14. Skolastik, 2-15. yüzyıl felsefesinin sonunda Hristiyan felsefesi için kullanılan terimdir. Terim anlamı "okul felsefesi" dir. Dönemin sonunda açılan üniversiteler, skolastik felsefenin en iyi anlaşıldığı yer olmuştur. Skolastik felsefe, Hristiyanlık inancının öğretilerini akılla anlaşılır kılma çabasının sonucudur. Felsefi açıklamalar dinsel kabullerin doğrultusunda yapılmaktadır. Akıl-inanç probleminde aklın yetersizliği vurgulanmış, bu eksikliğin inançla tamamlanabileceği düşünülmüştür. Sadece aklın değil, bireyin de yetersizliği söz konusu olduğundan kiliseye tam bağlılığın esas alınması gerektiği savunulmuştur.

Bu parçadan hareketle aşağıdakilerden hangisi skolastik düşüncenin özelliğidir?

- A) Birey ön plana çıkmıştır.
- B) Bilim, felsefenin kılavuzudur.
- C) Toplumsal hayat dünyevidir.
- D) Hayatın tüm unsurları dine bağlıdır.

15. Rönesans, diğer birçok alana olduğu gibi MS 2-15. yüzyıl Hristiyan düşüncesinde şekillenen bilim anlayışına da karşı çıkmıştır. Hristiyan düşüncesi, bilimde deney ve gözlem yerine otorite kabul ettiği bilgilerle bilimsel konularda açıklama yapmaya çalışmıştır. Rönesans düşüncesi ise bilimde otorite olmuş bilgilere değil; deney, gözlem ve hesaplanabilir bilimsel çalışmalara yönelmiştir.

Bu parça 15-17. yüzyıllar arasında öne çıkan aşağıdaki konulardan hangisine yönelik bir açıklamadır?

- A) Hümanizm (İnancılık)
- B) Kartezyen felsefe
- C) Bilimsel yöntem
- D) Hukuk felsefesi

16. **Aşağıdakilerden hangisi 15-17. yüzyıl felsefesinde öne çıkan düşünürlerdendir?**

- A) Descartes
- B) Platon
- C) Sokrates
- D) Thales

17. Akıl, tabiata aykırı olan hiçbir şey istemeyeceği için, herkesin kendi kendisini sevmesini, kendi faydasını, kendisine gerçekten faydalı olan şeyi aramasını, insanı gerçekten daha büyük bir yetkinliğe götüren her şeye karşı iştahı olmasını ve mutlak olarak söylenirse herkesin kendisinde bulunduğu kadar kendi varlığını korumaya çalışmasını ister.

Buna göre aşağıdakilerden hangisi insan tabiatına uygun değildir?

- A) Varlığını koruma çabası
- B) Faydasını düşünmesi
- C) Kendisini sevmesi
- D) Dünyevi yaşamdan uzaklaşması

18. Descartes'a göre yaratan ve yaratılan olmak üzere iki töz vardır. Yaratan töz kendinden başka hiçbir şeye ihtiyacı olmayan ve her şeyi yaratan sonsuz tözdür. Yaratılan töz ise birbirine indirgenemeyen iki alt tözden oluşan ve aynı zamanda sonlu olan ruh ve madde tözleridir.

Bu parçadan hareketle Descartes'ın varlık anlayışıyla ilgili aşağıdakilerden hangisine ulaşılamaz?

- A) Yaratan töz kendi kendine yeten varlıktır.
- B) Ruh ve madde yaratılan tözlerdir.
- C) Yaratan töz bölünemezdir.
- D) Varlık, yaratan töz ve yaratılan tözler olarak ayrılır.

19. İnsanın toplumsal yapısının bir yönü olan dil alanındaki ön yargılara "çarşı-pazar idollerini" denir. Burada sözcüklerin kullanımıyla oluşan farklı anlamların yarattığı yanılsamalar vardır.

Buna göre aşağıdakilerden hangisi çarşı-pazar idollerine örnektir?

- A) Fırtınanın öfkeli olarak algılanması
- B) Bir kişinin "En güzel müzik halk müziğidir." demesi
- C) "Canavar" kelimesinin herkes için farklı anlamlar içermesi
- D) Ürün reklamlarında bilim insanlarının kullanılması

20. Evrenin merkezine Güneş taht kurmuştur. Güneş gerçekten tahtına kurulmuş sultan gibi çevresinde dolaşan gezegenleri, çocukları gibi yönetir.

Bu söz aşağıdaki bilim insanlarından hangisine aittir?

- A) Ptolemy
- B) Kopernik
- C) Galilei
- D) Bacon

1. OTURUM

(132) TARİH – 2

- Orta Asya'nın en eski kültür merkezi aşağıdakilerden hangisidir?
A) Tagar B) Anav
C) Karasuk D) Andronova
- Türklerin kurduğu ilk teşkilatlı devlet aşağıdakilerden hangisidir?
A) Hazar Devleti
B) Kutluk Devleti
C) Uygur Devleti
D) Asya Hun Devleti
- Tarihte "Türk" adını ilk kez resmi devlet adı olarak kullanan devlet aşağıdakilerden hangisidir?
A) I. Kök Türk Devleti
B) İtil Bulgar Devleti
C) Ak Hun Devleti
D) Uygur Devleti
- Uygurlar Mani dinini hangi hükümdar döneminde kabul etmiştir?
A) Baga Tarkan
B) Böğü Kağan
C) Moyen Çor Kağan
D) Kutluk Bilge Kül Kağan
- Aşağıdakilerden hangisi ilk Türk devletlerinde "aile" anlamına gelmektedir?
A) Boy B) Urug
C) Budun D) Oguş
- İlk Türk devletlerinde, devlet işlerinin görüşülüp karara bağlandığı meclise ne ad verilmiştir?
A) Toygun B) İi
C) Aygucı D) Kurultay
- Aşağıdakilerden hangisi ilk Türk devletlerinde hükümdarların kullandıkları unvanlardandır?
A) Han B) Toy
C) Kut D) Tuğ
- Aşağıdakilerden hangisi Orta Asya Türk göçlerinin ekonomik nedenlerindedir?
A) Çin ve Moğol baskısı
B) Bağımsız yaşama arzusu
C) Türk boyları arasındaki mücadeleler
D) Nüfusun artması ve otlakların yetersiz kalması

- Türk ordusunda "onlu sistem" ilk defa aşağıdaki hükümdarlardan hangisi tarafından kurulmuştur?
A) Mukan Kağan
B) Mete Han
C) Bayan Han
D) Bumin Kağan
- İslam öncesi Arap Yarımadası'nda haram aylarda yapılan savaşlara ne ad verildi?
A) Uhud B) Ficar
C) Hendek D) Mute
- Abbasilerde devletin askerî işlerine bakan divan aşağıdakilerden hangisidir?
A) Divanü'l-ceyş
B) Divanü'l-berid
C) Divanü'l-tevki
D) Divanü'l-beytülmal
- Mekke, Medine ve Suriye'yi egemenliğine alarak kutsal topraklara sahip olan ilk Türk Devleti aşağıdakilerden hangisidir?
A) Karahanlılar B) Fatimiler
C) Eyyubiler D) İhşidiler
- "İkinci Öğretmen" lakabıyla anılan Müslüman ilim adamı aşağıdakilerden hangisidir?
A) Farabi B) İbn-i Rüşd
C) İmam Gazali D) İbn-i Sina
- İslamiyet'in Hindistan'da yayılmasını sağlayan Türk Devleti aşağıdakilerden hangisidir?
A) Tolunoğulları B) Büyük Selçuklu
C) Gazneliler D) Osmanlı
- İlk Türk-İslam Devletlerinde hükümdarların kendi ad ve lakaplarının yazılı olduğu süslemeli özel giysilere ne ad verildi?
A) Nevbet B) Tıraz
C) Tuğra D) Yuğruş
- Divân-ı Lugât't-Türk adlı eser kim tarafından yazılmıştır?
A) Hoca Ahmet Yesevi
B) Yusuf Has Hacib
C) Kaşgarlı Mahmut
D) Edip Ahmet

- Abbasi Halifesi aşağıdakilerden hangisini "Doğunun ve Batının Hükümdarı" olarak ilan etmiştir?
A) Tuğrul Bey B) Çağrı Bey
C) Selçuk Bey D) Arslan Bey
 - Anadolu'nun kapılarının Türklere açıldığı savaş aşağıdakilerden hangisidir?
A) Dandanakan B) Talas
C) Malazgirt D) Katvan
 - Büyük Selçuklu Devleti'nde "Sultan-ı Azam" unvanını alan hükümdar aşağıdakilerden hangisidir?
A) Berkayaruk
B) Alp Arslan
C) Sultan Melikşah
D) Sultan Sencer
 - Büyük Selçuklu Devleti'nde Nizamiye Medresesi ilk olarak aşağıdaki şehirlerden hangisinde açılmıştır?
A) Şam B) Kahire
C) Bağdat D) Medine
- ### (136) SEÇMELİ TARİH – 2
- İmparatorlukların yıkılmasında etkili olan "milliyetçilik" fikir akımı aşağıdakilerden hangisi ile yayılmıştır?
A) Fransız İhtilali B) Sanayi İnkılabı
C) Rönesans D) Reform
 - "1848 İhtilalleri" ilk olarak nerede başlamıştır?
A) Avusturya B) İspanya
C) Rusya D) Sicilya
 - Özel teşebbüse ve piyasa serbestliğine dayalı olan ekonomik sistem aşağıdakilerden hangisidir?
A) Sosyalizm B) Kapitalizm
C) Merkantilizm D) Komünizm
 - Üçüncü Selim Dönemi'nde kurulan orduya ne ad verilmiştir?
A) Nizam-ı Cedid
B) Asâkir-i Mansûre-i Muhammediye
C) Sekban-ı Cedid
D) Yeniçeri Ocağı

1. OTURUM

5. **Mekteb-i Tıbbiye hangi Osmanlı padişahı döneminde kurulmuştur?**

- A) I. Murat B) II. Selim
C) II. Mehmet D) II. Mahmut

6. **Osmanlı Devleti'nin 18. yüzyılda girdiği savaşların çoğunda yenilmesi hangi alanda ıslahat yapılmasını gerekli kılmıştır?**

- A) İdari B) Ekonomik
C) Askerî D) Sağlık

7. **Aşağıdakilerden hangisi Islahat Fermanı'nda yer alan düzenlemelerden değildir?**

- A) Bütün uyruklar için vergi eşitliğinin sağlanması
B) Bütün memurluklar ve okulların herkese açık olması
C) Müslüman olmayanların da askere alınması
D) Tüm halka seçme ve seçilme hakkının verilmesi

8. **Birinci Meşrutiyet hangi Osmanlı padişahı döneminde ilan edilmiştir?**

- A) II. Abdülhamit B) Abdülaziz
C) V. Murat D) III. Selim

9. **Aşağıdakilerden hangisi endüstriyel üretimin özelliklerinden değildir?**

- A) Üretimde makineleşme ön plandadır.
B) Üretim küçük atölyelerde sınırlı sayıda gerçekleştirilir.
C) Üretimde gelişmiş teknolojiler kullanılır.
D) Üretim araçlarının mülkiyeti fabrika sahibine aittir.

10. **Düyûn-ı Umûmiye İdaresi aşağıdakilerden hangisinin sonucunda kurulmuştur?**

- A) Sened-i İttifak
B) Kanun-i Esasi
C) Tanzimat Fermanı
D) Muharrem Kararnamesi

11. **İkinci Abdülhamit Dönemi'nde rüştiye ve idadilerin yaygınlaştırılması aşağıdaki alanların hangisi ile ilgilidir?**

- A) Siyasi B) Ekonomi
C) Eğitim D) Tarım

12. **Aşağıdakilerden hangisi Osmanlı Devleti'nde sanayiye güçlendirme ye yönelik tedbirlerdendir?**

- A) Esnaf şirketlerinin kurulması
B) Batılı tüccarlara kapitülasyonlar tanınması
C) Tımar sisteminin kaldırılması
D) Müsadere usulünün uygulanması

13. **Osmanlı Devleti'nde meşrutî monarşiye geçiş aşağıdakilerden hangisi ile sağlanmıştır?**

- A) Kanun-i Esasi'nin ilanı
B) 31 Mart Olayı
C) 1913 Babıâli Baskını
D) Mürur Tezkiresi'nin yayımlanması

14. **Avrupa'da makineleşme ilk olarak endüstrinin hangi alanında başlamıştır?**

- A) Kimya B) Tekstil
C) Gıda D) Çimento

15. "1831-1882" yılları arasında Osmanlı Devleti'nde Anadolu'daki Müslüman nüfusu ikiye katlanmıştır.

Bu durumun temel sebebi aşağıdakilerden hangisidir?

- A) Yönetim sistemindeki değişiklikler
B) Kaybedilen topraklardan gelen göçler
C) Halkın köyden kente göç etmesi
D) Vergi gelirlerinin azalması

16. "1877-1878 Osmanlı-Rus Savaşı'nın diğer adı aşağıdakilerden hangisidir?

- A) Kırım Savaşı
B) Balkan Savaşı
C) Trablusgarp Savaşı
D) 93 Harbi

17. **Türkleri Balkanlardan atmak Boğazları ele geçirmek ve sıcak denizlere inmek amacıyla Panslavizm politikasını izleyen devlet aşağıdakilerden hangisidir?**

- A) Avusturya B) İtalya
C) Rusya D) İngiltere

18. **Aşağıdakilerden hangisi Sanayi İnkılabı'nın sonuçlarından değildir?**

- A) İşçi sınıfının ortaya çıkması
B) Ulus devletlerin kurulması
C) Üretim şeklinin değişmesi
D) Üretimin artması

19. **Osmanlı Devleti'nde Hicaz Demir Yolu hangi şehirler arasında inşa edilmiştir?**

- A) Şam - Medine
B) İzmir - Aydın
C) Şam - Erzurum
D) İzmir - Ankara

20. **Aşağıdakilerden hangisi XIX. yüzyılda Avrupa'daki hızlı şehirleşmenin ortaya çıkardığı bir sorun değildir?**

- A) Konut yetersizliği
B) Hava kirliliği
C) Eğitimin gelişmesi
D) Su sıkıntısı

(151) COĞRAFYA – 1

1. Kutup bölgelerinde yaşayan hayvanlar genelde uzun beyaz tüylerle kaplı deriye sahipken sıcak çöllerdeki hayvanlar ise çoğunlukla susuzluğa dayanıklı olup arazinin rengine uyan derileri tüysüzdür.

Bu bilgiye göre aşağıdakilerden hangisi doğrudur?

- A) Kutuplarda hayvan türü sayısı azdır.
B) Kutuplarda bitki örtüsü gelişmemiştir.
C) Doğal şartlar canlıların özelliklerini etkiler.
D) Çöl canlılarının suya ihtiyacı yoktur.

2. **Kristof Kolomb, Magellan ve Vasco de Gama'nın seyahatlerinde yararlandığı Coğrafya Rehberi adlı eserin sahibi olan Eski Çağ'ın gök bilimcisi ve matematikçisi aşağıdakilerden hangisidir?**

- A) Tales B) Uluğ Bey
C) Strabon D) Batlamyus

3. Güneş ışınlarının yere düşme açısı Ekvator'dan kutuplara doğru gidildikçe daralır. Buna bağlı olarak sıcaklık değerleri de kutuplara gidildikçe azalmaktadır.

Aşağıdakilerden hangisi bu durumla ilgili değildir?

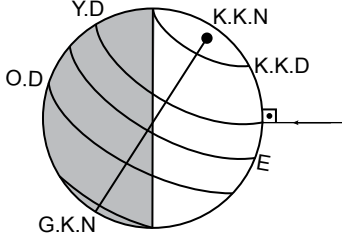
- A) Çizgisel hızın kutuplara gidildikçe yavaşlaması
B) Tarım yapılan üst sınırın kutuplara doğru gidildikçe deniz seviyesine yaklaşması
C) Denizlerdeki tuzluluk oranının kutuplara doğru azalması
D) Kutuplara gidildikçe geniş yapraklı ağaçların yerlerini iğne yapraklılara bırakması

1. OTURUM

4. Aşağıdakilerden hangisi 3 Ocak ve 4 Temmuz'da astronomik açıdan yaşanan bir durumdur?

- A) Kuzey Yarım Küre'de yaz mevsimi başlar.
- B) Dünya'nın Güneş'e en yakın ve en uzak olduğu zamanlardır.
- C) Dünya'nın her yerinde gece ve gündüz süresi eşitlenir.
- D) Yengeç Dönencesi'nde öğle vakti cisimlerin gölgesi oluşmaz.

5.



Dünya, Güneş'e karşı şekilde belirtilen konumda iken aşağıdaki günlerden hangisi yaşanır?

- A) 21 Aralık
- B) 21 Mart
- C) 23 Eylül
- D) 21 Haziran

6. Türkiye'nin en kuzeyi ile en güneyinde yer alan iki nokta arasındaki kuş uçuşu mesafeyi hesaplamak için gerekli olan bilgi aşağıdakilerden hangisidir?

- A) Bu noktalarından geçen meridyen değerleri
- B) Türkiye yüz ölçümünün sayısal değeri
- C) Bu noktalarından geçen paralel değerleri
- D) Türkiye'nin başlangıç meridyenine olan uzaklığı

7. Türkiye'nin özel konum özelliklerinden hangisi uluslararası ulaşım da önemli bir ülke olmasına katkı yapmaz?

- A) Ortalama yükseltisinin fazla olması
- B) Üç tarafının denizlerle çevrili olması
- C) Orta Doğu ve Avrupa arasında köprü olması
- D) İstanbul ve Çanakkale Boğazlarına sahip olması

8. Türkiye haritası üzerinde aksine bir uyarı işareti yoksa haritanın üst kısmı hangi ana yönü gösterir?

- A) Doğu
- B) Kuzey
- C) Batı
- D) Güney

9. Aşağıdaki yerlerin haritaları eşit ölçülere sahip kâğıtlara tam sığacak şekilde çizilirse hangisinin ölçeği daha büyük olur?

- A) Avrupa Kıtası'nın
- B) Doğu Anadolu Bölgesi'nin
- C) Anadolu Yarımadası'nın
- D) Cumalıkızık Köyü'nün

10. Renklendirme yöntemiyle çizilen fiziki haritalarda yeşil tonlar deniz seviyesine yakın yükseltinin az olduğu yerleri, kahverengi ve tonları ise yükseltinin arttığı alanları göstermektedir.

Buna göre Türkiye fiziki haritasında yer alan aşağıdaki ovaların hangisinde yeşil tonlar hâkimdir?

- A) Erzincan Ovası
- B) Çukurova
- C) Ankara Ovası
- D) Yüksekova

11. Aşağıdakilerden hangisi atmosferin etkilerinden biri değildir?

- A) Yer çekimi gücünün kutuplara doğru artmasını sağlar.
- B) Dünyanın aşırı ısınmasını ve soğumasını engeller.
- C) Güneş ışınlarını dağıtarak karanlık yerleri aydınlatır.
- D) Canlılar için zararlı Güneş ışınlarını engeller.

12. Aşağıdakilerin hangisinde iklimin doğal çevre üzerindeki etkisi insan faaliyetlerini şekillendirmemiştir?

- A) Kurak bölgelerde genellikle su ihtiyacı fazla olan tarım bitkileri sulama ile yetiştirilebilir.
- B) Bol yağış alan yerlerde buna uygun konutlar yapılır.
- C) Gece gündüz sıcaklık farkı fazla olan yerlerde taşlar mekanik çözülür.
- D) Yaz mevsimi sıcak ve uzun geçen sahil şehirlerinde turizm gelişmiştir.

13. Güneş ışınları, Dünya atmosferine ulaştıktan sonra aşağıdakilerden hangisi gerçekleşmez?

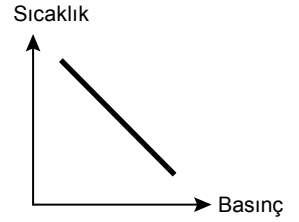
- A) Bir kısmı erimeye uğrar.
- B) Bir kısmı kırılmaya uğrar.
- C) Bir kısmı yansımaya uğrar.
- D) Bir kısmı yeryüzünü ısıtır.

14. Sıcaklığın yeryüzüne dağılışında etkili olan unsurlardan biri de güneşlenme süresidir. Ülkemizde Akdeniz Bölgesi ile Güney Doğu Anadolu Bölgeleri güneşlenme süresinin uzun olduğu yerlerdir.

Buna göre aşağıdaki merkezlerden hangisinde güneşlenme süresi daha kısadır?

- A) Hatay
- B) Mardin
- C) Mersin
- D) Ağrı

15. Basınç ve sıcaklık arasındaki bağlantı grafikte gösterilmektedir.



Bu grafiğe göre aşağıdakilerden hangisi doğrudur?

- A) Sıcaklık arttıkça basınç artar.
- B) Sıcaklık arttıkça basınç düşer.
- C) Sıcaklık azaldıkça basınç düşer.
- D) Sıcaklık ve basınç arasında bağlantı yoktur.

16. Aşağıdaki rüzgârlardan hangisi gece ile gündüz arasındaki sıcaklık farkından oluşmakta ve gün içerisinde yön değiştirmektedir?

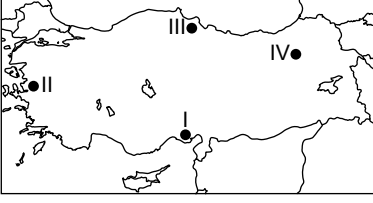
- A) Alizeler
- B) Batı rüzgârları
- C) Meltemler
- D) Musonlar

17. Aşağıdakilerden hangisi Ekvatorial iklim ve görüldüğü yerlere ait bir özellik değildir?

- A) Yükselim yağışları görülür.
- B) Bulutluluk oranı fazladır.
- C) Gür ormanların gelişmesini sağlar.
- D) Yıllık ve günlük sıcaklık farkı fazladır.

1. OTURUM

18 ve 19. soruları Türkiye haritasına göre cevaplayınız.



18. Türkiye haritasında numaralanmış yerlerde bulunan ovalardan hangisine 21 Haziran günü öğle vakti güneş ışınları dik olarak gelir?

- A) I B) II C) III D) IV

19. Doğu Anadolu'da yer alan IV numaralı ova için aşağıdakilerden hangisi söylenebilir?

- A) Diğer ovalara göre yükseltisi daha azdır.
B) Ortalama sıcaklık değerleri daha düşüktür.
C) Karın yerde kalma süresi daha kısadır.
D) Tarımsal ürün çeşitliliği daha fazladır.

20. Ege Bölgesi'nde dağların denize dik uzanması deniz etkisinin iç kısımlarına sokulmasını kolaylaştırır.

Buna göre aşağıdakilerden hangisi bu tür dağlardandır?

- A) Küre B) Bolkar
C) Aydın D) Giresun

(155) SEÇMELİ COĞRAFYA – 1

1. Aşağıdakilerden hangisi Paleocoğrafya biliminin inceleme alanına girer?

- A) Tam bir günün kaç saatten oluştuğu
B) Buzul çağındaki iklim değişimleri
C) Suyun canlılar için önemi
D) Üreticilerin güneşten gelen enerjiyi kullanma biçimi

2. Doğada karbon döngüsü sırasında bitkilerin, güneş ışığıyla birlikte karbondioksiti kullanması sonucu aşağıdakilerden hangisi oluşur?

- A) Alg B) Azot
C) Oksijen D) Biyom

3. Aşağıdakilerden hangisi suya karışırsa bitki yaşamı için tehlike oluşturmaz?

- A) Nükleer atıklar
B) Hayvan gübresi
C) Tarım ilaçları
D) Fabrika atıkları

4. Aşağıdakilerden hangisi nüfus artış hızını yükseltmeye yönelik politikalar uygulamaktadır?

- A) Hindistan B) Endonezya
C) Malezya D) Kanada

5. Ülkelerin, gelecekteki eğitim, sağlık, güvenlik, iş kolları vb. alanlardaki ihtiyaçlarını planlanması için aşağıdakilerin hangisinden yararlanması daha uygundur?

- A) Fiziki haritalardan
B) Siyasi haritalardan
C) Nüfus haritalarından
D) Nüfus projeksiyonundan

6. Bölgesel etki alanına sahip Amsterdam şehri - - - fonksiyonunun gelişmişliğiyle ön plandadır.

Bu cümlede boş bırakılan yere aşağıdakilerden hangisinin gelmesi daha uygundur?

- A) dini B) eğitim
C) liman D) maden

7. Aşağıdakilerden hangisinin ticari fonksiyonu diğerlerine göre daha az gelişmiştir?

- A) Gaziantep B) İzmir
C) Soma D) Bursa

8. Aşağıdakilerden hangisi geçici yerleşme tiplerindedir?

- A) Bağ evi B) Köy
C) Divan D) Mahalle

9. Güneş, toprak, petrol ve orman gibi doğal kaynaklar hakkında aşağıdaki bilgilerden hangisi yanlıştır?

- A) Güneş, tükenmeyen daimi bir enerji kaynağıdır.
B) Toprak, pek çok canlının yaşam alanıdır.
C) Orman, belli şartlarda yenilenebilen kaynaklardandır.
D) Petrol, diğerlerine göre temiz bir enerji kaynağıdır.

10. Aşağıdaki doğal kaynaklardan hangisi canlı yaşamının devamı için gerekli değildir?

- A) Su B) Hava
C) Kömür D) Güneş

11. Aşağıdakilerden hangisi Cumhuriyet kurulduktan sonra 1932-1950 yılları arasında uygulanan politikalardandır?

- A) Nüfus artış hızının düşürülmesi
B) Karma ekonomi sisteminin benimsenmesi
C) Ham madde ithalatına öncelik verilmesi
D) Özelleştirmelerin yaygınlaştırılması

12. İç Anadolu'da uygulanmakta olan bölgesel kalkınma projesi aşağıdakilerden hangisidir?

- A) DOKAP B) GAP
C) DAP D) KOP

13. Aşağıdakilerden hangisi Güneydoğu Anadolu Projesi'nin uygulama alanına giren tarım ürünlerinden biri değildir?

- A) Çay
B) Pamuk
C) Sebze ve meyveler
D) Antep fıstığı

14. Nüfusun yoğun veya tarım alanlarının az olduğu yerlerde tarımsal üretimden yüksek verim elde etmeyi amaçlayan yöntem aşağıdakilerden hangisidir?

- A) Münavebeli B) Nöbetleşe
C) İntansif D) Ekstansif

15. Aşağıdakilerden hangisi Türkiye'de ticari olarak yetiştirilemeyen bir hayvan türüdür?

- A) Sığır B) Keçi
C) Tavuk D) Ren geyiği

16. Organik tarımın amacı aşağıdakilerden hangisidir?

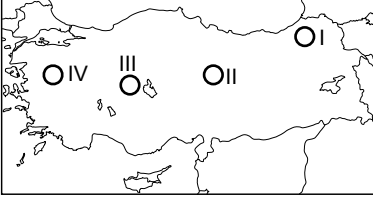
- A) Kimyasal gübre kullanımını artırmak
B) Doğal dengeyi bozmadan üretim yapmak
C) Biyolojik mücadeleyi tarımsal ilaçlarla yapmak
D) Bir bölgede mono kültür tarımını geliştirmek

1. OTURUM

17. Seracılık faaliyetlerini kolaylaştıracak koşullar için aşağıdakilerden hangisi doğrudur?

- A) Kış sıcaklık ortalamasının 0 °C'nin altına düşmediği
- B) Nüfus yoğunluğunun çok yüksek olduğu
- C) Sanayi faaliyetlerinin yoğun olduğu
- D) Karla kaplı gün sayısının fazla olduğu

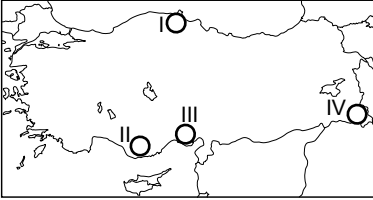
18.



Türkiye haritasında numaralanmış yerlerin hangisinde buğday üretimi daha azdır?

- A) I B) II C) III D) IV

19.



Türkiye haritasında numaralanmış alanların hangisinde sanayi daha çok gelişmiştir?

- A) I B) II C) III D) IV

20. Demir çelik işletmesi kurulması planlanan bir alanda aşağıdakilerden hangisi aranmaz?

- A) Rezerv miktarının fazla olması
- B) Yerleşmelerin geçici olması
- C) Sermayenin yeterli olması
- D) Ulaşımının kolay olması

(157) SEÇMELİ COĞRAFYA – 3

1. Ekstrem olayların oluşum kökeni değişiklik göstermektedir.

Buna göre, hangi ekstrem olayın oluşum kökeni farklıdır?

- A) Depremlerin
- B) Tsunamilerin
- C) Volkanik olayların
- D) Meteor düşmesinin

2. Aşağıdakilerden hangisi kuraklığın sonuçlarındandır?

- A) Tarım arazilerinin verimi düşer.
- B) Hidroelektrik enerjisi üretimi artar.
- C) Su kaynaklarının rezervi artar.
- D) Orman yangınları azalır.

3. Aşağıdakilerden hangisi çölleşmeyi önlemek için alınabilecek tedbirlerden biri değildir?

- A) Ağaçlandırma çalışmalarının yapılması
- B) Kaynak kullanımında israftan kaçınılması
- C) Meralarda hayvanların aşırı otlatılması
- D) Su kaynaklarının korunması

4. Asya kıtasında bulunan Aral Gölü'nün suları aşağıdaki tarım ürünlerinden hangisinin üretiminde aşırı kullanıldığı için zamanla azalmıştır?

- A) Çay B) Kahve
- C) Pamuk D) Turunçgiller

5. Ülkeler küresel ısınmayı önlemek için sera gazı salınımını 1990 yılındaki verilerin %5'inin altına düşürmeyi aşağıdakilerin hangisinde kararlaştırmıştır?

- A) Hükümetler arası İklim Değişikliği Paneli'nde
- B) Paris İklim Anlaşması'nda
- C) Kyoto Protokolü'nde
- D) Ramsar Sözleşmesi'nde

6. Aşağıdakilerden hangisi göç alan yerlerde görülen olumlu gelişmelerdendir?

- A) Çarpık kentleşmenin ortaya çıkması
- B) İş gücü potansiyelinin artması
- C) Çevre sorunlarının artması
- D) Yeşil alanların azalması

7. 1940 yılında Raman Dağı'nda petrol bulunduğundan sonra bu bölgenin ve yakın çevresinin yoğun göç almasıyla büyük bir yerleşme hâline dönüşmüş, 1990 yılında il yapılmıştır.

Bu metinde sözü edilen il aşağıdakilerden hangisidir?

- A) Batman B) Elazığ
- C) Malatya D) Kayseri

8. Dikey tarım metodunun amacı aşağıdakilerden hangisidir?

- A) Girdi maliyetlerini artırmak
- B) Mera alanlarını tarıma açmak
- C) İnsan gücüne olan bağıllığı artırmak
- D) Birim alandan en yüksek verimi almak

9. Aşağıdakilerden hangisi teknolojik gelişmelerin olumsuz sonuçlarındandır?

- A) Ulaşım hizmetlerinin çeşitlenmesi
- B) Doğal kaynakların daha hızlı tükenmesi
- C) Kültürel etkileşimin artması
- D) Küresel ticaretin artması

10. Ülkemizin nüfus, yerleşme, istihdam vb. alanlarda sayısal verilerini tutan, güncelleyen ve yayımlayan kurum aşağıdakilerden hangisidir?

- A) Türkiye İstatistik Kurumu
- B) Karayolları Genel Müdürlüğü
- C) Meteoroloji Genel Müdürlüğü
- D) Köy Hizmetleri Genel Müdürlüğü

11. Aşağıdakilerden hangisi ülkemizde bölgeler arası ekonomik farklılıkların ortaya çıkma nedenlerinden biri değildir?

- A) Yeraltı kaynaklarının farklılık göstermesi
- B) Kıyı ile iç kesimlerde iklimin farklı olması
- C) Nüfus miktarı veya yoğunluğunun değişmesi
- D) Petrol yataklarına sahip ülkelere komşu olunması

12. Aşağıdakilerden hangisi "YHGP, DOKAP, ZBK" bölgesel kalkınma projelerinin ortak özelliklerindedir?

- A) Aynı tarım ürününün yetiştirilmesinin amaçlaması
- B) Hizmet sektörünün geliştirilmesine öncelik verilmesi
- C) Karadeniz Bölgesi'nde hayata geçirilmesi
- D) Hayvancılığın ön plana çıkarılmak istenmesi

13. Güneydoğu Anadolu Projesi'nin sulama projelerinin tamamlanmasıyla aşağıdaki tarım ürünlerinden hangisinin üretiminde artış beklenmektedir?

- A) Buğday
- B) Antep fıstığı
- C) Yaş sebze ve meyve
- D) Yeşil mercimek

1. OTURUM

14. Aşağıdakilerden hangisi Doğu Anadolu Projesi'nin hazırlanmasında (Ortak Girişim) yer alan üniversitelerden biri değildir?

- A) Fırat Üniversitesi
B) İnönü Üniversitesi
C) Atatürk Üniversitesi
D) İstanbul Üniversitesi

15. Ulaşım sektörüyle ilgili aşağıdakilerden hangisi yanlıştır?

- A) Günlük hayatın akışını sağlar.
B) Gelir dağılımını bozar.
C) Üretim sektörlerini geliştirir.
D) İstihdam alanını genişletir.

16. Ülkemizdeki mevcut kara yollarının genişletilmesi ve yol ağının artırılmasının öncelikli nedeni aşağıdakilerden hangisidir?

- A) Deniz yolu ulaşımının yetersiz olması
B) Hava yolu taşımacılığının pahalı olması
C) Boğazdaki gemi yoğunluğunun artması
D) Trafiğe çıkan taşıt sayısının artması

17.



Verilen yerlerin hangisinde demir yolu hattı bulunmamaktadır?

- A) Ankara B) Antalya
C) İzmir D) Adana

18. Aşağıdakilerden hangisi küresel ticaretin geliştiği Uzak Doğu ülkelerindedir?

- A) Japonya B) Almanya
C) İngiltere D) Fransa

19. Aşağıdakilerden hangisi dünyada e-ticaretin hızla yaygınlaşmasının nedenlerinden biri değildir?

- A) Reklam harcamalarının azalması
B) Genel Ağ kullanımının yaygınlaşması
C) Ödeme sistemlerinin gelişmesi
D) Teknolojinin gelişmesi

20. Aşağıdakilerden hangisi ülkemizde yat turizminin geliştiği yerlerdendir?

- A) Aydıncık B) Bozyazı
C) Marmaris D) Anamur

(181) İNGİLİZCE – 1

1 - 17. sorularda boş bırakılan yere uygun gelen kelime ya da ifadeyi işaretleyiniz.

1. A ---- is a person who writes plays for the theatres.

- A) representative
B) playwright
C) dentist
D) clerk

2. I cook different kinds of meals every day but my sister ----.

- A) isn't B) hasn't
C) doesn't D) didn't

3.

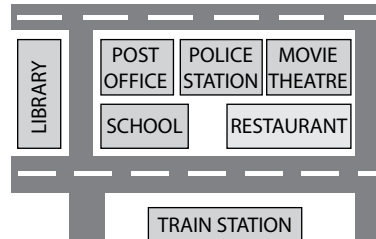
NAME	Sandra
OCCUPATION	dancer
NATIONALITY	? ----

- A) Spanish B) Argentina
C) Germany D) Bulgaria

4. I have got a dog. ---- name is Şeftali.

- A) It B) It's
C) It is D) Its

5.



Meghan : Excuse me! Can you tell me where the ---- is?

Susan : It is between the movie theatre and the post office.

- A) police station B) train station
C) school D) restaurant

6. I have got a big family. We love ---- together.

- A) travel B) travelled
C) travelling D) will travel

7. My sister is a ----. She works in a hospital.

- A) poet B) nurse
C) mechanic D) carpenter

8. Musicals are not my thing because I find them ----.

- A) enjoyable B) gripping
C) interesting D) dull

9. My mum grows organic vegetables in her garden ----.

- A) tomorrow B) every summer
C) next year D) yesterday

10. To protect the nature, we should ---- plastic, glass, paper and metal.

- A) recycle B) plant
C) hunt D) prefer

11. I don't find TV serials educational. I think ----.

- A) they enlarge my point of view
B) I enjoy watching them
C) I learn lots of interesting things
D) they waste my time

12. Arren : ---- ?

Bill : We can plant more trees.

- A) What can we do to prevent erosion
B) How long can we survive without water
C) What kind of materials can we recycle
D) How can we prevent the waste of electricity

13. ---- are extreme, sudden events caused by environmental factors that injure people and damage properties.

- A) Human settlements
B) Fault lines
C) Natural disasters
D) Mountainous lands

1. OTURUM

14. **Angela** : - - - - seeing a movie tonight?
Arthur : Great idea!
- A) Let's B) Shall we
 C) Why don't we D) How about

15. **Melinda** : - - - -?
Abby : He is of medium height and slim.
- A) Is Amir Khan a director
 B) What does Amir Khan look like
 C) What does Amir Khan like
 D) Has Amir Khan got long hair

16. **Ashton** : Would you like to eat out tonight?
Ashley : Sure, - - - -.
- A) that sounds lovely
 B) I have an exam
 C) that is a bad idea
 D) I have other plans

17. **Father** : Where is Betsy?
Mother : She - - - - her homework in her room at the moment.
- A) did B) will do
 C) does D) is doing

18. "The twentieth of January, two thousand nineteen" **ifadesinin rakamla karşılığı aşağıdakilerden hangisidir?**
- A) 21.01.2012 B) 20.01.2019
 C) 12.01.2019 D) 12.01.2020

19 - 20. soruları tabloya göre cevaplayınız.

	SALLY	SUSAN	SANDY
Age	25	23	21
Height	1.75 cm	1.80 cm	1.60 cm

19. **Sally is the - - - - girl of all.**
- A) best B) oldest
 C) fattest D) shortest
20. **Susan is - - - - than Sandy.**
- A) the taller B) tall
 C) taller D) the tallest

(181) ALMANCA – 1

1 - 9. sorularda boş bırakılan yere uygun gelen kelime ya da ifadeyi işaretleyiniz.

1. **A:** Wann hat Frau Öztürk Zeit?
B: Sie hat - - - - Dienstag - - - - 09.00 Uhr Zeit.

- A) am / im B) im / um
 C) an / in D) am / um

2. **Ich - - - - mein Gesicht.**

- A) wasche B) spiele
 C) macht D) fahre

3. **Ich habe einen Onkel, drei Tanten und zwei Cousinsen.**

Das sind meine - - - -.

- A) Geschwister B) Eltern
 C) Kinder D) Verwandten

4. **Ayşe hat Durst. Sie - - - - sich eine Flasche Mineralwasser.**

- A) bestellt B) backt
 C) braten D) kaufen

5. **A:** Woher kommt Ahmet?
B: - - - -

- A) Er kann nicht Deutsch.
 B) Sie ist eine Deutschin.
 C) Er kommt aus Deutschland.
 D) Sie spricht Deutsch.

6. - - - - Brot, - - - - Käse

- A) der / die B) den / das
 C) die / der D) das / der

7. **Ahmet hat Hunger. Er - - - - etwas essen.**

- A) müssen B) muss
 C) müsst D) musst

8. **Ich habe - - - - Bruder und - - - - Schwester.**

- A) eine / ein B) einen / eine
 C) ein / ein D) einen / einen

9.



Mein Traumberuf ist - - - -.

- A) Kellner
 B) Apothekerin
 C) Krankenschwester
 D) Journalist

10.



Was macht Yusuf?

- A) Er schreibt. B) Er schläft.
 C) Er singt. D) Er spielt Klavier.

11.



Wie spät ist es?

- A) Es ist halb acht Uhr.
 B) Es ist sieben Uhr.
 C) Es ist halb sieben Uhr.
 D) Es ist acht Uhr.

12. **Aşağıdakilerden hangisi ayrılabilen bir fiil değildir?**

- A) anziehen B) aufstehen
 C) fernsehen D) frühstücken

13. **Aşağıdakilerden hangisi sıfat değildir?**

- A) interessant B) spannend
 C) langweilig D) finden

1. OTURUM

14.



Was macht Ayça?

- A) Sie putzt ihre Zähne.
- B) Sie fährt Fahrrad.
- C) Sie schreibt einen Brief.
- D) Sie frühstückt.

15. "32" sayısının Almanca yazılışı aşağıdakilerden hangisidir?

- A) zweiundzwanzig
- B) zweiunddreißig
- C) dreizehn
- D) dreiundzwanzig

16.



Was ist Frau Arslan von Beruf?

- A) Sie ist eine Mutter.
- B) Sie ist eine Türkin.
- C) Sie ist eine Lehrerin.
- D) Sie ist dreiundvierzig Jahre alt.

17. "alt" sıfatının zıt anlamı aşağıdakilerden hangisidir?

- A) klein
- B) neu
- C) dick
- D) schlecht

18. Was machen die Schüler im Kunstunterricht?

- A) malen
- B) schwimmen
- C) rechnen
- D) schlafen

19. Aşağıdakilerden hangisi okulun bölümlerinden biri değildir?

- A) das Klassenzimmer
- B) die Bibliothek
- C) das Sprachlabor
- D) die Schultasche

20.



Was ist das?

- A) Das ist eine Landkarte.
- B) Das ist ein Papierkorb.
- C) Das ist eine Kreide.
- D) Das ist eine Schere.

(181) FRANSIZCA – 1

1 - 18. sorularda boş bırakılan yere uygun gelen kelime ya da ifadeyi bulunuz.

1. **Mireille** : Comment s'appellent tes frères jumeaux ?

Pierre : - - - - .

- A) Elles vont bien, merci
- B) Elles ont 20 ans
- C) Ils s'appellent Luc et Jean
- D) Non, ils ne sont pas musiciens

2. **Sibel** : Qui est-ce ? Tu la connais ?

Sandra : Oui, c'est - - - - .

- A) mes amis français
- B) mon oncle
- C) mon amie italienne
- D) mon directeur

3. **Ma fille n'aime pas travailler. Elle est - - - - .**

- A) fatigué
- B) paresseuse
- C) impatient
- D) jaloux

4. **Vendeur** : - - - - ?

Client : Je fais du 42.

- A) Je peux essayer ces chaussures
- B) Ça coûte combien ces chaussures de sport
- C) Que mangez-vous à midi
- D) Quelle est votre pointure

5. **Professeur** : Sophie a mal aux dents ?

Sarah : - - - - .

- A) Non, elle a mal aux oreilles
- B) Elle est dentiste dans une clinique
- C) Elle aime bien ce chocolat
- D) Oui, elle part à Nice

6. **Marie fait ses études - - - - Tokyo, - - - - Japon.**

- A) aux / au
- B) en / à
- C) à / au
- D) à / en

7. **Le mari de ma grand-mère, c'est - - - - .**

- A) mon oncle
- B) mon grand-père
- C) ma mère
- D) ma fille

8. **Le supermarché - - - - je fais les courses est au centre-ville.**

- A) que
- B) où
- C) dont
- D) qui

9. **Anne** : Ta cousine a de beaux yeux bleus ?


Arda : Oui, - - - - a de beaux yeux bleus.

- A) elle
- B) toi
- C) ils
- D) nous

10. **Sinop - - - - au nord de la Turquie.**

- A) se réveille
- B) se lave
- C) se prépare
- D) se trouve

11.



Le matin, je me lève à - - - - .

- A) dix heures moins six
- B) six heures moins dix
- C) dix heures et demie
- D) six heures dix

12. **Tous les enfants - - - - les mains avant le repas.**

- A) s'appellent
- B) se trouvent
- C) se promènent
- D) se lavent

13. **Gül** : Comment est-ce que tu rentres chez toi ?

Gilles : - - - - .

- A) Ah oui, j'ai peur de l'avion.
- B) Le matin, le train part à 7h.
- C) Eh bien, je prends le métro.
- D) Mais non, j'y vais avec ma mère.

1. OTURUM

14. **Mon amie est très malade, alors** - - - -.

- A) il peut faire ses devoirs
- B) elle ne peut pas aller à l'école
- C) elle peut partir en vacances
- D) il peut danser toute la nuit

15. **Derya** : Tu vas - - - - le dentiste?
Pierre : Oui, j'ai mal - - - - dents.

- A) chez / aux
- B) à / au
- C) en / de
- D) avec / à

16. **J'écris dans mon cahier avec** - - - -.

- A) mes yeux
- B) mes dents
- C) mes mains
- D) mes oreilles

17. **Au petit déjeuner, les Français mangent** - - - - **croissants et boivent** - - - - **café.**

- A) du / de la
- B) des / au
- C) de la / du
- D) des / du

18. **En été,** - - - - **à Adana.**

- A) il fait très froid
- B) il neige souvent
- C) il fait très chaud
- D) il n'y a pas de soleil

19. (I) habite / (II) parents / (III) Patrick / (IV) avec / (V) ses

Numaralanmış sözcüklerin kurallı ve anlamlı bir cümle oluşturan sırası aşağıdakilerden hangisidir?

- A) IV – II – V – I – III
- B) I – III – V – IV – II
- C) II – IV – III – V – I
- D) III – I – IV – V – II

20. "Dans notre jardin, il y a 92 arbres." **cümlesindeki altı çizili sayının yazılışı aşağıdakilerin hangisinde doğru olarak verilmiştir?**

- A) quatre-vingt-deux
- B) quatre-vingt-douze
- C) quarante-deux
- D) quatre-cent-douze

(222) SAĞLIK BİLGİSİ VE TRAFİK KÜLTÜRÜ – 2

1. • Sürücülerin, yağmurlu havalarda yayaların yanından özenle geçmesi
• Karlı bir havada zincir takmak için uğraşan bir sürücüye bu konuda daha deneyimli bir başka sürücünün yardım etmesi

Verilen davranışlar aşağıdakilerden hangisiyle ilgilidir?

- A) Hız ihlali
- B) Geçiş hakkı
- C) Trafik adabı
- D) Yazılı kurallar

2. **Okul servis araçlarında güvenli bir yolculuğun gerçekleşmesi için öğrencilerin uyması gereken kurallarla ilgili aşağıdakilerden hangisi doğrudur?**

- A) Araç hareket hâlindeyken ayağa kalkmak
- B) Araca yaşı küçük, hasta veya engelli öğrencilerden önce binmek
- C) Araçların arkasından karşıya geçmeye çalışmak ve aracın arkasında durmak
- D) Araca bindikten sonra oturup emniyet kemerini bağlamak

3. • Yolun yayalara kapalı olduğunu gösterir.
• Bu ışık yanmakta iken yayaların taşıt yoluna girmelerinin yasak olduğunu bildirir.

Verilen bilgiler aşağıdaki ışıklı işaret cihazlarından hangisiyle ilgilidir?

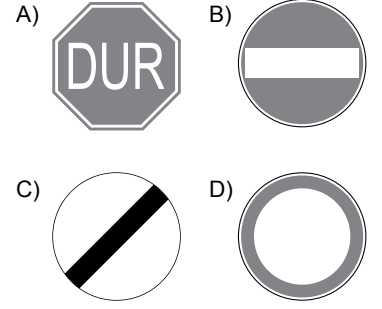
- A) Yaya simgeli yeşil ışık
- B) Yaya simgeli kırmızı ışık
- C) Aralıklı yanıp sönen sarı ışık
- D) Aralıklı yanıp sönen kırmızı ışık

4. **Şekildeki trafik işareti sürücüye neyi bildirir?**



- A) Gizli buzlanmayı
- B) Yolda çalışmayı
- C) Dönel kavşağı
- D) Gevşek malzemeli zemini

5. **Aşağıdaki trafik işaret levhalarından hangisi "girişi olmayan yol" anlamındadır?**




6. **Aksine bir hüküm veya işaret bulunmadıkça sürücülerin kara yollarında aşağıdakilerden hangisini yapması doğrudur?**

- A) İşaret vermeden şerit değiştirmesi
- B) İki yönlü ve üç şeritli yollarda en sol şeride girmesi
- C) Araçların cinsine ve hızına uygun olan şeritten gitmesi
- D) Kavşaklara yaklaşırken yerleşim yerlerinde 30 metre mesafe içinde şerit değiştirmesi

7. **Tehlikeli madde taşıyan araç sürücüleri, yerleşim birimleri dışındaki kara yollarında diğer araçları en az kaç metre mesafeden takip etmek zorundadırlar?**

- A) 20
- B) 30
- C) 40
- D) 50

8.

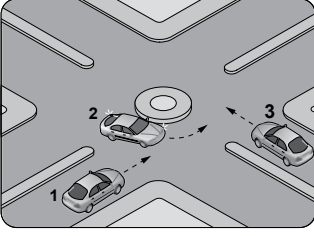


Aksine bir işaret yoksa verilen aracın yerleşim yeri dışındaki şehirler arası çift yönlü kara yollarında uyması gereken yasal azami hızı kaç km/sa. tir?

- A) 50
- B) 80
- C) 90
- D) 100

1. OTURUM

9.



Şekle göre araçların geçiş hakkı sıralaması aşağıdakilerden hangisidir?

- A) 1 - 2 - 3 B) 2 - 1 - 3
C) 2 - 3 - 1 D) 3 - 2 - 1

10. Aşağıdaki araçlar bir kavşakta karşılaştıklarında geçiş üstünlüğünü ilk önce hangisi kullanmalıdır?

- A) Ambulans
B) İtfaiye
C) Yol yapım araçları
D) Güvenlik güçlerine ait araçlar

11. Aşağıdakilerden hangisi özel motorlu taşıt sürücü kurslarında kursiyerlere uygulamalı olarak verilen derstir?

- A) Trafik adabı
B) Araç tekniği
C) Trafik ve çevre
D) Direksiyon eğitimi

12. Aşağıdakilerden hangisi 2017 yılından sonra B sınıfı sürücü belgesini almaya hak kazanan bir kişinin kullanabileceği araçlardandır?

- A) Minibüs
B) Otomobil
C) Otobüs
D) Kamyon ve çekici

13. Aşağıdakilerden hangisinde sürücü veya yolcular emniyet kemeri kullanmak zorundadır?

- A) Şehirler arası otobüs yolculuğunda
B) 25 km/sa.i geçmeyen hızla geri gidildiğinde
C) Görev ya da ekip çalışması ile özel pozisyonlarda bulduklarında
D) Yerleşim yeri içinde, servis araçları hariç, ticari amaçla yolcu taşımacılığı yapan minibüslerde

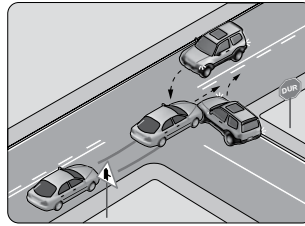
14. Yer altı treni, tramvay ve hızlı tren gibi ulaşım araçlarında güvenli bir yolculuk için uyulması gereken kurallarla ilgili aşağıdakilerden hangisi yanlıştır?

- A) Trenden inenlere öncelik tanınması
B) Koridorların ve ara geçiş kapılarının gereksiz yere meşgul edilmesi
C) Demir yolu hattına inilmemesi ve bu hatlarda karşıdan karşıya geçilmemesi
D) Peronlarda belirlenmiş emniyetli bölgenin (sarı çizgi) içinde beklenmesi

15. Aşağıdakilerden hangisi, trafikte yayaların sürücüler tarafından fark edilmelerini sağlamak için alacağı karanlık ve gece karanlığında alması gereken önlemlerdendir?

- A) Üzerinde yansıtıcı kıyafetler ve aksesuarlar bulundurmak
B) Fark edilmeyi sağlayacak koyu renkli kıyafetler giymek
C) Yolun iki tarafında banket olduğu durumlarda gidiş yönüne göre sağ banketten yürümek
D) Yolun iki tarafında yaya yolu veya banket olmadığı veya bunların kullanılmadığı durumlarda gidiş yönüne göre taşıt yolunun sağından yürümek

16.



Şekildeki trafik kazasının aşağıdaki unsurlardan hangisine bağlı olarak meydana geldiği kesinlikle söylenir?

- A) Yol B) Taşıt
C) İnsan D) Çevre

17. Aşağıdakilerden hangisi trafik kazalarına neden olan kural ihlallerinden biri değildir?

- A) Kavşaklarda sollama yapmak
B) Takip mesafesini korumak
C) Kırmızı ışıkta geçmek
D) Aşırı hız yapmak

18. Aşağıdakilerden hangisi trafik kazası sonucu bedenen ve ruhen engelli kalan bireylere yapılan rehabilitasyon hizmetlerinin amacıdır?

- A) Güvenli yolculuk için gerekli önlemler konusunda bilinç oluşturmak
B) Trafik güvenliği konusunda bilinçli ve sorumluluk sahibi bireyler yetiştirmek
C) Trafik düzenini sağlamak için insanlar arası dayanışmayı güçlendirici değerleri ön plana çıkartmak
D) Bireyin toplumda yeniden yaşaması, çalışması ve öğrenmesi için gerekli olan fiziksel, entelektüel ve duygusal becerileri kazandırmak

19. • LPG gibi alternatif yakıtların ve elektrik enerjisinin taşıtlarda kullanımının yaygınlaştırılması
• Motorlu taşıtlarda egzoz emisyonlarının istenen değerlere çekilebilmesi için otomobilin egzoz çıkış borusuna bağlanan ve zararlı gaz emisyonunu azaltan cihazın (katalitik konvertör) kullanımının teşvik edilmesi

Trafik kaynaklı çevre kirliliğini en aza indirmek için alınacak önlemlerle ilgili verilenler doğru (D) - yanlış (Y) olarak değerlendirildiğinde sıralama aşağıdakilerden hangisi olur?

- A) D - Y B) Y - D
C) D - D D) Y - Y

20. Aşağıdakilerden hangisi bisiklet kullanımının çevreye sağladığı katkılardandır?

- A) Canlılara verilen zararları azaltır.
B) Stres ve depresyonu engeller.
C) Kilo verilmesini ve yağların yakılmasını sağlar.
D) Tansiyon hastalıklarına yakalanma riskini azaltır.

1. OTURUM

(244) İNGİLİZCE – 5

1 - 20. sorularda boş bırakılan yere uygun gelen kelime ya da ifadeyi işaretleyiniz.

1. Jessica is a ---- person. She always has original ideas.

- A) confident B) punctual
C) creative D) boring

2. Successful business people are ---- and ---- so they reach their goals.

- A) ambitious / competitive
B) unconfident / unpractical
C) ambitious / unpractical
D) competitive / unconfident

3. Arthur : It is very hot in here.
Angela : I ---- open the window for you.

- A) prefer B) will
C) would D) am going to

4.

I hope I ---- travel around the world and see many different places in the future.



- A) must B) am going to
C) would D) will

5. Every year, many students go to foreign ---- for education.

- A) countries
B) languages
C) occupations
D) nationalities

6. A / an ---- designs medical devices and biological implants.

- A) vet
B) manager
C) consultant
D) biomedical engineer

7. I have saved money. I ---- a new car.

- A) bought
B) am going to buy
C) will buy
D) buy

8. Daniel : Are you ---- at cooking?

Eva : No. I dislike it, but my sister is a great cook.

- A) interested B) gifted
C) good D) keen

9. My teacher had an accident and ---- both of her legs two years ago.

- A) broke B) felt
C) left D) drew

10. ---- is a hobby that you use needles and yarn. You can make sweaters, pullovers etc.

- A) Pottery
B) Snowboarding
C) Knitting
D) Photography

11. Pete : Can we meet at five o'clock tomorrow?

Mary : ---- It suits me.

- A) What a pity!
B) I'm not in my mood.
C) Not that much.
D) It is a good idea.

12. Andy : My mother sprained her ankle.

Alex : Oh, my gosh! ----?

Andy : She was running.

- A) How did it happen
B) What was she cutting
C) Why did she steal it
D) Where was she doing sports

13. Peter used to ---- TV in his free time but now he reads books.

- A) watch B) watching
C) watched D) was watching

14. "Gifted" means ----.

- A) shy B) quiet
C) popular D) talented

15. I'd rather do poetry ---- take photographs because I like making creative things.

- A) to B) than
C) at D) of

16. Alan : What ---- at 7 o'clock yesterday?

Brian : I was watching a football match on TV.

- A) did you do
B) will you do
C) are you doing
D) were you doing

17. Marie Curie ---- from Sorbonne University as the top student of her class in 1894.

- A) was born B) was awarded
C) graduated D) diagnosed

18. When I got home, the children had ---- gone to bed.

- A) always B) already
C) never D) since

19. I had a car accident yesterday. I wish I ---- more carefully.

- A) drive B) drove
C) am driving D) had driven

20. If Jack had started training earlier, he ---- the race last Sunday.

- A) won
B) will win
C) would win
D) would have won

1. OTURUM

(244) ALMANCA – 5

1 - 16. sorularda boş bırakılan yere uygun gelen kelime ya da ifadeyi işaretleyiniz.

1. Sie müssen für den Eintritt ins Museum 10 Lira - - - - .

- A) besuchen B) bezahlen
C) erlaubt D) bekommt

2. Anja : Warum ist Erika müde?
Saffet : - - - - .

- A) Sie will lange schlafen
B) Sie wird sich mit ihren Freunden treffen
C) Weil sie einen anstrengenden Tag hatte
D) Sie hat keinen Plan für heute

3. Lehrer : Warum hast du dich verspätet?

Schülerin: Ich habe den Bus - - - - .

- A) verpasste B) verpasst
C) verpassten D) verpassen

4. Mehmet und Hasan waren - - - - ihren Freunden.

- A) bei B) zu C) beim D) vom

5. Eray : - - - - hat Esmâ die Einladung bekommen?

Klaus : Sie hat es von ihrer Oma bekommen.

- A) Aus wen B) Bei der
C) Von wem D) Nach der

6. Mein Vater hat eine Reise nach Spanien - - - - .

- A) diskutiert B) telefonieren
C) fotografieren D) organisiert

7. Hans: Ich suche eine Wohnung.

Hans sagt, dass er eine Wohnung

- - - - .

- A) sucht B) suchten
C) suchen D) suchst

8. Sevim : Wohin hängt deine Schwester ihre Kleider?

Zeynep: Sie hängt sie - - - - Schrank.

- A) auf die B) in den
C) an das D) aus der

9. Man kann eine Wohnung - - - - .

- A) parken B) essen
C) kaufen D) trinken

10. A: - - - - steht das Motorrad?

B: Es steht in der Garage.

- A) Wohin B) Wie
C) Was D) Wo

11. viel, - - - - , am meisten

- A) viele B) mehr
C) vieles D) mehrere

12. Ich kann genauso schnell laufen - - - - mein Bruder.

- A) so B) als C) wie D) ob

13. Die Schüler freuen - - - - auf die Sommerferien.

- A) sich B) mich
C) dich D) uns

14.



Elif hat sich erkältet. Sie fühlt sich schlecht. - - - - geht sie zum Arzt.

- A) Daraus B) Damit
C) Daran D) Deshalb

15. Ahmet wollte Auto fahren, aber er - - - - nicht, weil er keinen Führerschein hatte.

- A) darf B) dürft
C) durfte D) durften

16. Ali denkt - - - - die Ferien, die er in Spanien verbracht hatte.

- A) zu B) an C) aus D) von

17. Aşağıdakilerden hangisi bir spor türü değildir?

- A) Fußball B) Golf
C) Handball D) Hausaufgaben

18. Aşağıdaki fiillerden hangisinin zıt anlamı yanlış verilmiştir?

- A) aufmachen × zumachen
B) einpacken × auspacken
C) einsteigen × aussteigen
D) anziehen × umziehen

19. Aşağıdakilerden hangisi ayrılabilen bir fiildir?

- A) ankommen B) empfehlen
C) erleben D) verlieren

20.



Wofür interessiert sich Ergün?

- A) Er interessiert sich für Radfahren.
B) Er freut sich auf das Geschenk.
C) Er geht gern spazieren.
D) Er ärgert sich über das Ergebnis.

1. OTURUM

(244) FRANSIZCA – 5

1 - 18. sorularda boş bırakılan yere uygun gelen sözcük ya da ifadeyi bulunuz.

1. **David** : Quel est le métier de Jean ?
Murat : - - - - .
- A) Il est toujours souriant
B) Il fait de l'escalade en été
C) Il aime jouer au jeu de dames
D) Il est informaticien
2. **Pierre n'a peur de rien. Il est - - - - .**
- A) jalouse B) grande
C) courageux D) travailleuse
3. - - - - animal as-tu chez toi ?
- A) Quels B) Quelle
C) Quel D) Quelles
4. **Selin est très intelligente et travailleuse. Elle a - - - - appris le français.**
- A) facilement B) lentement
C) difficilement D) impoliment
5. **Qu'est-ce que tu dis ? Je ne - - - - comprends pas.**
- A) vous B) lui
C) me D) te
6. **Je suis la tante de Marie. Elle est - - - - .**
- A) ma mère
B) ma nièce
C) ma grand-mère
D) mon oncle
7. **Demain, nous - - - - le 8 juillet.**
- A) êtes B) serons
C) avons été D) étions

8. **Sylvie est grande, rousse et elle a les yeux - - - - .**
- A) bleues B) bleue
C) bleus D) bleu
9. **Aline** : J'adore les fleurs.
Alain : - - - - ?
- A) Lesquels B) Desquelles
C) Lesquelles D) Lequel
10. **Mon frère a besoin d'un médicament. Il va chez - - - - .**
- A) le boulanger
B) le pâtissier
C) la bijoutière
D) la pharmacienne
11. **David** : - - - - de ces cravates neuves aimerais-tu mettre pour la fête ?
Mireille : - - - - .
- A) Lequel / La verte
B) Lesquelles / Les bleus
C) Laquelle / La jaune
D) Lesquels / Les noires
12. **Je viens de rencontrer le journaliste - - - - a écrit cet article.**
- A) qui B) où C) dont D) que
13. **Le match a été annulé - - - - la pluie.**
- A) pour B) à cause de
C) comme D) car
14. **Patiente** : Comment je peux lutter contre l'obésité ?
Diététicien : - - - - .
- A) Ne limitez pas la consommation de produits sucrés
B) On ne doit pas changer son mode de vie
C) D'abord, il faut arrêter l'alimentation déséquilibrée
D) Il ne faut pas faire d'activités physiques

15. **Ma mère a des invités ce soir, donc elle va - - - - pour acheter des gâteaux.**
- A) chez le pâtissier
B) à la bijouterie
C) chez la pharmacienne
D) à la boucherie
16. **Les piétons doivent - - - - au feu vert.**
- A) attendre B) s'arrêter
C) traverser D) monter
17. **Pour faire des crêpes, il faut - - - - farine, - - - - œufs et un peu - - - - lait.**
- A) de / du / de la B) des / des / du
C) du / de la / de D) de la / des / de
18. **Excuse-moi, mais je ne te comprends pas. Parle plus - - - - s'il te plaît !**
- A) vite
B) difficilement
C) dangereusement
D) lentement
19. (I) Dans tous les pays du monde, il y a des gestes de communication.
(II) Ces gestes sont très différents d'une culture à l'autre.
(III) C'est pourquoi, il peut y avoir des problèmes de compréhension.
(IV) Beaucoup de gens font du régime pour perdre leurs kilos en trop.
- Verilen cümleler sırasıyla okunduğunda anlam bütünlüğünü bozan cümle aşağıdakilerden hangisidir?**
- A) I B) II C) III D) IV

20.



Aşağıdakilerin hangisinde görseli tam olarak anlatan bir ifade verilmiştir?

- A) Elle est derrière le fauteuil et elle lit.
B) Elle est devant l'ordinateur et elle écrit.
C) Elle est en face de la table et elle dort.
D) Elle est chez elle et elle fait le ménage.

1. OTURUM

(421) FİZİK – 1

1. Evrendeki olayları sebep sonuç ilişkisiyle birbirine bağlayan madenin temel özellikleri ve yapı taşlarını arayan evrendeki düzenliliği keşfetmeye çalışan bilim dalı hangisidir?

- A) Felsefe B) Fizik
C) Biyoloji D) Tarih

2. "Atomun yapısındaki proton ve elektronların sahip oldukları elektrik yükleri ve etkileşimleri, oluşturdukları elektrik alan ve elektriksel kuvveti inceler."

Bu ifade fizik biliminin hangi alt dalı ile ilgilidir?

- A) Atom Fiziği
B) Yüksek Enerji ve Plazma Fiziği
C) Elektrik
D) Manyetizma

3. Fizik biliminin alt dallarından biri olan dalgalar ve optik alanındaki gelişmeler sonucu hangi cihazlar geliştirilmiştir?

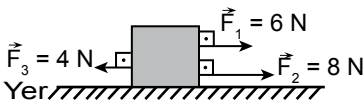
- A) Lazer yazıcılar
B) Mikrodalga fırınlar
C) Şarj edilebilir piller
D) Floresan lambalar

4. Temel büyüklükler cinsinden ifade edilen diğer büyüklüklere türetilmiş büyüklük adı verilir.

Buna göre aşağıdakilerden hangisi türetilmiş büyüklüktür?

- A) Zaman
B) Sıcaklık
C) Özkütle
D) Işık şiddeti

5. Bir sandık üç kişi tarafından $\vec{F}_1 = 6\text{ N}$, $\vec{F}_2 = 8\text{ N}$ ve $\vec{F}_3 = 4\text{ N}$ 'luk kuvvetlerle şekildeki gibi yön ve doğrultuda çekilmektedir.



Buna göre sandığa etki eden bileşke kuvvet kaç N'dur?

- A) 8 B) 10 C) 14 D) 18

6. Aşağıdakilerden hangisi skaler bir büyüklüktür?

- A) Marketten alınan 2 kg elma
B) Rüzgârın hızı doğuya doğru 5 m/s
C) Kutuya uygulanan kuvvet sola doğru 6 N
D) Araba 2 m/s² lik ivme ile kuzey yönünde gidiyor.

7. Türk Silahlı Kuvvetlerinin haberleşme ve cihaz ihtiyaçlarını karşılamak amacıyla 1975 yılında kurulan bilim araştırma merkezi hangisidir?

- A) TÜBİTAK
B) TAEK
C) NASA
D) ASELSAN

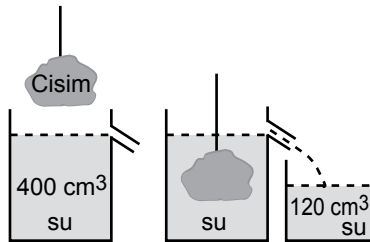
8. Uluslararası birim sisteminde aşağıdakilerden hangisi kullanılmaz?

- A) Arşın B) Saniye
C) Amper D) Mol

9. Kütleli 2 ton olan kamyon kaç kg'dır? (1 ton = 1000 kg)

- A) 0,2 B) 20 C) 200 D) 2000

10. İçinde 400 cm³ su bulunan taşıma kabına şekildeki gibi bir cisim bırakıldığında yanındaki kaba 120 cm³ su dökülüyor.



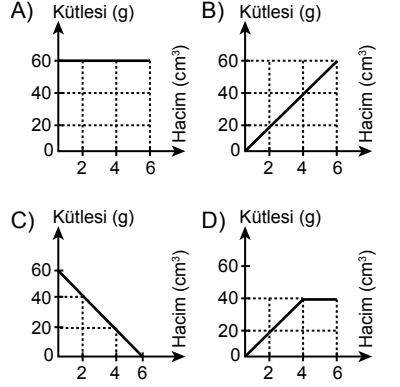
Buna göre cismin hacmi kaç cm³ tür?

- A) 120 B) 280 C) 320 D) 400

11. Küp şeklindeki bir cisme ait farklı kütle ve hacim değerleri tabloda verilmiştir.

Kütle (g)	20	40	60
Hacim (cm ³)	2	4	6

Buna göre cismin kütle-hacim grafiği hangisidir?



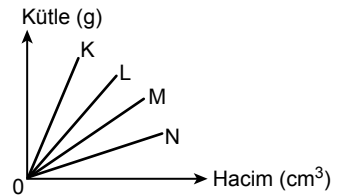
12. Bir dereceli kap 150 cm³ seviyesine kadar su dolu iken kabın içine bir kenarı 4 cm olan demir küp bırakılıyor.

Buna göre aşağıdakilerden hangisi doğrudur?

$$(V_{\text{küp}} = a^3)$$

- A) Su 154 cm³ seviyesine yükselir.
B) 50 cm³ su yer değiştirir.
C) 64 cm³ su yer değiştirir.
D) Su 204 cm³ seviyesine yükselir.

13.



Kütle hacim grafiği şekilde verilen K, L, M ve N maddelerinin hangisinin özkütlesi diğerlerine göre daha büyüktür?

- A) K B) L C) M D) N

14. Aşağıdaki uygulama alanlarının hangisinde özkütle farkından yararlanılmaz?

- A) Ayrandan tereyağı elde edilmesi
B) Kuyumculuk
C) Killi topraktan imal edilen porselen eşya
D) Dikiş dikmek (Terzilik)

1. OTURUM

15. Aşağıdaki hareket örneklerinden hangisinde aynı anda hem öteleme hem de dönme hareketi birlikte gerçekleşir?

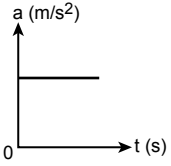
- A) Arının uçarken kanatlarının hareketi
B) Çalınan gitar telinin hareketi
C) Hızla ilerleyen bir arabanın tekerleklerinin hareketi
D) Salıncakta sallanan çocuğun hareketi

16. Bir öğrenci 2 km batı yönünde yürüdüktan sonra 3 km güneye daha sonra 2 km doğu yönünde yürüyüp hareketini tamamlıyor.

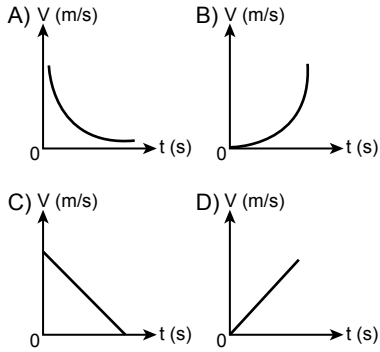
Buna göre öğrencinin yer değiştirmesi kaç km'dir?

- A) 2 B) 3 C) 5 D) 7

17. Durgun hâlden +x yönünde hareket eden bir aracın ivme-zaman grafiği verilmiştir.



Buna göre hız-zaman grafiği aşağıdakilerden hangisidir?



18. Atom çekirdeğinde yer alan proton ve nötronların bir arada durmasını sağlayan çok küçük boyutlarda rastlanan temel kuvvetlerin en şiddetli olan kuvveti aşağıdakilerden hangisidir?

- A) Güçlü nükleer kuvvet
B) Kütle çekim kuvveti
C) Zayıf nükleer kuvvet
D) Elektromanyetik kuvvet

19. 72 kg kütleyle sahip bir insanın ağırlığı kaç N'dir? ($g = 10 \text{ m/s}^2$)

- A) 0,72 B) 7,2
C) 720 D) 7200

20. Sürtünme kuvvetinin büyüklüğü ile ilgili;

- I. Sürtünen yüzeylerinin cinsine bağlıdır.
II. Sürtünen yüzeylerin alanına bağlıdır.
III. Sürtünen yüzeye etki eden toplam dik kuvvet ile doğru orantılıdır.

yargılarından hangileri doğrudur?

- A) Yalnız I B) I ve II
C) II ve III D) I ve III

(425) SEÇMELİ FİZİK – 1

1. Uzayda yönlendirilmiş doğru parçasına vektör denir.

Buna göre aşağıdakilerden hangisi vektörel büyüklüklerin ortak özelliklerinden biri değildir?

- A) Şiddet (büyüklük)
B) Başlangıç (uygulama) noktası olması
C) Doğrultu ve yönünün olması
D) Temel büyüklük olması

2. Kuvvet vektörü \vec{F} sembolü ile gösterilir.

Buna göre aşağıdakilerden hangisinin büyüklüğü (şiddeti) diğerlerine göre en küçüktür?

- A) $\frac{\vec{F}}{2}$ B) $-\vec{F}$
C) \vec{F} D) $2\vec{F}$

3. Paralel kenar yöntemi ile bileşke vektörün büyüklüğü (şiddeti) bulunurken $R^2 = F_1^2 + F_2^2 + 2 \cdot F_1 \cdot F_2 \cdot \cos \theta$ bağıntısı ile bulunur. O noktasına uygulanan kuvvetler $\vec{F}_1 = 3 \text{ N}$ ve $\vec{F}_2 = 5 \text{ N}$ aralarındaki açı 60° dir.

Buna göre bu iki kuvvetin bileşkesinin büyüklüğü (şiddeti) kaç N'dur?

- ($\sin 60^\circ = \frac{\sqrt{3}}{2}$ ve $\cos 60^\circ = \frac{1}{2}$)
A) 4 B) 6 C) 7 D) 8

4. Doğuya doğru aynı yönde giden iki arabadan, K arabasının hızı 60 km/h ve L arabasının hızı 20 km/h'tir.

Buna göre K arabasının L arabasına göre bağıl hızının büyüklüğü kaç km/h'tir?

- A) 20 B) 40 C) 60 D) 80

5. Akıntı hızı sabit ve $V_a = 3 \text{ m/s}$ olan bir nehirde, su motoru nehire göre $V_m = 8 \text{ m/s}$ hızla ters yönde yüzmektedir.

Buna göre nehirin kıyısında duran gözlemci su motorunun kaç m/s hızla gittiğini görür?

- A) 3 B) 4 C) 5 D) 8

6. Sürtünmeli yatay düzlemde $\vec{F} = 20 \text{ N}$ ' luk kuvvetle çekilen kutunun kütlesi $m = 5 \text{ kg}$ ' dir.

Kutu ile yüzey arasındaki sürtünme kat sayısı $k = 0,5$ olduğuna göre kutunun hareketi için aşağıdakilerden hangisi söylenebilir? ($g = 10 \text{ N/kg}$)

- A) Hareket etmez.
B) Sabit hızla kuvvet yönünde hareket eder.
C) İvmeli hareket eder.
D) Kuvvet ile ters yönde sabit hızla hareket eder.

7. Kütleli 50 kg olan Fatma yukarı doğru sabit 2 m/s^2 ivme ile hızlanan bir asansörde baskül ile tartıldığında basküldeki değeri kaç N olarak görür? ($g = 10 \text{ m/s}^2$)

- A) 300 B) 400 C) 500 D) 600

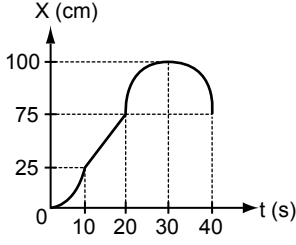
8. Bir hareketlinin hızı eşit zaman aralıklarında eşit miktarda artıyorsa hareketlinin yaptığı harekete düzgün hızlanan doğrusal hareket denir.

Buna göre aşağıdakilerden hangisi düzgün hızlanan harekete örnek olabilir?

- A) 200 km/h sabit hızla giden tren
B) Düzgün doğrusal hareket eden gemi
C) Trafik ışıklarında bekleyen, yeşil ışık yandığında hareket eden otobüs
D) 100 km/h hızla giderken fren yaparak duran araba

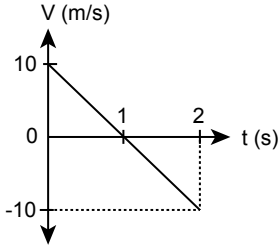
1. OTURUM

9. Bir arabanın konum-zaman grafiği verilmiştir.



Buna göre araba hangi zaman aralığında +x yönde düzgün yavaşlayan doğrusal hareket yapmıştır?

- A) 0 - 10 B) 10 - 20
C) 20 - 30 D) 30 - 40
10. Serbest düşen cismin hızı arttıkça hava direnci artacak ve bir süre sonra hava direnci cismin ağırlığına eşit olacaktır.
- Buna göre cisme etki eden net kuvvetin ve cismin ivmesinin sıfır olduğu andaki hızına ne ad verilir?
- A) Doğrusal hız B) Limit hız
C) Sıfır hız D) Yavaşlayan hız
11. Sürtünmenin önemsiz olduğu ortamda atış hareketi yapan bir cismin hız-zaman grafiği verilmiştir.



Buna göre cismin hareketi için aşağıdakilerden hangisi doğrudur? ($g = 10 \text{ m/s}^2$)

- A) Yukarı yönlü düşey atış hareketi yapmıştır.
B) Cismin çıkabileceği maksimum yükseklik 10 metredir.
C) Cismin uçuş süresi 1 saniyedir.
D) Yatay atış hareketi yapılmıştır.
12. Hava direncinin önemsiz olduğu ortamda, bir top yer seviyesinden yatayla 53° açı yapacak şekilde 50 m/s ilk hızla fırlatılıyor.

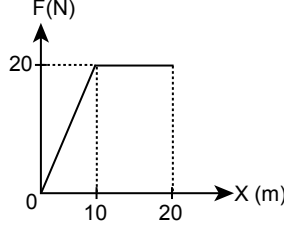
Buna göre topun uçuş süresi kaç saniyedir?

$$(\sin 53^\circ = 0,8, \cos 53^\circ = 0,6,$$

$$t_{\text{uç}} = \frac{2V_{0y}}{g} \text{ ve } g = 10 \text{ m/s}^2)$$

- A) 2 B) 4 C) 6 D) 8

13. Bir cisme etki eden kuvvetin-yer değiştirmeye bağlı grafiği verilmiştir.



Cisim üzerinde kuvvetin yaptığı iş, cismin kinetik enerji değişimine eşit olduğuna göre 20 m yer değiştirdikten sonra cismin kinetik enerji değişimi kaç J' dür?

- A) 100 B) 200 C) 300 D) 400

14. Hava sürtünmelerinin ihmal edildiği ortamda 2 kg kütleli bir cisim 5 m yüksekten serbest bırakılıyor.

Buna göre yere çarpma hızı kaç m/s olur? ($g = 10 \text{ m/s}^2$)

- A) 5 B) 10 C) 20 D) 25

15. Bir cisme uygulanan kuvvet ile kuvvetin uygulama süresinin çarpımına itme denir.

Buna göre itme ile ilgili aşağıdakilerden hangisi doğrudur?

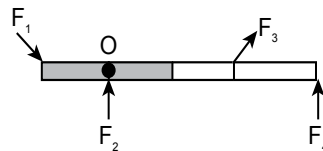
- A) Skaler bir büyüklüktür.
B) Birimi $\text{N}\cdot\text{m}$ 'dir.
C) Enerji değişimine eşittir.
D) Momentum değişimine eşittir.

16. Kuvvetin bir cismi bir eksen etrafında döndürme etkisine tork (moment) denir.

Buna göre aşağıdakilerden hangisi yanlıştır?

- A) SI' da tork birimi $\text{N}\cdot\text{s}$ 'dir.
B) SI' da tork birimi $\text{kg}\cdot\text{m}^2/\text{s}^2$ 'dir.
C) $\vec{\tau} = \vec{F}\cdot\vec{d}$ bağıntısı ile hesaplanır.
D) Vektörel bir büyüklüktür.

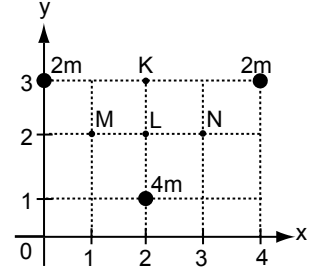
17. O noktası etrafında dönebilen çubuğa, $\vec{F}_1, \vec{F}_2, \vec{F}_3$ ve \vec{F}_4 kuvvetleri şekildedeki gibi etki ediyor.



Buna göre hangi kuvvetin döndürme etkisi yoktur?

- A) F_1 B) F_2 C) F_3 D) F_4

18. Türdeş ve düzgün kareli sistemde 2m, 2m ve 4m kütleli cisimler bulunmaktadır.



Buna göre, cisimlerin oluşturduğu sistemin ağırlık merkezi K, L, M ve N noktalarından hangi nokta üzerindedir?

- A) K B) L C) M D) N

19. Basit makinelerdeki kuvvet kazancı aşağıdakilerden hangisine eşittir?

- A) Yük X Kuvvet B) İş X Yük

- C) $\frac{\text{Yük}}{\text{Kuvvet}}$ D) $\frac{\text{Kuvvet}}{\text{İş}}$

20. Aşağıdaki basit makinelerden hangisi amacına uygun kullanıldığında kuvvetten kazanç sağlayabilir?

- A) Cımbız B) Tahterevalli
C) Sabit makara D) El arabası

(432) KİMYA – 2

1. Aşağıdaki maddelerden hangisi moleküler yapıya sahip bir elementtir?

- A) He B) Fe
C) CO_2 D) O_2

2. Aşağıdakilerden hangisi hem "kök" hem de "katyon" tanımlarına örnek olarak verilebilir?

- A) Ca^{2+} B) Br^-
C) NH_4^+ D) SO_4^{2-}

3. İki atom birbirine yaklaştığı zaman - - - - arasında çekme kuvveti oluşur.

Bu cümlede boş bırakılan yere aşağıdaki ifadelerden hangisi getirilmelidir?

- A) iki atomun elektronları
B) bir atomun protonu ile diğer atomun elektronları
C) iki atomun protonları
D) bir atomun nötronları ile diğer atomun elektronları

1. OTURUM

4. Periyodik sistem kesitinde Li ve Mg elementlerinin yerleri gösterilmiştir.

1A	
	2A
Li	
	Mg

Buna göre Li^+ ve Mg^{2+} iyonlarının Lewis formülleri aşağıdakilerin hangisinde doğru verilmiştir?

- A) $[\text{Li}\cdot]^+$ ve $[\cdot\text{Mg}\cdot]^{2+}$
- B) $[\text{Li}\cdot]^+$ ve $[\text{Mg}]^{2+}$
- C) $[\text{Li}]^+$ ve $[\text{Mg}]^{2+}$
- D) $[\cdot\text{Li}\cdot]^+$ ve $[\cdot\cdot\text{Mg}\cdot\cdot]^{2+}$

5. Aşağıda Lewis yapıları verilen element atomlarından hangisinin yapabileceği kovalent bağ sayısı **yanlıştır**?

Lewis yapısı	Kovalent bağ sayısı
A) $\cdot\text{B}\cdot$	3
B) $\cdot\text{C}\cdot$	4
C) $\cdot\text{N}\cdot$	5
D) $\cdot\text{O}\cdot$	2

6. CuCl_2 iyonik bileşiğinin adı aşağıdakilerden hangisidir?

- A) Bakır klorür
B) Bakır diklorür
C) Bakır (I) klorür
D) Bakır (II) klorür

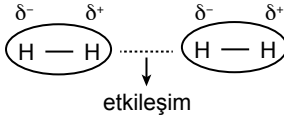
7. Metan molekülünün Lewis gösterimi aşağıda verilmiştir.



Buna göre metan ile ilgili aşağıdakilerden hangisi **yanlıştır**?

- A) Karbon atomu 8 değerlik elektronunu bağ yapımında kullanmıştır.
B) Molekül apolar yapıdadır.
C) Bağların her biri kovalent bağlıdır.
D) Atomların değerlik elektronlarının tamamı bağ oluşumunda kullanılmıştır.

8. Hidrojen molekülleri arasında anlık yük kutuplaşması ile kurulan etkileşim aşağıdaki gibi gösterilmektedir.



Buna göre gösterilen etkileşim aşağıdakilerden hangisidir?

- A) Dipol - dipol
B) İyon - dipol
C) Dipol - indüklenmiş dipol
D) İndüklenmiş dipol - indüklenmiş dipol

9. Aşağıdakilerden hangisi kimyasal değişim tepkimesidir?

- A) $\text{H}_2\text{O}(\text{s}) + \text{ısı} \rightarrow \text{H}_2\text{O}(\text{g})$
B) $2\text{NaCl}(\text{k}) + \text{ısı} \rightarrow 2\text{Na}(\text{g}) + \text{Cl}_2(\text{g})$
C) $\text{C}_2\text{H}_5\text{OH}(\text{s}) + \text{ısı} \rightarrow \text{C}_2\text{H}_5\text{OH}(\text{g})$
D) $\text{I}_2(\text{k}) + \text{ısı} \rightarrow \text{I}_2(\text{g})$

10. Maddenin hâl değişimi ile ilgili aşağıdakilerden hangisi doğrudur?

- A) Saf maddelerin erime sırasında sıcaklığı sabittir.
B) Yoğuşma, maddenin katı hâlden gaz hâle geçmesidir.
C) Sıvı hâldeki madde donarken ısı alır.
D) Madde ısı alıp hâl değiştirdikçe daha düzenli yapıya ulaşır.

11. Tanecikleri gelişigüzel dizilen katılara - - - - denir.

Bu cümlede boş bırakılan yere aşağıdakilerden hangisi gelmelidir?

- A) iyonik katı
B) moleküler katı
C) amorf katı
D) metalik katı

12. Aşağıdakilerden hangisi moleküler bir katıdır?

- A) Altın
B) Buz
C) Sofra tuzu
D) Elmas

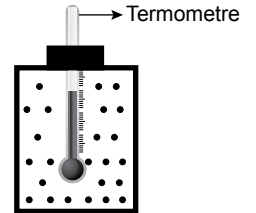
13. Aşağıdaki hangi madde çiftinin viskoziteleri arasında I > II ilişkisi vardır?

	I	II
A)	20 °C 'ta saf su	50 °C 'ta saf su
B)	20 °C 'ta saf su	20 °C 'ta zeytinyağı
C)	40 °C 'ta zeytinyağı	20 °C 'ta zeytinyağı
D)	40 °C 'ta saf su	20 °C 'ta zeytinyağı

14. Buhar basıncı ile ilgili aşağıdakilerden hangisi doğrudur?

- A) Bir sıvının sıcaklığı arttıkça buhar basıncı da artar.
B) Denge buhar basıncından bahsedilebilmesi için sıvı ağız açık kapta olmalıdır.
C) Buhar basıncı sadece sıvılar kaynarken oluşur.
D) Sıvı tanecikleri arasındaki etkileşim fazlaysa buhar basıncı da fazla olur.

15. Şekildeki ısı yalıtımlı kaptaki bir miktar gaz bulunmaktadır. Bu gazın sıcaklığı celsius termometre ile ölçüldüğünde 0 °C olarak görülmektedir.



Buna göre aynı şartlarda gazın sıcaklığı kelvin termometre ile ölçüldüğünde aşağıdaki değerlerden hangisi görülür?

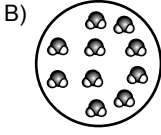
- A) 0 K
B) 100 K
C) 273 K
D) 373 K

1. OTURUM

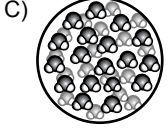
16. Aşağıdakilerin hangisinde 1 mol su modellenmiştir?



1 tane H₂O



10 tane H₂O

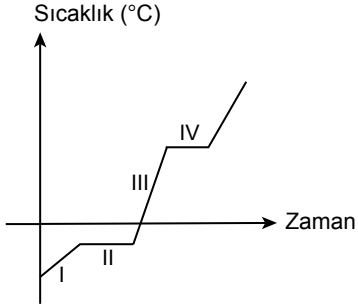


100 tane H₂O



6,02.10²³ tane H₂O

17. Saf bir maddenin hâl değişim grafiği aşağıda verilmiştir.



Buna göre aşağıdakilerden hangisi yanlıştır?

- A) I. bölgede madde katıdır.
B) II. bölgede maddenin sıcaklığı artmaktadır.
C) III. bölgede madde sıvıdır.
D) IV. bölgede madde kaynamaktadır.

18. Aşağıdaki iyonlardan hangisi suda yüksek miktarda bulunduğu süreye sert su olmasına sebep olur?

- A) Ca²⁺ B) Hg²⁺
C) Cu²⁺ D) Pb²⁺

19. Atmosferde bulunan gazların (H₂O, CO₂ gibi) ısıyı geçirme ve tutma özelliğine - - - - denir.

Verilen tanım cümlesinde boş bırakılan yere aşağıdakilerden hangisi getirilmelidir?

- A) küresel ısınma
B) sera etkisi
C) asit yağmurları
D) ozon tabakası

20. Aşağıdakilerden hangisi çevre kirliliğini önleyebilmek için sorumluluklarımız arasında yer alır?

- A) Fossil yakıtların kullanımını artırmak
B) Ulaşımında daha çok bireysel taşıtları tercih etmek
C) Geri dönüşüme uygun malzemeleri tercih etmek
D) Piller ve plastikler gibi kimyasal kirleticileri toprak altında bırakmak

(436) SEÇMELİ KİMYA – 2

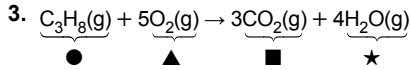
1. Aşağıdakilerden hangisi endotermiktir?

- A) CH₄ + 2O₂ → CO₂ + 2H₂O
B) 2H₂ + O₂ → 2H₂O
C) CaCO₃(k) → CaO(k) + CO₂(g)
D) H₂O(s) → H₂O(k)

2. Bileşiklerin standart şartlarda kararlı elementlerinden oluşması tepkimelerinde gerçekleşen entalpi değişimi standart oluşum entalpisi olarak adlandırılır.

Buna göre standart oluşum entalpisi ile ilgili aşağıdakilerden hangisi yanlıştır?

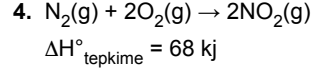
- A) Sıcaklık 25 °C olmalıdır.
B) Basınç 1 atm olmalıdır.
C) Bileşiğin 1 molü için ölçülen değerdir.
D) Sayısal değeri daima negatiftir.



Verilen tepkimede her madde için standart molar oluşum entalpisi bir sembole gösterilmiştir.

Buna göre verilen tepkimenin standart tepkime entalpisi aşağıdaki hesaplamaların hangisi ile bulunur?

- A) (3■ + 4★) – (● + 5▲)
B) (3■ + ●) – (4★ + 5▲)
C) (●) – (3■ + 4★)
D) (■ + ★) – (●)

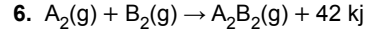


Tepkimesine göre belirli miktar N₂ ve O₂'nin tepkimesi sonucu 1 mol NO₂ gazı oluştuğunda hesaplanan standart tepkime entalpisi hangisidir?

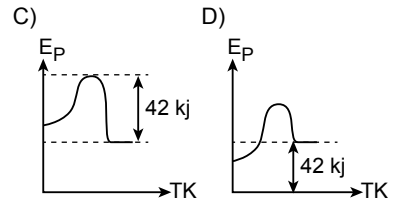
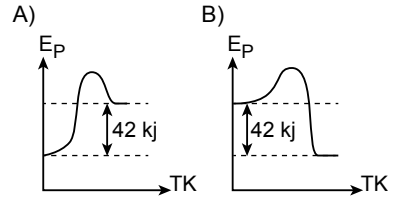
- A) –34 B) –68
C) +34 D) +68

5. Standart şartlarda aşağıdaki maddelerden hangisinin standart oluşum entalpisi sıfır kabul edilir?

- A) O₂(g) B) O₃(g)
C) I₂(g) D) Fe(s)



tepkimesinin potansiyel enerji (E_p) - tepkime koordinatı (TK) grafiği aşağıdakilerden hangisidir?

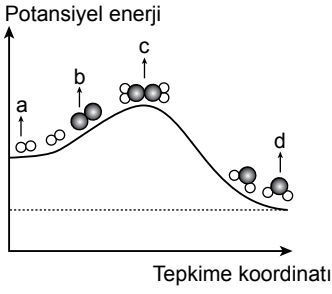


7. Tepkime entalpilerinin toplanabilirliği olarak ifade edilen yasa aşağıdakilerden hangisidir?

- A) Le Chatelier Yasası
B) Brönsted-Lowry Yasası
C) Hess Yasası
D) Avogadro Yasası

1. OTURUM

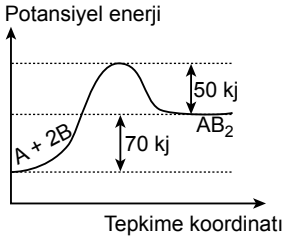
8. Kimyasal tepkimeye ait potansiyel enerji - tepkime koordinatı grafiği aşağıda verilmiştir.



Buna göre modellerle gösterilen maddelerden hangisi aktifleşmiş komplekstir?

- A) a B) b C) c D) d

9. Kimyasal bir tepkimeye ait potansiyel enerji - tepkime koordinatı grafiği aşağıda verilmiştir.



Buna göre aşağıdakilerden hangisi yanlıştır?

- A) Tepkime entalpisi 70 kJ'dür.
B) Tepkimede 70 kJ ısı açığa çıkmıştır.
C) Aktivasyon enerjisi 120 kJ'dür.
D) Ürünlerin potansiyel enerjisi girenlerinkinden daha büyüktür.

10. Aşağıdakilerden hangisi homojen faz tepkimesidir?

- A) $C(k) + O_2(g) \rightarrow CO_2(g)$
B) $CaCO_3(k) \rightarrow CaO(k) + CO_2(g)$
C) $H_2(g) + Br_2(s) \rightarrow 2HBr(s)$
D) $N_2(g) + 3H_2(g) \rightarrow 2NH_3(g)$

11. Sabit hacimli bir kaptta gerçekleşen $H_2(g) + Cl_2(g) \rightarrow 2HCl(g)$

tepkimesinin hızı aşağıdaki işlemlerden hangisi uygulandığında azalır?

- A) Katalizör kullanmak
B) Kaba H_2 gazı eklemek
C) Sıcaklık artırmak
D) İnhibitör kullanmak

12. Tek basamakta gerçekleşen $A(g) + 2B(g) + C(k) \rightarrow D(g)$

tepkimesinin hız bağıntısı aşağıdakilerin hangisidir?

- A) Hız = $k \times [A] [B] [C]$
B) Hız = $k \times [A] [B]^2 [C]$
C) Hız = $k \times [A] [B]^2$
D) Hız = $k \times [A]^2 [C]$

13. Tek basamakta gerçekleşen $PCl_5(g) \rightarrow PCl_3(g) + Cl_2(g)$ tepkimesinde PCl_5 'in başlangıç derişimi $2 \cdot 10^{-2}$ M iken tepkimenin başlangıç hızı $4 \cdot 10^{-5}$ M/s'dir.

Buna göre hız sabitinin değeri aşağıdakilerin hangisidir?

- A) $2 \cdot 10^{-5}$ B) $2 \cdot 10^{-3}$
C) $4 \cdot 10^{-3}$ D) $4 \cdot 10^{-2}$

14. Aşağıdaki hâl değişimlerinin hangisinde maddenin düzensizliği artar?

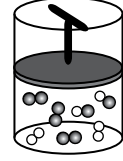
- A) Sıvıdan katı hâle geçtiğinde
B) Katıdan gaz hâle geçtiğinde
C) Gazdan sıvı hâle geçtiğinde
D) Gazdan katı hâle geçtiğinde

15. $2SO_3(g) \rightleftharpoons 2SO_2(g) + O_2(g)$

tepkimesinin basınç cinsinden denge sabitinin (K_p) derişim cinsinden denge sabiti (K_d) değeri nedir?

- A) $K_d \cdot (RT)$ B) $\frac{K_d}{(RT)}$
C) $K_d \cdot (RT)^2$ D) $\frac{K_d}{(RT)^2}$

16. Sabit sıcaklıkta $H_2(g) + Cl_2(g) \rightleftharpoons 2HCl(g)$ tepkimesi aşağıdaki pistonlu kaptta dengededir.



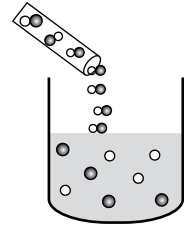
Sıcaklık değiştirilmeden piston yukarı çekilip tekrar denge kurulması sağlandığında ilk duruma göre aşağıdakilerden hangisi azalır?

- A) H_2 gazının miktarı
B) Cl_2 gazının miktarı
C) K_p değeri
D) Toplam gaz basıncı

17. $25^\circ C$ sıcaklıkta H^+ iyonları derişimi 10^{-5} M olan çözeltinin pH değeri hangisidir?

- A) 5 B) 7 C) 9 D) 11

18. Asidin suda iyonlaşması şekilde modellerle gösterilmiştir.

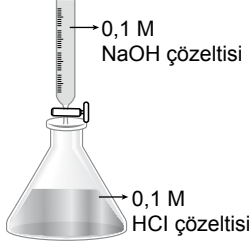


Buna göre aşağıdakilerden hangisi yanlıştır?

- A) Çözünen madde tamamen iyonlaşmıştır.
B) Çözünen madde zayıf asittir.
C) Çözünen madde moleküllerden oluşmuştur.
D) Çözeltinin pH değeri 7'den küçüktür.

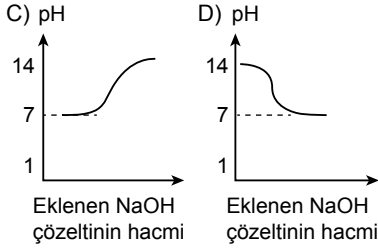
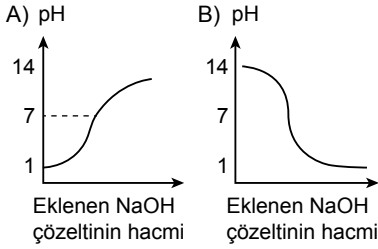
1. OTURUM

19. Kuvvetli asit - baz titrasyonu deneyi için şekildeki düzenek hazırlanıyor.



Erlenmeyerde 25 °C'ta bulunan HCl asit çözeltisinin üzerine büretten kontrollü şekilde NaOH çözeltisi ilave ediliyor.

Buna göre deney sırasında erlenmeyerdeki çözeltinin pH değişimine ilişkin grafik aşağıdakilerden hangisidir?



20. Belirli bir sıcaklıkta çözünürlüğü 10^{-4} M olan AgCl tuzunun çözünürlük çarpımı ($K_{çc}$) hangisidir?

- A) 10^{-8} B) 10^{-6}
C) 10^{-4} D) 10^{-2}

(441) BİYOLOJİ – 1

1. Aşağıdakilerden hangisi canlılarda görülen boşaltım türlerinden değildir?

- A) Yaprak dökme
B) Terleme
C) Sindirim atıklarını atma
D) Solunumla karbondioksit atılması

2. Kış mevsiminde donmuş bir göldeki buz parçası suyun yüzeyini kaplayarak yalıtım görevi görür. Bu sayede buzun altındaki kısım donmadığından gölde yaşayan canlılar bu sayede hayatta kalır.

Suyun hangi özelliği bu duruma neden olmaktadır?

- A) Buzun yoğunluğunun sudan küçük olması
B) Su moleküllerinin kopmadan bir arada durması
C) Öz ısısının yüksek olması
D) Doğada katı, sıvı ve gaz hâllerinin bulunması

3. İnsandaki vücut sıvılarının bazılarının pH'sı şu şekildedir.

Kan	: 7,4
Mide öz suyu	: 0,9 – 2
Pankreas öz suyu	: 8 – 8,3

Buna göre insandaki vücut sıvılarıyla ilgili aşağıdakilerden hangisi söylenebilir?

- A) İnsanda asidik ortam bulunmaz.
B) İnsanda hem asidik hem de bazik sıvılar bulunabilir.
C) İnsanda sadece bazik sıvılar bulunur.
D) İnsan vücudundaki tüm sıvılar nötrdür.

4. Alyuvarlarda bulunan hemoglobinin ve bazı enzimlerin yapısına katılan, solunum gazlarının taşınmasında etkili olan mineral aşağıdakilerden hangisidir?

- A) Demir B) Çinko
C) İyot D) Sodyum

5. Aşağıdakilerden hangisi karbonhidrat bakımından zengin bir yiyecektir?

- A) Et B) Tereyağı
C) Yumurta D) Makarna

6. Aşağıdakilerden hangisi yağların insan vücudundaki görevlerinden değildir?

- A) Bazı hormonların yapısına katılır.
B) Yalıtım görevi görerek vücudun ısı kaybını önler.
C) B ve C vitaminlerinin taşınımını sağlar.
D) Düzenleyici olarak görev yapar.

7. Sentezlenen proteinlerin çeşitliliğini aşağıdakilerden hangisi etkilemez?

- A) Amino asitler arasındaki bağlar
B) Amino asit sayısı
C) Amino asitlerin dizilimi
D) Amino asitlerin çeşidi

8. Fabrikada bekleyen pancarlar hızlı bir şekilde kaynar suya daldırılıp çıkartılır ve o şekilde saklanır.

Bu uygulama aşağıdakilerden hangisine yol açar?

- A) Enzimatik olayların hızlanmasına
B) Enzimlerin bozulmasına
C) Şeker üretiminin hızlanmasına
D) Renklenmesine

9. Bir hastalık sonucu hastaneye başvuran bireyde A, D, E ve K vitaminlerinin eksikliği tespit edilmiştir.

Bu vitaminlerin eksik olmasının sebebi aşağıdakilerden hangisi olabilir?

- A) Vücuda yeterli su alınmaması
B) Yeterli egzersiz yapılmaması
C) Vücutta yeterli enerji üretilmemesi
D) Vücuda yeterli yağ alınmaması

10. Aşağıdaki moleküllerden hangisi DNA'da yoktur?

- A) Deoksiriboz B) Adenin
C) Urasil D) Fosfat

11. Aşağıdakilerden hangisi ATP üretilen reaksiyonlardandır?

- A) Sindirim
B) Oksijenli solunum
C) Aktif taşıma
D) Sinirsel iletim

1. OTURUM

12. Aşağıdakilerden hangisi dengeli beslenmenin tanımı olarak kabul edilebilir?

- A) Tüm besin öğelerinden yeterli miktarda alınmasıdır.
- B) Tüm besin öğelerinden fazla miktarda alınmasıdır.
- C) Her besin grubundan istediğimiz kadar alınmasıdır.
- D) Yağların hiç tüketilmemesidir.

13. Aşağıdaki cihazlardan hangisinin icadı hücre araştırmalarının hızlanmasında etkili olmuştur?

- A) Teleskop
- B) Dürbün
- C) X ışınları
- D) Mikroskop

14. Aşağıdaki hücre yapısından hangisi prokaryot hücrelerde bulunurken ökaryot hücrelerde bulunmaz?

- A) Ribozom
- B) Kapsül
- C) Mitokondri
- D) Hücre zarı

15. Hayvan hücrelerinde bulunan hücre zarına sağlamlık ve esneklik veren steroid yapılı madde aşağıdakilerden hangisidir?

- A) Gliserol
- B) Glikolipitler
- C) Kolesterol
- D) Nişasta

16. Yassı keseciklerin üst üste dizilmesiyle oluşan; lipit, protein ve karbonhidratlardan çeşitli salgıların oluşturan organel aşağıdakilerden hangisidir?

- A) Granüllü endoplazmik retikulum
- B) Lizozom
- C) Lökoplast
- D) Golgi aygıtı

17. Bazı hücrelerde bazı organeller DNA içerebilir.

Aşağıdakilerin hangisinde DNA bulunduran yapılar doğru verilmiştir?

- A) Golgi aygıtı, lizozom, sentrozom
- B) Çekirdek, mitokondri, kloroplast
- C) Çekirdek, ribozom, kofül
- D) Mitokondri, kloroplast, Golgi aygıtı

18. Aşağıdakilerden hangisi hücre iskeleti elemanlarından değildir?

- A) Mikrofilament
- B) Mikrotübül
- C) Ara filament
- D) Kamçı

19. Suda eritilen bir şekerin suyun tümüne eşit olarak dağılması aşağıdaki madde taşınım yöntemlerinden hangisi ile gerçekleşmiştir?

- A) Aktif taşıma
- B) Kolaylaştırılmış difüzyon
- C) Difüzyon
- D) Ekzositoz

20. Yoğunluğu hücrenin sitoplazma yoğunluğuna eşit olan çözeltilere verilen isim aşağıdakilerden hangisidir?

- A) İzotonik
- B) Hipotonik
- C) Hipertonik
- D) Saf su

(443) BİYOLOJİ – 3

1. Aşağıdakilerden hangisi hücre bölünmesi ile gerçekleşmez?

- A) Yeni doğmuş bebeğin yetişkin insana dönüşmesi
- B) Tempolu koşudan sonra hızlı soluk alıp verme
- C) Yavru filin tonlarca ağırlığa ulaşması
- D) Küçük bir tohumun ağaca dönüşmesi

2. Aşağıdakilerden hangisi hücre bölünmesi sırasında ökaryot ve prokaryot hücrelerde ortak olarak görülür?

- A) DNA'nın kendini eşlemesi
- B) Bölünmenin çekirdek kontrolünde gerçekleşmesi
- C) Basit şekilde ikiye bölünme görülmesi
- D) Zarlı organellerin kaybolması

3. Aşağıdakilerden hangisi mitoz ile gerçekleşmez?

- A) Tek hücrelerde üreme
- B) Çok hücrelerde yaraların iyileşmesi
- C) Çok hücrelerde büyüme ve gelişme
- D) İnsanda üreme hücrelerinin oluşması

4. Mitoz sırasında kromozomların hücrenin ekvatorial düzlemine dizildiği evre aşağıdakilerden hangisidir?

- A) Profaz
- B) Anafaz
- C) Metafaz
- D) Telofaz

5. Aşağıdakilerden hangisi mitoz geçiren hücrenin bitki hücresi olmadığına kanıt olabilir?

- A) DNA eşlenmesinin olması
- B) Kardeş kromatitlerin ayrılması
- C) Ara plak oluşumu görülmesi
- D) Sitoplazma boğumlanmasının olması

6. Aşağıdakilerden hangisi mayozda görülmez?

- A) Sonunda iki yeni hücre oluşur.
- B) Tetrad oluşumu gerçekleşir.
- C) Sonunda üreme hücreleri oluşur.
- D) Genetik çeşitlilik görülür.

7. Eşeysiz üremeye ait iki örnek verilmiştir.

- Bitkiden alınan dal köklendirilerek yeni bir bitki elde edilmiştir.
- Denizyıldızının kopan kolundan yeni bir denizyıldızı oluşmuştur.

Bu örneklerin sırasıyla doğru eşleştirilmesi aşağıdakilerin hangisinde verilmiştir?

- A) Partenogenez - tomurcuklanma
- B) Vejetatif üreme - rejenerasyon
- C) Vejetatif üreme - partenogenez
- D) Sporla üreme - rejenerasyon

8. Mayoz esnasında tetrad, sinaps ve cross-over olaylarının görüldüğü evre aşağıdakilerden hangisidir?

- A) Profaz I
- B) Metafaz II
- C) Profaz II
- D) Anafaz I

9. Aşağıdakilerden hangisi mayozun özelliklerindendir?

- A) Vücut hücrelerinde görülür.
- B) Yaraların iyileşmesini sağlar.
- C) Kromozom sayısı yarıya iner.
- D) Oluşan hücrelerin genetik yapısı ana hücre ile aynıdır.

1. OTURUM

10. Aşağıdaki canlıların hangisi sadece eşeyli üreyebilir?

- A) Çilek B) Mantar
C) Arı D) Kuş

11. Eşeyli üreme iki önemli olaya dayanır.

Bu iki olay aşağıdakilerden hangisidir?

- A) Mitoz - mayoz
B) Mitoz - döllenme
C) Mayoz - döllenme
D) Döllenme - rejenerasyon

12. Canlı soylarına ait benzerlik ve farklılıkların ortaya çıkmasını sağlayan faktörlerin nesilden nesile nasıl aktarıldığını inceleyen bilim dalı aşağıdakilerden hangisidir?

- A) Ekoloji B) Kalıtım
C) Fizyoloji D) Biyokimya

13. İlk üç çocukları kız olan bir ailenin, dördüncü çocuklarının kız olma ihtimali kaçtır?

- A) 1/3 B) 1/2
C) 1/8 D) 1/4

14. AaBBEe genotipine sahip birey aşağıdaki gametlerden hangisini oluşturamaz?

- A) aBE B) ABE
C) ABe D) AbE

15. Heterozigot sarı ve düz tohumlu iki bezelyenin çaprazlanmasından yeşil ve buruşuk tohumlu bezelye oluşma ihtimali kaçtır?

(Bezelyelerde sarı tohumluluk yeşil tohumluluğa, düz tohumluluk buruşuk tohumluluğa baskındır)

- A) 1/16 B) 3/16
C) 9/16 D) 15/16

16. A kan grubu anne ile B kan grubu babanın ilk çocukları O kan grubu olmuştur.

Buna göre bu ailenin ikinci çocuklarının AB kan grubu olma ihtimali kaçtır?

- A) 1/2 B) 1/4
C) 1/8 D) 3/8

17. Aşağıdakilerden hangisi sağlıklı bir insanda dişi bireyin taşıdığı eşey kromozomlarıdır?

- A) XY B) XX
C) XXX D) XXY

18. İnsanda renk körlüğü X kromozomu üzerinde taşınan çekinik bir hastalıktır.

Bu hastalık bakımından taşıyıcı anne ile sağlıklı babanın çocukları aşağıdakilerden hangisi olamaz?

- A) Taşıyıcı erkek
B) Sağlıklı dişi
C) Hasta erkek
D) Taşıyıcı dişi

19. Aşağıdakilerden hangisi akraba evliliği sonucunda oluşan hastalıklardandır?

- A) Uçuk B) Gastrit
C) Talasemi D) Grip

20. Aşağıdakilerden hangisi genetik varyasyonlara neden olan olaylardan değildir?

- A) Kromozomların bağımsız dağılımı
B) Cross-over
C) Mutasyon
D) Mitoz

(446) SEÇMELİ BİYOLOJİ – 2

1. Aşağıdakilerden hangisi insana ait solunum sistemi yapısı değildir?

- A) Dalak B) Bronşlar
C) Gırtlak D) Burun

2. Aşağıdakilerden hangisi soluk alırken meydana gelen olaylardandır?

- A) Diyaframın gevşemesi
B) Akciğer basıncının artması
C) Kaburgalar arası kasların gevşemesi
D) Göğüs boşluğunun genişlemesi

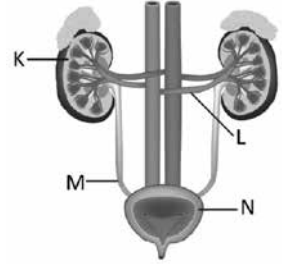
3. Kanda solunum gazlarının taşınmasıyla ilgili aşağıdakilerden hangisi doğrudur?

- A) O₂ tamamen kan plazmasında taşınır.
B) CO₂ kanda farklı şekillerde taşınabilir.
C) O₂ ve CO₂ alyuvarda aynı hemoglobine bağlanarak birlikte taşınır.
D) CO₂ molekülleri plazmada çözünmez.

4. Aşağıdakilerden hangisi solunum sistemi hastalıklarından değildir?

- A) KOAH B) Astım
C) Sistit D) Zatürre

5. İnsan üriner sistem yapıları şekilde gösterilmiştir.



Nefronlar hangi harfle gösterilen kısımda bulunur?

- A) K B) L C) M D) N

6. Aşağıdakilerden hangisi sağlıklı bir insanda idrarla vücut dışına atılmaz?

- A) Glikoz B) Üre
C) Su D) Amonyak

7. Aşağıdakilerden hangisi böbreğin işlevidir?

- A) Fazla glikozu glikojene çevirerek depolama
B) Su iyon dengesini sağlama
C) Safra üretme
D) Sindirim enzimlerini üretme

8. Aşağıdakilerden hangisi böbrek yetmezliği durumunda kanın tıbbi yöntemlerle temizlenmesidir?

- A) Aşılama B) Aktif boşaltım
C) Hemodiyaliz D) Geri emilim

1. OTURUM

(461) SEÇMELİ EKONOMİ – 1

9. Aşağıdakilerden hangisi dışide depo edilmiş yumurtaların korunmasını ve beslenmesini sağlar?

- A) Yumurtalık B) Fallopi tüpü
C) Rahim D) Serviks

10. Aşağıdakilerden hangisi erkek üreme sisteminde sperm atılırken idrarın karışmasını önleyen yapıdır?

- A) Üretra B) Testis
C) Epididimis D) Prostat

11. Dişinin menstrual döngüsünde aşağıdakilerden hangisi diğerlerinden sonra meydana gelir?

- A) Ovulasyon (yumurtlama)
B) Korpus luteumun bozulması
C) Rahim duvarının kalınlaşması
D) FSH etkisiyle folikülün gelişmesi

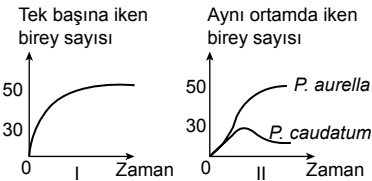
12. Aşağıdaki gelişim evrelerinden hangisi diğerlerinden sonra meydana gelir?

- A) Döllenme B) Gastrulasyon
C) Organogenez D) Segmentasyon

13. Aşağıdakilerden hangisi komünite için doğrudur?

- A) Tek türün oluşturduğu topluluktur.
B) Bir tür canlının doğal yaşam ortamıdır.
C) Belirli bir alandaki farklı popülasyonlar topluluğudur.
D) Bir yaşam alanındaki bütün cansız faktörlerdir.

14. İki farklı türün yalnız başlarına gelişimleri ve aynı ortamda birbirini etkilemesine bağlı gelişimleri şekilde gösterilmiştir.



Buna göre aynı ortama konulduğunda meydana gelen sayısal değişimin nedeni aşağıdakilerden hangisi olabilir?

- A) Besin rekabeti
B) Mutualist yaşam
C) Eş için rekabet
D) Kommensal yaşam

15. Aşağıdakilerden hangisinde canlıların her ikisi de birlikten fayda sağlar?

- A) İnsan ve tırnak mantarı
B) Köpek balığı ve *Echeneis* cinsi uydu balık
C) Aynı avla beslenen aslan ve sırtlan
D) Bal arısı ve tozlaşmasına yardım ettiği çiçekli bitki

16. Yanardağ patlamasıyla oluşan yeni bir karasal ortamda toprak oluşumundan başlayıp klimaks komünite oluşturma ile tamamlanan süreç nedir?

- A) Amensalizm B) Ekoton
C) Ekosistem D) Süksesyon

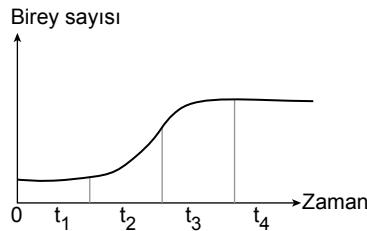
17. Aşağıdakilerden hangisinin artmasıyla popülasyon yoğunluğu azalır?

- A) Birey sayısı B) Ölüm oranı
C) Doğum oranı D) İçe göç

18. Bir habitatın bozulma olmaksızın taşıyabileceği maksimum birey sayısı aşağıdakilerden hangisidir?

- A) Çevre direnci
B) Doğum oranı
C) Taşıma kapasitesi
D) Yaşam alanı

19. Şekilde memeli bir hayvan popülasyonuna ait bir büyüme eğrisi verilmiştir.



Buna göre hangi zaman aralığında üreme hızı en yüksektir?

- A) t₁ B) t₂ C) t₃ D) t₄

20. Doğum oranı ölüm oranından az olan bir popülasyonda birey sayısının artmasını aşağıdakilerden hangisi sağlar?

- A) Yaşam alanının azalması
B) Hastalıkların artması
C) Dışa göçlerin artması
D) İçe göçlerin artması

1. Ekonomi biliminin temelini - - - - oluşturmaktadır.

Bu cümlede boş bırakılan yere aşağıdakilerden hangisi getirilmelidir?

- A) sarraflar B) stoklar
C) ihtiyaçlar D) tacirler

2. Diğer şartlar değişmemek koşuluyla bir ülkede dolaşımdaki para miktarı artarsa fiyatların genel seviyesi yükselir.

Tanımı verilen ekonomi kanunu aşağıdakilerden hangisidir?

- A) Enflasyon Kanunu
B) Avogadro Kanunu
C) Hicks Analizi
D) Prim Kanunu

3. Aşağıdakilerden hangisi dolaysız tüketime örnektir?

- A) Termik santralde elektrik üretmek için kömür kullanılması
B) Tekstil ürünü üretmek için pamuk kullanılması
C) Ekmek üretmek için un kullanılması
D) Ankara'dan İstanbul'a otobüsle seyahat edilmesi

4. Bir ülkede %7 olarak hedeflenen ekonomik kalkınma hızına ulaşmak için alınacak önlemler aşağıdakilerden hangisinin varlığıyla mümkündür?

- A) Denge politikasının
B) Ekonomi politikasının
C) Niteliksiz iş gücünün
D) Dolaylı tüketimin

5. Aşağıdakilerden hangisi ekonomi politikasının hedeflerinden biri değildir?

- A) Kalkınma hızını düşürmek
B) Ulusal geliri artırmak
C) Yaşam düzeyini yükseltmek
D) Ekonomik büyümeyi sağlamak

6. Fiyat artış hızının yavaşlayıp fiyatların uzun bir süre içinde büyük oranlı değişmediği ekonomik durum aşağıdakilerden hangisidir?

- A) Tam istihdam
B) Dolaysız tüketim
C) Ekonomik denge
D) Ekonomik büyüme

1. OTURUM

7. Atatürk ekonomi ile ilgili konuşmalarında, bilim ve teknolojiden yararlanmak gerektiğini işaret etmektedir.

Bunun nedeni aşağıdakilerden hangisidir?

- A) Vasıfsız eleman sayısının az olması
- B) Ham madde kaynaklarının bol olması
- C) Nitelikli üretimin ileri teknolojilerle sağlanması
- D) İnsan ihtiyaçlarının sınırlı olması

8. Aşağıdakilerden hangisi zorunlu ihtiyaçlara örnektir?

- A) Seyahat etmek
- B) Su içmek
- C) Otomobil sürmek
- D) Televizyon seyretmek

9. Aşağıdakilerden hangisi ihtiyaçlar için söylenemez?

- A) Bazı ihtiyaçların kapasiteleri sınırlıdır.
- B) İhtiyaçlar birbirine rakiptir.
- C) İhtiyaçların miktarı sınırsızdır.
- D) İhtiyaçlar değişmez.

10. Şehirdeki insanlar için su zorunlu mallardan biriyken, su kaynağının yanında bulunan insan için su kaynağı mal değildir.

Buna göre, suyun mal niteliği taşıması için gerekli olan unsur aşağıdakilerden hangisidir?

- A) İhtiyacın karşılanması için yeterli miktarda bulunup bulunmadığının bilinmesi
- B) Teknik gelişmelerin sonunda ortaya çıkması
- C) Doğada sınırsız ölçüde bulunması
- D) Üretiminin mümkün olmaması

11. Bir maldan sağlanan faydanın kişiden kişiye değişmesinin nedeni aşağıdakilerden hangisidir?

- A) Objektif olması
- B) Subjektif olması
- C) Natürel olması
- D) Spekülatif olması

12. Aşağıdakilerden hangisi insanların bir mala önem verme derecesini ifade eder?

- A) Değer
- B) Para
- C) Maliyet
- D) Servet

13. "Kıt malın faydasını artırmak ve ihtiyacımızı gidermek için malın şekli veya yapısı değiştirilebilir."

Aşağıdakilerden hangisi bahsedilen duruma örnektir?

- A) Mersin'de üretilen limonun Ankara'ya taşınması
- B) Meyvelerin soğuk hava deposunda bekletilmesi
- C) İktisadi devlet kuruluşunun özelleştirilmesi
- D) Kumaşın elbise hâline getirilmesi

14. Aşağıdakilerden hangisi üretim faktörlerinden biri değildir?

- A) Müteşebbis
- B) Sermaye
- C) İflas
- D) Tabiat

15. Üzüm, tütün, şekerpancarı vb. tarım ürünlerinin belirli özelliklere sahip topraklarda veriminin artması aşağıdakilerden hangisiyle ilgilidir?

- A) İklimin insan yaşamını doğrudan etkilemesiyle
- B) Doğanın üretim üzerinde belirleyici olmasıyla
- C) Tarımda çalışan nüfusun oranıyla
- D) Ekonomik faaliyetlerin dağılışıyla

16. Soma, Yatağan, Seyit Ömer gibi enerji üreten işletmeler aşağıdaki santral türlerinden hangisidir?

- A) Termik
- B) Güneş
- C) Nükleer
- D) Hidroelektrik

17. Ekonomi biliminde insanların mal ve hizmet elde etmek için yaptığı faaliyetler aşağıdakilerden hangisidir?

- A) Seyahat
- B) Tasarruf
- C) Emek
- D) Turizm

18. Gelişmenin kaynağı olup doğa kuvvetlerinden etkin bir şekilde faydalanmayı sağlayan emek türü aşağıdakilerden hangisidir?

- A) Uygulayıcı
- B) Yaratıcı
- C) Objektif
- D) Subjektif

19. Üretim hacminin yeterli düzeye ulaşmadan ülke nüfusunda artış meydana gelmesi durumunda aşağıdakilerden hangisi gerçekleşir?

- A) İhracat artar.
- B) Büyüme hızı artar.
- C) Refah düzeyi artar.
- D) Kalkınma hızı düşer.

20. Aşağıdakilerden hangisi bir ülkede belirli bir zaman diliminde nüfus artışını doğrudan etkileyen faktörlerden biri değildir?

- A) Ölümler
- B) Doğumlar
- C) Dış göçler
- D) İşsizlik

(465) TEMEL DİNİ BİL. – 1

1. Aile ile ilgili aşağıdakilerden hangisi söylenemez?

- A) Nikâh akdi ile kurulur.
- B) Dini bilgilerin ve ahlaki davranışların öğrenildiği yerdir.
- C) Üyeleri maddi ve manevi yönden birbirine karşı sorumludur.
- D) Toplum üzerinde etkisi olmayan bağımsız bir kurumdur.

2. İslam'a göre evliliğin gerçekleşmesi için aşağıdakilerden hangisi zorunludur?

- A) Nişan
- B) Nikâh
- C) Kına
- D) Düğün

3. "İhanet etmeme, güven duyma, sözünde durma" gibi anlamlara gelen kavram aşağıdakilerden hangisidir?

- A) Sabır
- B) Affetme
- C) Sadakat
- D) Hüsnüzan

4. Hz. Peygamber'in "Kur'an-ı Kerim'i Allah'tan geldiği şekliyle koruyup insanlara tebliğ etmesi" onun aşağıdaki özelliklerinden hangisi ile ilgilidir?

- A) Güvenilir olması
- B) Akıllı ve zeki olması
- C) Yardımsever olması
- D) Mütevazı olması

1. OTURUM

5. "Eğer müminlerden iki grup birbiriyle savaşırsa hemen aralarını düzeltin..." (Hucurât suresi, 9. ayet)

Bu ayette aşağıdakilerden hangisi vurgulanmaktadır?

- A) Dayanışma B) Güven
C) Sulh D) Cihat

6. Hz. Peygamber'in "Allah katında en sevimsiz helal" olarak bildirdiği tutum ve davranış aşağıdakilerden hangisidir?

- A) Boşanmak
B) İsrâf etmek
C) Suizanda bulunmak
D) Bozgunculuk yapmak

7. • "Ey iman edenler! Allah'tan korkun ve doğru söz söyleyin." (Ahzâb suresi, 70. ayet)

- "İnsanlardan alırken ölçüp tartıklarında tam, onlara vermek için ölçüp tartıklarında ise noksan yapan hilekârlara yazıklar olsun!" (Mutaffin suresi, 1-3. ayetler)

Bu ayetlerin ortak vurgusu aşağıdakilerden hangisidir?

- A) Helal yoldan kazanmak
B) Takva sahibi olmak
C) Cömert olmak
D) Dürüst olmak

8. Aşağıdaki tutum ve davranışlardan hangisi münâfıklığın alametlerinden biri değildir?

- A) Yalan söylemek
B) İsrâf etmek
C) Sözünde durmamak
D) Emanete ihanet etmek

9. "Ey iman edenler! Zannın çoğundan kaçının. Çünkü bazı zanlar günahdır. Birbirinizin gizliliklerini araştırmayın, birbirinizin gıybetini yapmayın..." (Hucurât suresi, 12. ayet)

Bu ayette sakınılması istenen aşağıdaki tutum ve davranışlardan hangisine değinilmemiştir?

- A) Mahremiyeti ihlal etmek
B) Bir kimsenin arkasından konuşmak
C) İnsanları hor ve hakir görmek
D) Kesin olmayan bir şey hakkında hüküm vermek

10. Aşağıdakilerden hangisi İslam'da koruma altına alınan temel esaslardan biri değildir?

- A) Can B) Mal C) Akıl D) Örf

11. Aşağıdakilerden hangisi İslam ekonomisinin ahlaki temelleri arasında yer almaz?

- A) Tamahkâr olmak
B) Tasarruf sahibi olmak
C) Kul hakkını gözetmek
D) Dünya ve ahiret dengesini korumak

12. Aşağıdakilerden hangisi helal kazanç yollarından biridir?

- A) Tefecilik B) Rüşvet
C) Hibe D) Gasp

13. "Hiçbir kişisel çıkar ve kazanç gözetmeksizin sırf Allah rızası için ihtiyaç sahibine verilen borç" için kullanılan kavram aşağıdakilerden hangisidir?

- A) Karz-ı hasen B) İhtikâr
C) İsar D) Mehir

14. Aşağıdaki hadislerin hangisi hileli satış ile ilgilidir?

- A) "Dürüst ve güvenilir tüccar, peygamberler, dosdoğru kimseler ve şehitlerle beraberdir."
B) "Allah'ın laneti, rüşvet verenin ve rüşvet alanın üzerindedir."
C) "Hiç kimse elinin emeğinden daha hayırlı bir şey yemiş değildir."
D) "Alışveriş yapanlar, malın kusurunu gizler ve yalan söylerlerse yaptıkları alışverişin bereketi gider."

15. "Kim bir yiyecek maddesini kırk gün saklarsa o kişi Allah Teâlâ'dan uzaklaştığı gibi, Allah Teâlâ da ondan uzaklaşır."

Bu hadiste aşağıdakilerden hangisine değinilmektedir?

- A) Faiz B) Karaborsacılık
C) Tefecilik D) Rüşvet

16. Aşağıdakilerden hangisi işçinin sorumlulukları arasında yer almaz?

- A) İşi ehline vermek
B) İşini en güzel şekilde yapmak
C) Çalışma saatlerine özen göstermek
D) Kendisine emanet edilen eşyaları korumak

17. Aşağıdakilerden hangisi ekonomide güvenin sağlanmasına etki eden durumlardandır?

- A) İhaleye fesat karıştırmak
B) Ürünün kusurunu gizleyerek satmak
C) Malın değeri üzerinden fiyat belirlemek
D) Kişilerin gizli bilgilerini elde ederek kazanç sağlamak

18. "Müslüman kardeşini kendine tercih etmek, fedakârlık yapmak" anlamına gelen kavram aşağıdakilerden hangisidir?

- A) İhtikâr B) İsar
C) İhlas D) İrfan

19. Aşağıdakilerden hangisi kul hakkının ihlal edilmesine örnek gösterilemez?

- A) Özel hayatı araştırmak
B) Trafik kurallarını ihlal etmek
C) Ölçü ve tartıda hile yapmak
D) İbadetleri aksatmak

20. Aşağıdakilerden hangisinin ekonomik hayata olumsuz bir etkisi olduğu söylenemez?

- A) İhtiyaç sahibine kişisel çıkar gözetmeksizin borç vermenin
B) Pahalanması için ürünün piyasaya arzını geciktirmenin
C) Malın kusurunu gizleyerek satış yapmanın
D) Yapay olarak fiyatlarla oynamanın

1. OTURUM

(477) SEÇMELİ İŞLETME – 2

1. Aşağıdakilerden hangisi işletmelerin fonksiyonlarından değildir?

- A) Finansman B) Promosyon
C) Mübadele D) Prim

2. İşletme sahipliğinin ve temel politik karar organlarının belirli siyasal eğilim ve ilişkilere sahip kişiler tarafından doldurulduğu işletmelerde aşağıdaki yönetim şekillerinden hangisi söz konusudur?

- A) Profesyonel B) Ailesel
C) Siyasal D) Amatör

3. Verimliliği etkileyen en önemli faktörün insan olduğunu öne süren yönetim teorisi aşağıdakilerden hangisidir?

- A) Modern B) Neo-Klasik
C) Klasik D) Bütünsel

4. Yönetim sürecinin ilk aşamasını oluşturan en önemli yönetim fonksiyonu aşağıdakilerden hangisidir?

- A) Koordinasyon
B) Organizasyon
C) Denetim
D) Planlama

5. Plan uygulamasından alınan sonuçlar ile planda saptanan hedeflerin karşılaştırılması aşağıdaki planlama süreçlerinden hangisinden yapılır?

- A) Amaçların saptanması
B) Planın denetimi
C) En iyi alternatifin seçilmesi
D) Alternatiflerin belirlenmesi

6. Aşağıdakilerden hangisi denetim sürecinin özelliklerinden biri değildir?

- A) Tarafli ve katı olmalıdır.
B) Plan ve amaçlara yönelik olmalıdır.
C) En az maliyetle gerçekleştirilmelidir.
D) Yalın ve uygulanabilir olmalıdır.

7. Üretilecek malların ebatlarının nasıl olacağına karar verme süreci aşağıdaki pazarlamanın dört temel faydasından hangisini ilgilendirir?

- A) Yer B) Zaman
C) Mülkiyet D) Şekil

8. Tutundurma, bir işletmenin, ürün ya da hizmetinin satışını kolaylaştırmak amacıyla müşterileri ürünler ve hizmetler hakkında haberdar etme sürecidir.

Buna göre, aşağıdakilerden hangisi tutundurma faaliyeti olamaz?

- A) Kampanya B) Promosyon
C) Enflasyon D) Reklam

9. Aşağıdakilerden hangisi dağıtım kanalının son aşamasında yer alır?

- A) Perakendeci işletmeleri
B) Üretici firmaları
C) Toptancı firmaları
D) Komisyoncular

10. İşletmelerin üretimde kullanmak için aldıkları her türlü maddi ve maddi olmayan değerler üretim sisteminin aşağıdaki öğelerinden hangisiyle ilgilidir?

- A) Geri bildirim B) İşlem
C) Çıktı D) Girdi

11. İşletmenin en uygun stok kontrol yöntemini seçerek belirli aralıklarda stokları kontrol etmesinin en önemli nedeni aşağıdakilerden hangisidir?

- A) Kapasitenin üzerinde üretim yapmak
B) Çift vardiya sisteminde üretimi sürdürmek
C) Faaliyetlerin kesintiye uğramasını önlemek
D) Üretimde hatalı üretim miktarını artırmak

12. Aşağıdakilerden hangisindeki azalma miktarı işletmenin gelirlerini azaltır?

- A) Hatalı üretim ve fire
B) Üretim kalitesindeki
C) İş gücü maliyetlerindeki
D) Girdi maliyetlerindeki

13. XIII. yüzyıldan XX. yüzyıla kadar Anadolu'daki esnaf ve sanatkârların birliklerine verilen isim aşağıdakilerden hangisidir?

- A) Ahilik B) Toptancı
C) Kabzımal D) Mükellef

14. Genellikle insan kaynaklarından sorumlu personel tarafından işe alınması düşünülen kişilerle yüz yüze görüşülerek işletmenin aradığı kriterlerin bulunup bulunmadığının tespit edilmeye çalışıldığı personel seçim yöntemi aşağıdakilerden hangisidir?

- A) Kabiliyet testleri
B) Başarı testleri
C) Zeka testleri
D) Mülakat

15. Aşağıdakilerden hangisi işletmelerin performans değerlendirmesinin amaçlarından biri değildir?

- A) Başarılı personelin ödüllendirilmesini sağlamak
B) Çalışanın işine odaklanmasını sağlamak
C) Performans düşüklüğünü tespit etmek
D) Personelin iş motivasyonunu düşürmek

16. Aşağıdakilerden hangisi işletmelerin araştırma ve geliştirme faaliyetlerine büyük önem vermelerinin sosyal nedenlerindedir?

- A) Endüstride yenilikçi olarak isim yapmak
B) Kamuoyuna işletmenin toplumsal yararlılığını kanıtlamak
C) Pazarda önde gelen işletme olmak
D) Rekabet ortamında ürün çeşitliliği sağlamak

17. Aşağıdakilerden hangisi işletmelerin çalışanlarına karşı sorumluluklarından değildir?

- A) Ücret ödeme zorunluluğu
B) Atıkları depolama sorumluluğu
C) Çevreyi koruma görevinin üstlenilmesi
D) Yenilenebilir kaynakları kullanma gerekliliği

18. Aşağıdakilerden hangisi çalışanların ücretleri belirlenirken işletmelerin dikkate aldığı unsurlardan biri değildir?

- A) Ücreti hakkında çalışana ayrıntılı bilgi vermek
B) Ücretlendirme konusunda objektif olmak
C) Eşit işe farklı ücret tarifesi uygulamak
D) İş Kanunu'nun 5. maddesine uygun davranmak

1. OTURUM

19. Atık maddelerin yeniden değerlendirilmesine - - - - denir.

Bu cümlede boş bırakılan yere aşağıdakilerden hangisi getirilmelidir?

- A) sektör
B) istihdam
C) geri dönüşüm
D) geri bildirim

20. İşletmelerin İş Kanunu, Ticaret Kanunu, Vergi Usul Kanunu vb. kanunlara uyarak faaliyette bulunmaları topluma karşı hangi sorumluluğundan kaynaklanmaktadır?

- A) Etik
B) Hukuki
C) Ekonomik
D) Ahlaki

(479) SEÇMELİ MANTIK – 2

1. Önermeler mantığında basit önermeler aşağıdaki sembollerden hangileriyle gösterilir?

- A) A, B, C...
B) 1, 2, 3...
C) p, q, r...
D) I, II, III...

2. Aşağıdakilerden hangisi önerme eklemi değildir?

- A) Veya
B) İse
C) Ancak ve ancak
D) Belki

3. "Özge başarısız değildir." önermesiyle ilgili aşağıdakilerden hangisi doğrudur?

- A) Değilleme eklemi kullanılmıştır.
B) Sembolik olarak ifade edilemez.
C) Üçlü yüklelidir.
D) Tutarsızdır.

4. Değilleme ekleminin (\sim) ana eklem olarak kullanıldığı önermelerde tek ana bileşen bulunur.

Buna göre aşağıdaki önermelerin hangisinde tek ana bileşen vardır?

- A) $\sim(q \rightarrow p)$
B) $p \vee q$
C) $(q \leftrightarrow p) \wedge p$
D) $\sim q \wedge p$

p	$\sim p$	$\sim\sim p$
D	Y	D
Y	D	Y

Verilen bu doğruluk tablosuyla ilgili aşağıdakilerden hangisi doğrudur?

- A) p önermesinin dört farklı doğruluk değeri vardır.
B) p önermesi iki kere değillendiğinde aynı doğruluk değerini almıştır.
C) $\sim p$ önermesinde tümel evetleme eklemi kullanılmıştır.
D) $\sim\sim p$ önermesi geçerlidir.

6. Koşul (\rightarrow) ekleminin ana eklem olduğu önermelerde ilk bileşen doğru, ikinci bileşen yanlış ise önerme yanlış değerini alır. Diğer tüm durumlarda önerme doğru değerini alır.

Buna göre;

p	q	$p \rightarrow q$
D	D	I
D	Y	II
Y	D	III
Y	Y	IV

bu tabloda rakamlarla gösterilen yerlerden hangisi yanlış değerini alır?

- A) I
B) II
C) III
D) IV

7. Aşağıdakilerden hangisi "Onur ancak ve ancak spor yaparsa sağlıklı olur." önermesinin sembolik mantıktaki ifadesidir?

- A) $\sim p$
B) $p \vee q$
C) $p \leftrightarrow q$
D) $p \wedge q$

8. p: D, q: Y doğruluk değeri aldığına göre;

- I. $\sim(p \wedge q)$
II. $q \leftrightarrow \sim p$

önermelerinin doğruluk değeri aşağıdakilerden hangisidir?

- A) I: Y, II: Y
B) I: D, II: Y
C) I: Y, II: D
D) I: D, II: D

9. İki ya da daha fazla önermenin birlikte tutarlı olabilmesi için en az bir defa aynı satırda birlikte doğru değerini almaları gerekir.

Buna göre;

p	q
Y	Y
- - - -	- - - -
D	Y
Y	D

doğruluk tabloları verilen bu iki önermenin birlikte tutarlı olabilmeleri için boş bırakılan yerlere sırasıyla aşağıdaki doğruluk değerlerinin hangisi gelmelidir?

- A) D, Y
B) Y, Y
C) Y, D
D) D, D

10. Bir önermenin yorumlamasında en az bir doğru değeri varsa önerme tutarlı, tamamı doğru ise önerme geçerlidir.

Buna göre aşağıdakilerden hangisi doğrudur?

- A) Her tutarlı önerme aynı zamanda geçerlidir.
B) Bir önerme aynı anda tutarlı ve geçerli olamaz.
C) Her geçerli önerme aynı zamanda tutarlıdır.
D) Tutarlılık geçerliliğe bağlıdır.

11. Bir çıkarımın geçerliliği doğruluk fonksiyonu tablosu ile denetlenmeden önce sırasıyla şu işlemler uygulanır:

1. Çıkarımın iki öncülü tümel evetleme eklemiyle (\wedge) birbirine bağlanır.
2. Elde edilen bu tümel evetleme önermesi koşul eklemiyle (\rightarrow) sonuç önermesine bağlanır.

Buna göre " $\sim p, q (\bullet \bullet) p$ " çıkarımının geçerliliğinin denetlenmeye hazır hâli aşağıdakilerden hangisidir?

- A) $(\sim p \wedge q) \rightarrow p$
B) $(\sim p \rightarrow q) \wedge p$
C) $\sim p \wedge (q \rightarrow p)$
D) $\sim p \rightarrow (q \wedge p)$

1. OTURUM

12. Herhangi iki önerme, doğruluk tablosunun tüm satırlarında aynı doğruluk değerini almışsa bu önermeler birbirine denktir.

Buna göre aşağıdaki tablolardan hangisi birbirine denk iki önermeye aittir?

A)

1. önerme	2. önerme
D	Y
Y	D

B)

1. önerme	2. önerme
Y	Y
D	D

C)

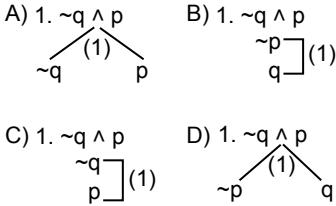
1. önerme	2. önerme
Y	D
Y	D

D)

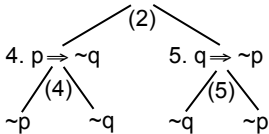
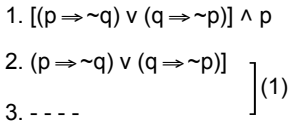
1. önerme	2. önerme
Y	D
D	Y

13. Tümel evetleme (\wedge) önermesi çözümleyici çizelge yoluyla denetlenirken önermeler sırasıyla alt alta yazılır.

Buna göre $\sim q \wedge p$ önermesinin çözümleyici çizelgeyle denetlenmesi aşağıdakilerin hangisinde doğru yapılmıştır?



14. Aşağıda çözümleyici çizelge yoluyla denetlemeye yer verilmiştir.



denetlenmesi yapılmış bu önermede boş bırakılan 3 numaralı yere aşağıdakilerden hangisi gelmelidir?

- A) $\sim q$ B) p
C) $p \vee q$ D) $q \Rightarrow p$

15. Niceleme mantığında önermenin öznesi a, b, c... ; yüklemi F, G, H... gibi sembollerle gösterilir.

Buna göre "Erol öğretmendir." önermesinin sembolleştirilmiş hâli aşağıdakilerden hangisidir?

- A) $\sim Fa$ B) Fab
C) $Fa \rightarrow Gb$ D) Fa

16. Tümel niceleyici " \forall ", tikel niceleyici ise " \exists " sembolü ile gösterilir.

Buna göre aşağıdakilerden hangisi tümel bir önermedir?

- A) $\forall x(Fx \rightarrow Gx)$
B) $\exists xFx$
C) $\exists xFx \rightarrow \exists xGx$
D) $Fab \rightarrow \sim Gab$

17. Aşağıdakilerden hangisi " $\forall x$ (x tek sayıdır.)" önermesinin E: {3, 6, 9} evrenine göre özelleme değildir?

- A) 3 tek sayıdır. B) 6 tek sayıdır.
C) 7 tek sayıdır. D) 9 tek sayıdır.

18. Kiplik mantığında zorunlu önerme " \square " sembolüyle gösterilir.

Buna göre "Pamuğun yumuşak olması zorunludur." önermesinin sembolik ifadesi aşağıdakilerden hangisidir?

- A) $\diamond p$ B) $\sim q$
C) $p \wedge q$ D) $\square p$

19. Aşağıdakilerden hangisi formel bilimlerde yer alır?

- A) Mantık B) Fizik
C) Sosyoloji D) Antropoloji

20. Aşağıdakilerden hangisi mantık felsefesiyle ilgili doğru bir bilgidir?

- A) Gerçeklik ve doğruluk kavramlarına girmez.
B) Mantığın anlam, ilke ve temel kavramlarını tartışır.
C) Mantık değişmezleriyle ilgili sorular sormaz.
D) Güzel olanın kaynağına yönelik sorgulama yapar.

(502) İNGİLİZCE – 8

1 - 19. sorularda boş bırakılan yere uygun gelen kelime ya da ifadeyi işaretleyiniz.

1. Alan : ---- I borrow your eraser, please?

Jane : I'm sorry. I don't have one.

- A) Could B) Will
C) Would D) Did

2.

Asking For a Favor	Asking For Price
..?..	Could you tell me how much it costs?

- A) Do you have any questions
B) Can I help you carry your bags
C) Have you seen my mobile phone
D) Is it OK if I use your phone

3. George : Can I speak to you for a moment?
Gill : ----

- A) I'm sorry. He is not here right now.
B) Fine by me, just ask your mom.
C) Of course. What about?
D) Well, not really. Why can't you come?

4. "Announcement" means ----.

- A) childhood B) declaration
C) silence D) information

5. Angela is very lucky. She managed to ---- from a plane crash last year.

- A) fly B) save
C) remain D) survive

6. ---- you watch television, you should finish your homework.

- A) Before B) First
C) Therefore D) Although

7. As we ---- for Arthur, the bus ----.

- A) were waiting / was arriving
B) waited / arrived
C) were waiting / arrived
D) waited / was arriving

1. OTURUM

8. We expected him to accept the job offer - - - - he didn't.

- A) after B) but
C) as D) so

9. - - - - are unwanted, harmful stuff contaminating the environment.

- A) Resources B) Households
C) Locations D) Pollutants

10. Allen wrote a / an - - - - letter to the municipality about the problems in her neighbourhood.

- A) complaint B) apology
C) regret D) diary

11. Roy : - - - -?

Bobby : Yes, it is. Breathing polluted air causes many diseases.

- A) What can we do to reduce air pollution
B) Is air pollution dangerous for human
C) What causes air pollution most
D) Is there air pollution all around the world

12. To reduce the risk of climate change, we should - - - -.

- A) use our own cars
B) cut down more trees
C) consume more energy sources
D) use clean energy sources

13.



It is a / an - - - -.

- A) drone camera
B) virtual reality glass
C) game console
D) internet modem

14. Matt : - - - -?

Cindy : I think using social network is the best way.

- A) Do you spend a lot of time on the Internet
B) What kind of technological devices do you use
C) Do you have rules about using mobile technology
D) How do you usually keep in touch with your friends

15. A - - - - is a website where someone regularly records their thoughts etc.

- A) document B) blog
C) banner D) browser

16. I'm terribly sorry. I didn't mean to - - - - you.

- A) hurt B) ask
C) accept D) help

17.

Phrases for Apologies	Phrases for Wishes
- ? -	I wish I knew Julia's phone number

- A) What I'd like more than anything is a house near the seaside.
B) Something I have always wanted is being an English teacher.
C) If only I had an umbrella right now. It is raining outside.
D) I am sorry. I shouldn't have said that.

18. I'm so happy. I could buy the house - - - - it was very expensive.

- A) although B) because
C) so D) since

19. I wish I - - - - Mary of stealing my money. I found the money in my pocket last night.

- A) didn't accuse
B) hadn't accused
C) wouldn't accuse
D) won't accuse

20. You're in a room with your friend. It's very cold in the room and you would like to close the window.

Bu durumda söylenebilecek en uygun ifade aşağıdakilerden hangisidir?

- A) I was wondering if you'd mind closing the window?
B) Could you close the window, please?
C) Is it OK if I close the window?
D) Do you mind opening the door please?

(502) ALMANCA – 8

1 - 15. sorularda boş bırakılan yere uygun gelen kelime ya da ifadeyi işaretleyiniz.

1. Meine Mutter will sich einen neuen Kühlschrank kaufen, - - - -.

- A) der sehr gut Staub saugt
B) der sehr gut kühlt
C) der gut heizt
D) der gut bügelt

2. Das ist ein Staubsauger, mit dem man - - - - saugt.

- A) das Essen B) die Kleider
C) den Teppich D) die Haare

3. Die Frau, - - - - ich geholfen habe, spricht perfekt Deutsch.

- A) die B) der
C) das D) dem

4. Sie möchte einen - - - -, der sehr gut trocknet.

- A) Handy
B) Fernseher
C) Kaffemaschine
D) Haartrockner

5. Die Frau mit - - - - hat ein Bügeleisen gekauft.

- A) dem roten Rock
B) einen roten Rock
C) ein roter Rock
D) die rote Röcke

6. Das ist ein Gerät mit einem stark - - - - Motor.

- A) -en B) -em
C) -er D) -es

7. Man kann über das Internet - - - - einkaufen. (Ucuz)

- A) schädlich B) nötig
C) billig D) teuer

8. A: Ayşe braucht einen Kopfhörer. B: - - - - Kopfhörer braucht sie? A: Einen Kopfhörer mit einem langen Kabel.

- A) Was für ein
B) Was für einen
C) Was für eine
D) Was für eins

1. OTURUM

9. Der Postbote war sehr - - - - .
(Kaba)

- A) praktisch B) unpraktisch
C) höflich D) unhöflich


10. Mit - - - - Kommunikationssystemen
ist man immer erreichbar.

- A) modern B) modernen
C) modernes D) moderne

11. Ahmet muss ein neues Konto - - - - .

- A) laufen B) gesehen
C) eröffnen D) kaufen

12.



Das ist ein - - - - .

- A) Karton B) Brief
C) Paket D) Etikett

13. Das Handy, - - - - eine 18 MP
Kamera hat, ist teuer.

- A) das B) der
C) die D) den

14. Hausgeräte, - - - - das Leben
leichter machen, sind praktisch.

- A) der B) dem
C) die D) den

15. Wenn meine Mutter reich - - - - ,
würde sie sich ein neues Haus
kaufen.

- A) wäre B) würde
C) hätte D) könne

16. Was ist ein Vorteil von der Technik?

- A) Computer schaden der
Gesundheit.
B) Sie schadet der Natur.
C) Autos sind umweltschädlich.
D) Sie erleichtert das Leben.

17. Was kann man nicht schreiben?

- A) Eine Karte.
B) Einen Brief.
C) Einen Stuhl.
D) Eine Prüfung.

18. "Man schreibt die Adresse rein."
cümlesinin pasif hâli hangisidir?

- A) Die Adresse wird reingeschrieben.
B) Ich schreibe die Adresse rein.
C) Jemand schreibt die Adresse rein.
D) Die Adresse soll man reinschreiben.

19.



Şarj aleti

Was ist das?

- A) Lautsprecher
B) Kopfhörer
C) Speicherkarte
D) Ladegerät

20. "angenehm" sıfatının zıt anlamlısı
aşağıdakilerden hangisidir?

- A) unerlaubt B) unsicher
C) unbrauchbar D) unangenehm

(502) FRANSIZCA – 8

1 - 19. sorularda boş bırakılan
yere uygun gelen sözcük ya da
ifadeyi bulunuz.

1. La viande rouge est riche - - - - .

- A) en métal B) en papier
C) en laine D) en protéine

2. Pour trouver du yaourt et du
fromage blanc, je vais au rayon
- - - - .

- A) poissonnerie
B) produits laitiers
C) boucherie
D) boulangerie

3.



Il lève - - - - au-dessus de la tête.

- A) les oreilles B) les bras
C) les genoux D) les pieds

4. Hier après-midi, l'ambulance - - - -
rapidement au lieu d'accident.

- A) arrivera B) arrives
C) va arriver D) est arrivée

5. Birol : Quel - - - - est le symbole de
Denizli ? Tu le sais, Louis ?

Louis : Oui, bien sûr. C'est le coq.

- A) animal B) fleur
C) saison D) couleur

6. Il est interdit de parler sa langue
maternelle - - - - .

- A) dans un jardin public
B) sur la plage
C) en classe de langue étrangère
D) à la maison

7. Client : Un kilo de fraises, - - - - ?
Marchand : Deux euros, Monsieur.

- A) c'est combien
B) ça va bien
C) c'est quel jour
D) c'est où

8. Il y a quatre - - - - dans une année.

- A) mois B) saisons
C) jours D) semaines

9. Avant d'aller à ce restaurant, il faut
- - - - des places.

- A) travailler B) monter
C) réserver D) descendre

10. Selon moi, la cuisine turque est
- - - - du monde.

- A) la meilleure B) le plus
C) aussi D) moins de

11. Tous les pantalons de mon fils
sont trop courts ; il a - - - - de 5 cm
en deux mois.

- A) choisi B) pris
C) grandi D) mis

12. Ma mère demande à mon père - - - -
quel âge il travaillera.

- A) pour B) depuis
C) en D) jusqu'à

1. OTURUM

(511) FIKİH – 1

13. Tu as fait une erreur de calcul, ----.

- A) donc ton résultat est faux
B) alors on va au cinéma
C) c'est pour ça qu'on sort le soir
D) mais il ne te connaît pas

14. Ma mère a fait la cuisine ---- plusieurs jours parce qu'elle sera absente la semaine prochaine.

- A) avec B) pour
C) dans D) par

15. Aujourd'hui, c'est moi qui ferai la vaisselle. Laisse, je me (m') ---- occupe.

- A) y B) en C) lui D) l'

16. Arthur m'invite à la piscine municipale, mais je ne veux pas ---- aller.

- A) y B) en C) l' D) lui

17. Le cousin de Jacques est tombé par terre quand il ---- trop vite.

- A) as couru B) courra
C) courait D) cours

18. La cravate de Monsieur Dupont est jaune, mais ---- est grise.

- A) le mien B) les siennes
C) la vôtre D) les nôtres

19. Je peux aller en voiture jusqu' ---- Espagne.

- A) au B) à la C) aux D) en

20.



Görsele göre aşağıdakilerden hangisi doğrudur ?

- A) Il fait froid et il a faim.
B) Il pleut et il court.
C) Il y a du soleil et il a l'air content.
D) Il fait très chaud et il a soif.

1. Aşağıdakilerden hangisi fıkıh âlimi için kullanılan terimlerden biri değildir?

- A) Müftü B) Müfessir
C) Müçtehit D) Fakih

2. Fıkıh ilmi, hayatın akışı içerisinde vahiy ile insan davranışlarını buluşturmakta, Kur'an ve sünnette yer alan şer'i hükümlerin pratiğe aktarılmasında ve bir yaşam tarzına dönüşürülmesinde köprü olmaktadır.

Bu metinde fıkıh ilminin aşağıdaki yönlerinden hangisi vurgulanmaktadır?

- A) Doğuşu
B) Gelişimi
C) Önemi
D) Diğer ilimler ile olan ilişkisi

3. Ukûbât bölümü aşağıdaki konulardan hangisini ele alır?

- A) Dünyevi cezalar
B) İbadetler
C) Evlenme ve boşanma
D) Miras ve vasiyet

4. Şer'i deliller, bu delillerden çıkarılan şer'i hükümler, bu hükümleri çıkaran müçtehit ve müçtehidin kullandığı içtihat yöntemini konu edinen ilim dalı aşağıdakilerden hangisidir?

- A) Tefsir usulü B) Hadis usulü
C) Fıkıh usulü D) Akaid usulü

5. "Allah, bir kimseyi ancak gücünün yettiği şeyle yükümlü kılar..." (Bakara suresi, 286. ayet)

Bu ayetten aşağıdaki fıkıh ilkelerinin hangisine ulaşılabılır?

- A) Kamu yararının gözetilmesi
B) Helallerde genişlik
C) Adaletin gözetilmesi
D) Tekliflerde kolaylık

6. "Helal, Allah'ın kitabında helal kıldığı, haram da Allah'ın kitabında haram kıldığıdır; hakkında bir şey söylemedikleri ise sizin için affedilip serbest bırakılmıştır."

Bu hadis aşağıdaki fıkıh ilkelerinden hangisi ile ilgilidir?

- A) Eşyada asıl olan mubahlıktır.
B) Meşakkat kolaylığı gerektirir.
C) Zaruretler yasak olan şeyleri mubah kılar.
D) Toplumla ilgili düzenlemeler maslahata bağlıdır.

7. Bir işte zorluk ve sıkıntı görülünce kolaylaştırma yoluna gidilir.

Aşağıdakilerden hangisi bu ilkeye örnek gösterilebilir?

- A) Tehlikeli bir işin önlem alınarak yapılması
B) Hastalıktan dolayı namazın oturuş olarak kılınması
C) Devletin yol yapmak için kişinin özel mülkünü satın alması
D) Açlık sebebi ile ölüm korkusu yaşayan kimsenin murdar hayvan eti yemesi

8. "el-Müstesfâ" adlı eser aşağıdaki âlimlerden hangisine aittir?

- A) Ömer Nasuhi Bilmen
B) Zekiyuddin Şaban
C) İmam eş-Şâtibî
D) İmam el-Gazâlî

9. Fıkıh ilminin Mekke dönemi ile ilgili aşağıdakilerden hangisi söylenebilir?

- A) Bireysel ve toplumsal esasların belirlenmesine önem verilmiştir.
B) İnanç ve ahlak konularına öncelik verilmiştir.
C) Zekât, oruç gibi ibadetler emredilmiş, içki ve kumar yasaklanmıştır.
D) Suç ve cezalar ile ilgili hükümlerin çoğunluğu bu dönemde bildirilmiştir.

10. Aşağıdakilerden hangisi Hz. Peygamber'in vefatı ile sona ermiştir?

- A) Nesh B) İctihat
C) Kıyas D) Azimet

1. OTURUM

11. İçki yasaklanırken insanları önce içki-
den soğutan ve uzaklaştıran ara hü-
kümler konmuş, daha sonra tama-
men yasaklanıp kesin hüküm beyan
edilmiştir.

**Bu durum aşağıdaki kavramlardan
hangisine örnektir?**

- A) Ruhsat B) İstishab
C) Teklif D) Tedric

12. **Aşağıdakilerden hangisi Kûfe eko-
lünü temsil etmektedir?**

- A) İmam Ebu Hanife
B) İmam Şafi
C) İmam Malik
D) İmam Câfer

13. **Aşağıdakilerden hangisi yedi müç-
tehit sahabeden biri değildir?**

- A) Ali bin Ebi Talib
B) Zeyd bin Sabit
C) İbrahim en-Nehaî
D) Abdullah bin Mes'ud

14. **Aşağıdaki uygulamalardan hangisi
tabiin dönemi içtihatlarına örnektir?**

- A) Evlâdın ölen babası adına hac
yapabilmesi
B) Teravih namazının cemaatle kılın-
maya başlanması
C) Namaza çağrının ezan ile yapıl-
masına karar verilmesi
D) İslam ülkesine izinle giren bir gay-
rimüslimi öldüren Müslümana kı-
sas uygulanması

15. **Aşağıdakilerden hangisi müçtehit-
te bulunması gereken özellikler-
den değildir?**

- A) Arap diline vakıf olmak
B) Hz. Peygamber döneminde yaşa-
mış olmak
C) Dinin genel amaçlarını bilmek
D) Fıkıh usulünde yeterli bilgi biriki-
mine sahip olmak

16. **Mezhepler ile ilgili aşağıdakilerden
hangisi söylenemez?**

- A) İnsan kaynaklıdır.
B) Din değil, dinin yorumudur.
C) Hükümleri zamana ve mekâna
göre değişiklik göstermez.
D) Müçtehitlerin dinî konuları farklı
yorumlamasının bir sonucudur.

17. • Fıkıh usulü temel olarak hadislerle
dayanır.
• Buharî ve Müslim kendisinden ha-
dis rivayet etmiştir.
• el-Müsned, en önemli eseridir.

**Hakkında bilgi verilen âlim aşağı-
dakilerden hangisidir?**

- A) Malik bin Enes
B) Ahmed bin Hanbel
C) Câfer es-Sadık
D) Muhammed bin İdris eş-Şafî

18. Kur'an'da "Ey iman edenler! Cuma
günü namaza çağrıldığınız zaman
hemen Allah'ı anmaya koşun ve alış-
verişi bırakın..." (Cum'a suresi, 9.
ayet) buyrulurken bütün müminlerin
cuma namazını kılması farz kılınıp-
tır. Fakat Hz. Peygamber bu ayetin
genel hükmünü sınırlamış ve cuma
namazının erkeklere farz olduğunu
açıklamıştır.

**Bu durum aşağıdaki sünnet çeşit-
lerinden hangisi ile ilgilidir?**

- A) Tebyin
B) Te'kid
C) Teşri - tedric
D) Tekyid - tahsis

19. Kitap, sünnet veya icmada hükmü
bulunmayan meseleye, aralarındaki
illet birliği sebebiyle bu kaynaklardan
birinde yer alan meselenin hükmünü
vermektedir.

**Tanımı yapılan kavram aşağıdaki-
lerden hangisidir?**

- A) Sedd-i Zerai
B) Kıyas
C) Sahabe Kavli
D) Maslahat

20. Genel kurala göre oruçlu bir kimsenin
yiyip içmesi orucu bozar. Ancak Hz.
Peygamber "Oruçlu iken unutarak
yiyip içen kimse orucunu tamamlas-
sın, zira onu Allah yedirip içirmiştir."
buyurarak bu durumda orucun bozul-
mayacağını bildirmiştir.

**Bu metinde yer alan hadis aşağı-
daki fer'i delillerden hangisi ile
ilişkilendirilebilir?**

- A) İstihsan
B) Mesalih-i Mürsele
C) Sedd-i Zerai
D) Örf

(532) SEÇMELİ PEYGAMBERİMİZİN HAY. – 2

1. "Allah'ın gönderdiği vahiyleri, emir ve
yasakları insanlara duyurmak; söz,
tutum ve davranışlarıyla açıklamak"
demektir.

**Tanımı yapılan kavram aşağıdaki-
lerden hangisidir?**

- A) Risalet B) Asabiyet
C) Tevhit D) Fetret

2. İlk vahiy geldiğinde Hz. Muhammed
(sav.) kırk yaşındaydı. Allah, 610 yılı
Ramazan ayı Kadir Gecesi'nde
Cebrail aracılığı ile buyruklarını bildir-
di. Nur Dağı'ndaki Hıra Mağarası'nda
Alak suresinin ilk ayetleri nazil oldu.
Böylece Hz. Muhammed'in (sav.)
peygamberlik görevi başlamış oldu.

**Bu metinde ilk vahiy ile ilgili aşağı-
daki sorulardan hangisinin cevabı-
na yer verilmemiştir?**

- A) Nerede gelmiştir?
B) Ne zaman gelmiştir?
C) Ayetlerinin konusu nedir?
D) Nasıl bildirilmiştir?

3. "Ey bürünüp sarınan Resul'üm! Kalk
ve insanları uyar. Rabb'ini yücelt.
Elbiselerini temiz tut. Kötü şeyleri
terke devam et."
(Müddessir suresi, 1-5. ayetler)

**Bu ayetlerden aşağıdakilerin han-
gisine ulaşılabilir?**

- A) İslam'ın son din olduğuna
B) Tebliğin gizli yapılması gerektiğine
C) Kur'an-ı Kerim'in mucize bir kitap
olduğuna
D) Hz. Muhammed'in (sav.) tebliğ ile
görevlendirildiğine

1. OTURUM

4. Aşağıdaki ayetlerin hangisi Hz. Peygamber'in tebliğ metodu ile ilgilidir?

- A) "Yaratan Rabb'inin adıyla oku! O, insanı bir aşlanmış yumurtadan yarattı. Oku! Senin Rabb'in sonsuz kerem sahibidir."
(Alak suresi, 1-3. ayetler)
- B) "Sen onlara sırf Allah'ın lütfu sayesinde yumuşak davrandın. Eğer kaba, katı kalpli olsaydın, hiç şüphesiz etrafından dağılır giderlerdi..."
(Âl-i İmrân suresi, 159. ayet)
- C) "Şüphesiz Allah, kendisine ortak koşulmasını bağışlamaz. Bunun dışındaki günahları, dilediği kimseler için bağışlar..."
(Nisâ suresi, 116. ayet)
- D) "Andolsun, Allah'ın Resulü'nde sizin için; Allah'a ve ahiret gününe kavuşmayı uman, Allah'ı çok zikreden kimseler için güzel bir örnek vardır."
(Ahzâb suresi, 21. ayet)

5. Aşağıdaki bilgilerden hangisi Hz. Ebu Bekir ile ilgili değildir?

- A) Medine'ye hicrette Hz. Peygamber'in yanında yer almıştır.
- B) İslam'ı kabul eden ilk dört Müslümandan biridir.
- C) Dürüst ve zengin bir tüccardır.
- D) Hz. Peygamber'in amcasıdır.

6. Mekke'deki müşriklerin eziyetlerine maruz kalan ve İslam'ın ilk şehidi olarak tarihe geçen sahabe aşağıdakilerden hangisidir?

- A) Hz. Ümmü Seleme
- B) Hz. Halime
- C) Hz. Sümeyye
- D) Hz. Fatıma

7. "Allah çektiğiniz sıkıntılardan kurtulmanız için bir yol gösterinceye kadar Habeşistan'a göç etmeniz iyi olur. Zira orada, yanındakilerden hiçbirine zulüm yapılmayan bir hükümdar vardır."

Bu hadiste adaletinden söz edilen hükümdar aşağıdakilerden hangisidir?

- A) Necâşî Ashame
- B) Hüsrev Perviz
- C) Heraklius
- D) Mukavkıs

8. Aşağıdakilerden hangisi Habeşistan'a hicretin sonuçlarından biri değildir?

- A) Vahyin tüm dünyaya yayılmasında çıkış yolu olması
- B) İslam'ın farklı coğrafyalara yayılmasına öncülük etmesi
- C) Müslümanların dinlerini özgürce yaşayabilecekleri bir ortama kavuşması
- D) İlk vahiyden sonra vahyin bir müddet kesintiye uğraması

9. I. Hz. Muhammed'in (sav.) Hilfü'l-fudul'de aktif rol alması
II. İslam'ın Mekke'de hızla yayılmaya başlaması
III. Hz. Hamza ve Hz. Ömer'in Müslüman olması
IV. Muhacir ile Ensar arasında kardeşliğin gerçekleşmesi

Numaralanmış bilgilerden hangisi müşriklerin Müslümanlara boykot uygulamasının sebeplerindendir?

- A) I ve III B) I ve IV
C) II ve III D) II ve IV

10. Tâif yolculuğunda Hz. Peygamber'e eşlik eden sahabe aşağıdakilerden hangisidir?

- A) Hz. Ali
- B) Hz. Ebu Bekir
- C) Hz. Bilal-i Habeşi
- D) Hz. Zeyd bin Harise

11. Aşağıdakilerden hangisi Hz. Peygamber'e miraçta verilen müjdelere biridir?

- A) Allah'a şirk koşmayanların cennete gireceği
- B) Kendisine kevser gibi bir nimetin verildiği
- C) Mekke'nin Müslümanlar tarafından fethedileceği
- D) Kiblenin Mescid-i Aksa'dan Mescid-i Haram'a çevrilmesi

12. Aşağıdakilerden hangisi Medine'ye hicret etme sebeplerinden biri değildir?

- A) Akabe biatları ve Medinelilerin davet etmesi
- B) İsrâ ve Miraç olayının gerçekleşmesi
- C) Müslümanlara yapılan baskı ve zulümlerin artması
- D) Mekke'de İslam'ı tebliğ etme ortamının kalmaması

13. Aşağıdakilerden hangisi Kur'an-ı Kerim'de "temeli takva üzere kurulan mescit" olarak nitelendirilmektedir?

- A) Mescid-i Kuba
- B) Mescid-i Aksa
- C) Mescid-i Haram
- D) Mescid-i Kibleteyn

14. Mescid-i Nebi'nin inşası sürecinde Hz. Peygamber'i evinde misafir eden sahabe aşağıdakilerden hangisidir?

- A) Hz. Ka'b bin Mâlik
- B) Hz. Ebu Hüreyre
- C) Hz. Ebu Eyyub el-Ensari
- D) Hz. Es'ad bin Zürrâe

15. Hz. Peygamber'in, İslam'ı anlatması için Yemen'e gönderdiği sahabe aşağıdakilerden hangisidir?

- A) Hz. Talha bin Ubeydullah
- B) Hz. Zübeyr bin Avvâm
- C) Hz. Said bin Zeyd
- D) Hz. Muaz bin Cebel

16. "Hicret sonrasında Hz. Peygamber'in Muhacirler ile Ensar'ı birbiriyle kardeş ilan etmesi" aşağıdaki kavramlardan hangisi ile ifade edilmektedir?

- A) Musahip B) Muâhât
C) Sahabe D) Sadakat

17. • Müslümanlarla Yahudiler, barış içinde yaşayacak.
• Dışarıdan bir saldırı olursa Medine birlikte savunulacak.
• Müslümanlarla Yahudiler arasında bir anlaşmazlık çıkarsa Hz. Peygamber hakem kabul edilecek.

Bu kararlar aşağıdaki antlaşmaların hangisinde alınmıştır?

- A) Rıdvan Biatı
- B) Kardeşlik Antlaşması
- C) Medine Sözleşmesi
- D) Hudeybiye Antlaşması

1. OTURUM

18. Hz. Peygamber, İslam'ın ticari hükümlerini göstermek, alışverişin adap ve kurallarını öğretmek, ekonomik bağımsızlığı temin etmek için, Müslümanlara ait bir pazar yerinin olması gerektiğine karar verdi. Sahabelere, Mescid-i Nebi'nin batısında bir pazar yeri gösterdi. Sınırlarını kendisi belirledi. Pazarı da bizzat kendisi denetledi. Ticarete kandırma, hile ve sahtekârlık gibi cahiliyeden kalma kötü alışkanlıkları yasaklayarak güven ortamını oluşturdu.

Bu metinden Hz. Peygamber ile ilgili aşağıdakilerden hangisine ulaşılamaz?

- A) Hak ve adalete önem verdiğine
B) Aldığı kararları ciddiyetle uyguladığına
C) Sosyal hayatta etkili bir insan olduğuna
D) Gayrimüslimlerle ticari antlaşmalar yaptığına

19. Vatandaşlık Antlaşması'nı bozan ilk Yahudi kabilesi aşağıdakilerden hangisidir?

- A) Kaynukaoğulları
B) Kurayzaoğulları
C) Nadiroğulları
D) Hazrec kabilesi

20. "İnsanlardan inanmadıkları hâlde 'Allah'a ve ahiret gününe inandık' diyenler de vardır. Bunlar Allah'ı ve inananları aldatmaya çalışırlar. Oysa sadece kendilerini aldatırlar da farkında değillerdir."
(Bakara suresi, 8-9. ayetler)

Bu ayetlerde aşağıdaki inanç gruplarından hangisine değinilmektedir?

- A) Müminler B) Münafıklar
C) Müşrikler D) Kâfirler

(544) TÜRK DİLİ VE EDEBİYATI – 4

1. **PİŞEKÂR** – Ne hâldesin bakalım?
Peder nerelerde?

KAVUKLU – Peder göçtü.

PİŞEKÂR – Tamir ettireydin.

KAVUKLU – İki payanda vurdurduk, kâr etmedi. Peder yürüdü.

PİŞEKÂR – Sılaya mı saldınız?

KAVUKLU – Helvacıdede'ye götürdük... Peder merhum oldu.

PİŞEKÂR – A birader, doktora götürseydin, burnunu açardı.

KAVUKLU – Geçen yağmurda oluklar tıkanmış, tenekeciye zor açtırabilirdik. Sen dayak yer misin?

PİŞEKÂR – Anladım: Pederiniz ölmüş.

KAVUKLU – Hele çok şükür anlayabildi!

Bu parça aşağıdakilerin hangisinden alınmıştır?

- A) Orta oyunu
B) Karagöz
C) Meddah
D) Köy seyirlik oyunu

2. **Aşağıdakilerden hangisi romanın yapısal öğelerinden biridir?**

- A) Mekân B) Bakış açısı
C) Dil ve anlatım D) Tema

3. Şiiri eleştirirken onun içeriğine bakmak bana kolaycılıkmış ve doğru değilmiş gibi geliyor. Bana göre, bir şiirin şiir olup olmadığı yapıyla, biçimiyle yeni bir öneride bulunup bulunmadığına bağlıdır. Şiirde ne söylediğiniz değil nasıl söylediğiniz önemlidir. Yoksa şiirin bir anlatıdan farkı kalmaz.

Bu parçanın anlatımında aşağıdaki düşüncüyü geliştirme yollarının hangisinden yararlanılmıştır?

- A) Tanık gösterme
B) Karşılaştırma
C) Örnekleme
D) Sayısal verilerden yararlanma

4. Doğu'yu içinde taşıırken Batı'yı özleyenlerin, geçmişini gönlünde yaşatırken geleceğe değmek isteyenlerin; şifa bulmaz sıla hastalığının, bir büyük hülyanın, Ahmet Hamdi Tanpınar'da zamanın hikâyesi böyle başlar.

Bu parçada geçen "sıla hastalığı" ile anlatılmak istenen aşağıdakilerden hangisidir?

- A) Zamanın geçmişi yok ederek hızla geçmesi
B) Yazarların Batı hayranlığının hastalığa dönüşmesi
C) Eski ve yeni bir potada eritme isteği
D) Doğu kültüründen vazgeçmeme düşüncesi

5. Çocukken, uzun kış gecelerinde; "Elektrikler kesilse de mum ışığında ellerimle duvarlarda, denizin üzerinde uçan yelkovan kuşlarını, okyanusta sıçrayan balinaları ve dağlardaki kurt siluetlerini oluştursam..." diye beklerdim. Öyle anlarda hayvan gölgeleri masal kahramanları olur, gizemli bir dünya sunarlardı bana.

Bu parçayla ilgili aşağıdakilerden hangisi söylenemez?

- A) Geriye dönüş tekniğinden yararlanılmıştır.
B) I. tekil anlatıcı kullanılmıştır.
C) Benzetmeye yer verilmiştir.
D) Bir sosyal romandan alınmıştır.

6. **Aşağıdaki cümlelerin hangisinde birden çok koşul bulunmaktadır?**

- A) Beni duyuyorsan, dediklerimi anlayabiliyorsan bir gece ansızın gelebilirim.
B) Eserlerinde kalıcılığı yakalamak istiyorsa kullanacağı dili iyi seçmelidir.
C) Geçmişine değer verirsene gelecek sana kucak açar.
D) Başladığı kitabı sevdiyse soluksuz okur.

7. **5N1K kuralında amacı belirleyen soru aşağıdakilerden hangisidir?**

- A) Kim B) Nasıl
C) Neden D) Nerede

1. OTURUM

8. Chateaubriand, 1768 yılında bardaktan boşanırcasına yağmurun yağdığı, fırtına yüzünden ağaç dallarının kopup metrelerce sürüklendiği soğuk bir Saint Malo gecesinde dünyaya geldi. Pek de keyifli olmayan bir çocukluğun ardından, gençlik yıllarında edebiyata olan yatkınlığı nedeniyle 18. yüzyıl Fransız yazarlarının dikkatini çekti. 1801 yılında Atala isimli eseriyle entelektüel çevrelerde adından söz ettirmeye başladı.

Bu parçada aşağıdaki anlatım biçimlerinden hangisine yer verilmiştir?

- A) Açıklayıcı B) Tartışmacı
C) Betimleyici D) Öyküleyici

9. Aşağıdaki eserlerden hangisi Halide Edip Adivar'a aittir?

- A) Araba Sevdası
B) Sergüzeşt
C) Ateşten Gömlek
D) Eylül

10. I. Tanzimat Dönemi'ndeki romanlar ilk örnekler olduğu için teknik yönünden kusurludur.
II. Tanzimat Dönemi romanında yurt dışına göç eden işçilerin sorunları işlenmiştir.
III. Tanzimat'ın ilk döneminde realizm ve natüralizm etkili olmuştur.
IV. Türk edebiyatındaki ilk edebî roman olan İntibah, Tanzimat Dönemi'nde yazılmıştır.

Numaralanmış cümlelerin hangilerinde yanlış bilgi verilmiştir?

- A) I ve II B) II ve III
C) I ve IV D) III ve IV

11. Yattığımız oda tıklım tıklım eşya doluydu () Koltuklar, sehpa, süs eşyaları, fotoğraflar () Bir köşede de bizim torba ve filelerimiz vardı () Ev halkının gözü kapıdaydı; merak edilen, odaya ilk kim girecekti ()

Bu parçada yay ayrıla gösterilen yerlere sırasıyla aşağıdaki noktalama işaretlerinden hangileri getirilmelidir?

- A) (:) (...) (.) (?) B) (.) (,) (...) (.)
C) (:) (?) (,) (.) D) (!) (...) (.) (!)

12. İbrahim Şinasi, İstanbul'da doğan Türk gazeteci, şair, tiyatro yazarı ve düşünürdür. Batılılaşmanın ilk adımlarını atan sanatçı, birçok türde eser vermiştir. Zorla Evlenme, Kibarlık Budalası,

I II
Şair Evlenmesi ve Gülünç Kibarlar
III IV

eserlerinden birkaçıdır.

Bu parçadaki numaralanmış eserlerden hangisi sözü edilen sanatçıya aittir?

- A) I B) II C) III D) IV

13. • Güldürü unsurları ön plandadır.
• Önceden hazırlanan bir metni vardır.
• Söz oyunları ve tekerlemelerden yararlanılır.

Bu cümleler "geleneksel Türk halk tiyatrosu" ile ilgili doğru-yanlış olarak değerlendirildiğinde sıralama aşağıdakilerden hangisi olur?

- A) D-Y-D B) D-D-Y
C) Y-D-Y D) Y-Y-D

14. Aşağıdakilerden hangisi haber yazısına ait bir terimdir?

- A) Mukaddime B) Muhavere
C) Tekzip D) Fasil

15. Türkistan şehri, Taşkent'in 270 kilometre kuzeyinde, Kazakistan Cumhuriyeti'ndedir. Mavi dağların çevrelediği bir oavadan, ekseriyeti kerpiç olan evlerden oluşan 15 bin kadar nüfuslu bir şehirdir. Trenimiz, işte bu şehre bayramın ilk günü, sabahleyin erkenden vardı. Bulduğumuz oada, Hoca Ahmet Abidesi, yüksek kubbeleriyle en uzaklardan görülüyordu.

Bu parça aşağıdaki metin türlerinden hangisine örnektir?

- A) Haber yazısı B) Deneme
C) Gezi yazısı D) Makale

16. Nehirler mademki canlıdır, onlarında

I II
bizler gibi bahtiyarı ve bahtsız var. Tuna kaç defa talihli: Yatağına keyifince yerleşmiş. Çölde değil kavrulmuyor, fakir değil geliri, çıplak değil ağaçlı. Hiç bir
III IV
tablo kendine bu kadar uygun çerçeve bulamadı.

Bu parçadaki numaralanmış sözlerin hangisinde yazım yanlışı yoktur?

- A) I B) II C) III D) IV

17. Sait Faik'le arkadaşlığımız 1939 yılında başladı. Onu ilk gördüğüm yer Küllük Kahvesi'ydi. Yanında Abidin Dino vardı. Daha sonra birkaç kez Nisvaz'da karşılaştık. Ben kendimi biliyorum ya herkesin de beni bileceği sanıyordum. Oysa Sait Faik için ben, bir edebiyat heveslisiydim. Bana dikkati, adımlı bile aklında tutacak denli değildi. Kalktım; o sıralar yazıhanesine, onu görmeye gittim. Aslında yazıhane, yakınlarda yitirdiği babasının dış ülkelerle alışveriş ettiği ticaret yeri. O gün yazıhaneye girdiğimde, odanın ortasındaki bir koltuğa oturmuş kitap okuyordu...

Bu parça aşağıdaki metin türlerinden hangisine örnektir?

- A) Haber yazısı B) Makale
C) Gezi yazısı D) Anı

18. Aşağıdaki cümlelerden hangisi anlamca olumlu, yapıcı olumsuzdur?

- A) Yaptıklarından korktu belki de Ayşe Hanım.
B) O mesafeyi koşacak nefesim mi var?
C) Oralar bu mevsimde soğuktur.
D) Aslında ödülü hakletmiyor değil.

19. Uğursuz bir aşktan kurtulmuş olan Ali Bey ilk rastladığı bu güzel kıza gönlünü kaptırmış, kalbi şiddetle çarpmaya başlamıştı. Mahpeyker'le Dilaşup'u mukayese etti: Ötekinin yaptığı bütün davranışlar yapmacık, bütün söyledikleri yalandı. Dilaşup ise her hâliyle sevimliye layık bir melekti.

Bu parça, Namık Kemal'in aşağıdaki eserlerinin hangisinden alınmıştır?

- A) Gülnihal B) İntibah
C) Zavallı Çocuk D) Cezmi

20. Türk edebiyatında gazete, Batı'yla ilişkilerin güçlendiği Tanzimat Dönemi'yle birlikte başlamıştır. Tanzimatçılar, halkı aydınlatmak ve onlara yol göstermek amacıyla gazete çıkarmıştır. İlk özel Türk gazetesi 1860'ta İbrahim Şinasi ve Agah Efendi tarafından çıkarılmıştır.

Bu parçada sözü edilen gazete aşağıdakilerden hangisidir?

- A) Tasvîr-i Efkâr
B) Cerîde-i Havâdis
C) Takvîm-i Vekâyî
D) Tercümân-ı Ahvâl

1. OTURUM

(547) TÜRK DİLİ VE EDEBİYATI – 7

1. Aşağıdakilerden hangisi

Cumhuriyet Dönemi'nde yazılan sözlüklerdendir?

- A) Divanü Lugâti't-Türk
- B) Lehçe-i Osmanî
- C) TDK Türkçe Sözlük
- D) Ahterî Sözlüğü

2. Aşağıdaki cümlelerin hangisinde "çember" sözcüğü mecaz anlamda kullanılmıştır?

- A) 60'lı yıllarda bu sokaklar çember çeviren çocukların kahkahalarıyla çinlardı.
- B) Yeterli kaynağı bulamazsa ekonomisi kötüye giden şirketin bu çemberden çıkması güç görünüyor.
- C) Öğretmenimiz, konuyu anlatmaya başlamadan önce tahtaya bir çember çizdi.
- D) Köyü gören dağın tepesine çıkınca çiçek oyalı çemberini çıkarıp rüzgâra tuttu.

3. Edebiyat bilimi ve eleştirisi ile uğraşanlar yapıtlardaki kurmaca kahramanların bilinçaltını ve dolayısıyla metnin arka planını aydınlatmak için - - - - biliminin birikimlerinden faydalanır.

Bu cümlede boş bırakılan yere aşağıdakilerden hangisi getirilmelidir?

- A) biyoloji
- B) psikoloji
- C) tarih
- D) sosyoloji

4. Eski Anadolu Türkçesinde "kötü" anlamında kullanılan "yavuz" sözcüğü, zamanla "yaman, hızlı" anlamlarını kazanmıştır.

Bu durum aşağıdaki anlam değişmelerinden hangisiyle ilişkilidir?

- A) Anlam kötüleşmesi
- B) Anlam daralması
- C) Anlam genişlemesi
- D) Anlam iyileşmesi

5. 1960 sonrası Türk hikâyesi için aşağıdakilerden hangisi söylenemez?

- A) Yeni anlatım teknikleri ve bakış açıları kullanılır.
- B) Ele alınan konular çok çeşitlidir.
- C) Yazar sayısında artış gözlemlenir.
- D) Eserler teknik açıdan zayıftır.

6. Erzincan'da doğar. Erzurum Atatürk Üniversitesi Türk Dili ve Edebiyatı Bölümünden mezun olduktan sonra çeşitli liselerde edebiyat öğretmeniği yapar. Hikâyelerinde genellikle gerçek hayatta yaşanan olay ve durumlardan hareketle toplum sorunlarını ele alır. Gelenekten ve modern/post-modern anlatım tekniklerinden yararlanır. Eserlerinden bazıları: Bu Böyledir, Uzun Hikâye, Hayat Güzeldir, Şehir Mektupları...

Bu parçada sözü edilen yazar aşağıdakilerden hangisidir?

- A) Gülten Dayıoğlu
- B) Mustafa Kutlu
- C) Erendiz Atasü
- D) Füzûzan

7. Az sayıda kelimeyle oluşturulan, yöğün anlatıma sahip hikâyelerdir. Türk edebiyatında bu hikâye türünün öncü isimlerinden olan Ferit Edgü, bu tür hikâyeleri "yalnızca bir ânın saptaması olan öykücükler" olarak niteler. Bu tür hikâyelerde, ele alınan durumun en çarpıcı, en can alıcı noktası üzerinde durulur.

Bu parçada sözü edilen aşağıdakilerden hangisidir?

- A) Küçürek hikâye
- B) Modernist hikâye
- C) Postmodernist hikâye
- D) Geleneksel hikâye

8. (I) Ortaçağ tıbbının en önemli temsilcileri arasında yer alan İbn-i Sina modern bilimin kurucusu olarak bilinir. (II) 980 yılında bugünkü Özbekistan sınırları içinde yer alan Buhara Şehrinde dünyaya gelir. (III) Fizik, meta fizik ve felsefe gibi çeşitli alanlardaki çalışmalarından sonra tıp alanına yönelir. (IV) Araştırmaları sırasında bazı hastalıkların bulaşmasında gözle görülmeyen birtakım canlıların etkili olduğunu fark eder ve mikropların varlığını keşfeder.

Bu parçadaki numaralanmış cümlelerin hangisinde yazım yanlışı yoktur?

- A) I
- B) II
- C) III
- D) IV

9. Zafer "Zafer benimdir." diyebilenlerindir.

Bu cümledeki altı çizili sözcük aşağıdaki anlam ilişkilerinden hangisine sahiptir?

- A) Eş seslilik
- B) Yakın anlamlılık
- C) Eş anlamlılık
- D) Zıt anlamlılık

10. Şu çocuğun bir yanık sesi var ki içim parçalanıyor() Alçak düşman söndürmedik ocak mı bıraktı() Zavallı Çoban Salih() Önce kolunu daha sonra da tek bacağını kaybetti ama gene de gönlü cephede()

Bu parçada yay ayrıla gösterilen yerlere sırasıyla aşağıdaki noktalama işaretlerinden hangileri getirilmelidir?

- A) (!) (?) (.) (,)
- B) (.) (:) (!) (...)
- C) (.) (?) (!) (...)
- D) (!) (.) (.) (,)

11. Aşağıdakilerden hangisi saf (öz) şiir anlayışının temsilcilerinden değildir?

- A) Ahmet Hamdi Tanpınar
- B) Nazım Hikmet Ran
- C) Asaf Hâlet Çelebi
- D) Cahit Sıtkı Tarancı

12. Millî Edebiyat anlayışını yansıtan şairler;

- memleket sevgisi, yurt güzellikleri, kahramanlık gibi temaları işlemişlerdir.
- halk şiirinin imkânlarından yararlanarak modern şiirler yazmışlardır.
- Arapça ve Farsça kelimelerle bezeli, kapalı bir dil ve anlatım kullanmışlardır.

Bu cümleler doğru-yanlış olarak değerlendirildiğinde sıralama aşağıdakilerden hangisi olur?

- A) Y-D-Y
- B) D-Y-D
- C) D-D-Y
- D) Y-Y-D

13. Şiirde ölçü ve uyağa karşı çıkılmalı, şiir dilinde şairanelikten kaçınılmalı, edebî sanatlara başvurulmamalıdır. Görülen ve hissedilen şeyler herkesin kullandığı kelimelerle anlatılmalı, şiirde parça ve mısra güzelliğinden daha çok bütün güzelliği önemsenmeli, ahenk konusunda, mısra ve musiki görümler benimsenmemelidir.

Böyle söyleyen bir sanatçı aşağıdaki anlayışlardan hangisini benimsemiştir?

- A) Garip
- B) II. Yeni
- C) Saf (öz) şiir
- D) Halk şiiri

1. OTURUM

14. Ben böyle deniz görmedim ne kadar seni düşündüm
Gittim ne kadar bilemezsiniz ne türlü karanlık
Baktım biri yok o kentlerin hiç olmamışlar gördüm
S bir kadın balkonunda baksam ne zaman olurdu
E sesinde yüzlerce trenler yürürdü Galile'de

Bu dizeler şekil ve içerik özellikleri dikkate alındığında aşağıdaki anlatımlardan hangisine ait olabilir?

- A) Toplumcu gerçekçi şiir
B) II. Yeni
C) Millî Edebiyat'ı yansıtan şiir
D) Halk şiiri

15. Ankara'da doğdu. Alman Dili ve Edebiyatı Bölümünden mezun oldu. Muhasebecilik, çevirmenlik yaptı. Üniversite yıllarında çeşitli dergilerde yayımlanan şiir ve yazılarıyla tanındı. Benlik, varoluş sorunu, Doğu-Batı çatışması, aşk, aile gibi soyut ve bireysel temalı ilk şiirlerinden sonra kendine has bir şiir diliyle imgeli, kapalı, dinî-tasavvufî (içe dönük) şiirler yazdı. Eserlerinden bazıları: İşaret Çocukları, Yedi Güzel Adam, Menziller...

Bu parçada sözü edilen sanatçı aşağıdakilerden hangisidir?

- A) İsmet Özel
B) Sezai Karakoç
C) Erdem Bayazıt
D) Cahit Zarifoğlu

16. Gökyüzünün başka rengi de varmış! Geç fark ettim taşın sert olduğunu. Su insanı boğar, ateş yakarmış! Her doğan günün bir dert olduğunu, İnsan bu yaşa gelince anlarmış.

Bu dizeler ile ilgili aşağıdakilerden hangisi söylenemez?

- A) Karamsarlık duygusu hâkimdir.
B) Redif ve kafiyeye yer verilmiştir.
C) Sanatsız bir üslup kullanılmıştır.
D) Kafiye düzeni "ababa"dır.

17. İki genç arkadaş, yemekten gelmişler; matbaanın üst katında, bir odada dinleniyorlar. Biri koltuğa oturmuş, ayaklarını da bir sandalyeye uzatmış; dişleri arasında sönmüş bir pipo, haf-talık, aylık dergileri karıştırıyor. Öteki, arkadaşının karşısındaki kanepeye uzanmış, yatmış...

Bu parçada hikâyenin yapı unsurlarından hangisi yoktur?

- A) Mekân
B) Kişi
C) Zaman
D) Olay

18. Belediye bahçesinin önüne geldiğim zaman yorgun ve perişandım. Nasıl oldu da buraya kadar hiç fark etmeden gelmişim? Bunu düşünmeye lüzum yoktu. Bu yorgun ve uykusuz adamı şehir kendiliğinden aşağı doğru kaydırmıştı; ben tıpkı bir yokuştan yuvarlanan taş gibi bu nispi düzlüğe gelir gelmez durmuştum.

Bu parça ile ilgili aşağıdakilerden hangisi söylenemez?

- A) Kahraman bakış açısı kullanılmıştır.
B) Açıklayıcı anlatıma başvurulmuştur.
C) Benzetmeden yararlanılmıştır.
D) Niteleyici sözcüklere yer verilmiştir.

19. Osmaniye'de doğmuştur. Güzelleme, koçaklama, taşlama, nasihat, mektup, destan ve devriye tarzında yüzlerce şiir söylemiştir. Atışmaları başanlı olup, öğretici niteliktedir. Çukurova âşıklık geleneği içerisinde önemli bir yere sahiptir. Eserlerinden birkaçı: Ahu Gözlüm, Barışmam, Anadolu'm, Mevlana, Bugün Bayramdır...

Bu parçada sözü edilen sanatçı aşağıdakilerden hangisidir?

- A) Âşık Veysel Şatıroğlu
B) Şeref Taşlıova
C) Âşık Mahsuni Şerif
D) Âşık Feymani

20. Aşağıdakilerden hangisi Murat Çobanoğlu'na ait değildir?

- A) İşte Gidiyorum Çeşm-i Siyahım
B) Cumhuriyet Destanı
C) Öğretmen
D) Dertli Bülbül

(548) TÜRK DİLİ VE EDEBİYATI – 8

1. Dünya yarışmaları içinde Anadolu'nun apayrı bir durumu vardır. Amerika'dan Hindistan'a, Arabistan'dan Ümitburnu'na, Kırım'dan Yunanistan'a, İtalya'dan İskandinavya'ya kadar -ister küçük, ister büyük; ister okyanuslarda, ister kapalı denizlerde olsun- bütün yarımadalara bakınız. Hepsî üzüm dalları gibi salkım salkım, kuzeyden güneye doğru uzanırlar. Yalnız Anadolu yarımadasıdır ki tek başına garba bakar.

Bu parçayla ilgili aşağıdakilerden hangisi söylenemez?

- A) Karşılaştırmadan faydalanılmıştır.
B) Tanık göstermeye yer verilmiştir.
C) Örnelemeye başvurulmuştur.
D) Benzetmeden yararlanılmıştır.

2. Şairimizde, ruh durumu bakımından tutarlılık, çelişmezlik aramayacaktır. Onda tutarlı olan tek şey üsluptur. Birbirine çelişen durumları anlatırken kendisi olarak kalır hep. Bu da şair için bir yerde her şey demektir. Ondan kalacak ve dünyayı, insanlığı zenginleştirecek; yaşamaya çeşni katacak olan da budur ancak.

Bu parçada yazarın savunduğu düşünce aşağıdakilerden hangisidir?

- A) Eserlerinde karşıt duygulara yer veren şairler daha başarılı olur.
B) Hayat, sanatçının eser bırakma çabası ölçüsünde güzelleşir.
C) Şiirde önemli olan içerik ve üslup-taki sürekliliktir.
D) Şair varlığı kendince algılayıp kendine göre dile getirdiği için başkalarından ayrılır.

3. (I) John Steinbeck, The Pearl (İnci) adlı yapıtında kayıtsız bir dünyayı anlatmaktadır. (II) Doğa koşulları acımasız olduğundan insanlar ve ilişkileri de katıdır ama Steinbeck bu acımasız dünyayı anlatırken umudu elden bırakmaz. (III) Özellikle insanoğlunun zalim çevresine uyum sağlayabilmesine övgüler yağdırır. (IV) İnci'de yaşamın sürekliliğine vurgu yapılır. (V) Yaşamın kalıpları değişebilir, bireyler güçlükler yaşayabilir fakat yaşam temelde asla yok edilemez. (VI) Sulara gömülen dev inciyle yenilenir yalnızca.

Bu parça ikiye bölünmek istenirse ikinci paragraf numaralanmış cümlelerin hangisiyle başlar?

- A) II B) III C) IV D) V

4. Hamidiye Etfal Hastanesi, ülkemizin ilk çocuk hastanesidir. Hastanenin kuruluş gayesi, öncelikle hasta fakat yoksul çocukların burada şifa bulmasıdır. Hamidiye Etfal Hastanesi, dönemin görebileceğiniz en modern tıbbi araç-gereçleriyle donatılır. Ayrıca kurumda, en deneyimli hekimler görevlendirilir. Hastane, 1899 yılında hizmete açılır. İlerleyen yıllarda bu sağlık kurumunda birçok uzman yetişir.

Bu parçada ağır basan anlatım biçimi aşağıdakilerden hangisidir?

- A) Betimleme B) Açıklama
C) Tartışma D) Öyküleme

1. OTURUM

5. Romadaki olaylar 1903 yılında Nazilli'de başlar, Edremit'te devam eder ve I. Dünya Savaşı yılları içinde sona erer. Romanda olaylar ilerledikçe bir Anadolu kasabasının I. Dünya Savaşı'ndan önceki yaşayışını, düşünüşünü, hayat şartlarını görürüz. Roman kahramanları, o çağın, o çevrenin insanlarıdır; birbirleriyle ilişkileri de o dönemde belirli şartların biçim verdiği ilişkilerdir. Roman, birbirini tamamlayan şehir-doğa, yapay insan-doğal insan, yozlaşmışlık-masumiyet, şehvet-aşk gibi birtakım karşıtlıklarla örülmüştür.

Bu parçada sözü edilen eser aşağıdakilerden hangisidir?

- A) Yaban
- B) Küçük Ağa
- C) Ayaşlı ve Kiracıları
- D) Kuyucaklı Yusuf

6. İnebolu'da doğdu. Ankara Maarif Koleji ve İTÜ İnşaat Fakültesini bitirdi. Üç yıl sonra akademik hayata başladı. Çeşitli dergi ve gazetelerde makale ve söyleşileri yayımlandı. Türk edebiyatında postmodern tarzda eser veren ilk yazardır. 1970 TRT Sanat Ödülleri Yarışması Başarı Ödülü'nü kazandı. Yapıtları eleştiri, mizah ve ironi barındırır. Eserlerinden birkaçı: Tutunamayanlar, Tehlikeli Oyunlar, Bir Bilim Adamının Romansı, Korkuyu Beklerken...

Bu parçada sözü edilen yazar aşağıdakilerden hangisidir?

- A) Hasan Ali Toptaş
- B) Oğuz Atay
- C) Orhan Pamuk
- D) Bilge Karasu

7. Aşağıdakilerden hangisi deneme türündeki eserlerden değildir?

- A) Bize Göre
- B) Beş Şehir
- C) İstanbul Hatırası
- D) Karalama Defteri

8. • İşlenen bir cinayet ve bu cinayetin nasıl işlendiğini çözmeye çalışan bir dedektif veya polis etrafında şekillenir.
• Türk edebiyatında ilk telif polisiye roman, Ahmet Mithat Efendi'nin 1884'te yayımladığı "Esrâr-ı Cinâyât"tır.
• Dünya edebiyatında polisiye kur- guyla yazılan ilk eser Sir Arthur Conan Doyle'un Sherlock Holmes adlı eseridir.

Bu cümleler "polisiye roman" ile ilgili doğru-yanlış olarak değerlendirildiğinde sıralama aşağıdakilerden hangisi olur?

- A) D-D-Y
- B) Y-Y-D
- C) D-Y-D
- D) Y-D-Y

9. Roman türünün ilk başarılı örneği kabul edilen Don Kişot'un yazarı aşağıdakilerden hangisidir?

- A) Jonathan Swift
- B) Daniel Defoe
- C) Miquel de Cervantes
- D) Alexandre Dumas

10. Aşağıdakilerden hangisi 1950 sonrası eser veren tiyatro yazarlarından değildir?

- A) Turan Oflazoğlu
- B) Abdülhak Hamit Tarhan
- C) Güngör Dilmen
- D) Orhan Asena

11. Dramda;

- üç birlik kuralına uyma zorunluluğu vardır.
- konu günlük yaşamdan ve tarihten alınır.
- olaylar çirkin dahi olsa sahnede gösterilir.

Bu cümleler doğru-yanlış olarak değerlendirildiğinde sıralama aşağıdakilerden hangisi olur?

- A) Y-D-D
- B) D-Y-D
- C) D-Y-Y
- D) Y-D-Y

12. Aşağıdaki yazar-eser eşleştirmelerinden hangisi yanlıştır?

- A) Haldun Taner - Keşanlı Ali Destanı
- B) Güngör Dilmen - Ayak Bacak Fabrikası
- C) Ahmet Kutsi Tecer - Köşebaşı
- D) Turan Oflazoğlu - Genç Osman

13. I. Manzum olarak yazılır.
II. Kaba şakalara, söz oyunlarına, imalara yer verilir.
III. Üç birlik kuralı göz ardı edilir.
IV. Kahramanlar, soylu ve yüksek tabakadan kimselerdir.

Numaralanmış cümlelerden hangileri trajedi ile ilgili söylenebilir?

- A) I ve II
- B) I ve IV
- C) II ve III
- D) III ve IV

14. **SELVİ** — (Ayağa kalkarak) İsterseniz oyunu biraz keselim de size çay getireyim. Rahime izinli.

VEZAN — Sünbül de öyle. Pazar günü evde tutabilirsen tut.

SABRİ — Nasıl isterseniz...

VEZAN — (Ayağa kalkar.) Ben de yardıma geleyim. (Selvi ile Vezan çıkarlar.)

SABRİ — Bizden gizli konuşacakları vardır da...

Bu parça ile ilgili aşağıdakilerden hangisi söylenemez?

- A) Karşılıklı konuşmaya yer verilmiştir.
- B) Günlük konuşma dili kullanılmıştır.
- C) Sahnelenmek için yazılan bir metinden alınmıştır.
- D) Jest ve mimikler parantez içinde belirtilmiştir.

15. Bir köylü kadın, bir danayı doğar doğmaz kucağına alıp sevmiş, sonra da bunu âdet edinmiş; her gün danayı kucağına alır taşımış. Sonunda buna o kadar alışmış ki dana büyü- yüp koskoca öküz olduğu zaman, onu yine kucağında taşıyabilmiş. Bu hikâyeyi kim uydurduysa, alışkanlığın büyük bir güç olduğunu çok iyi anlamış olacak. Gerçekten alışkanlık pek yaman bir hocadır ve hiç şakası yoktur. Yavaş yavaş, sinsi sinsi içimize ilk adımını atar; başlangıçta kuzu gibi sevimli, alçakgönüllüdür ama zamanla, oraya yerleşip kökleşti mi öyle azılı, öyle amansız bir yüz takınır ki kendisine gözlerimizi bile kaldırmaya izin vermez...

Bu parça aşağıdaki metin türlerinin hangisine örnektir?

- A) Deneme
- B) Roman
- C) Nutuk
- D) Tiyatro

1. OTURUM

16. Herhangi bir konu üzerinde, yazarın kesin yargılara varmadan görüş ve düşüncelerini samimi bir üslupla serbestçe kaleme aldığı, birkaç sayfayı geçmeyen yazılara - - - - denir.

Bu cümlede boş bırakılan yere aşağıdakilerden hangisi getirilmelidir?

- A) röportaj B) söylev
C) makale D) deneme

17. Aşağıdakilerden hangisi Millî Edebiyat zevk ve anlayışını sürdüren sanatçılardan değildir?

- A) Yakup Kadri Karaosmanoğlu
B) Halide Edip Adıvar
C) Oğuz Atay
D) Reşat Nuri Güntekin

18. Aşağıdakilerden hangisi bir hatipte olması gereken özelliklerden değildir?

- A) Dinleyicilerin ilgilerini ve tepkilerini göz önünde tutar.
B) Ses tonunu, jest ve hareketlerini, vurgu ve tonlamayı ustaca kullanır.
C) Konuşmasını, belirli bir sosyal tabakanın anlayabileceği dille yapar.
D) Söz söylediği konuda zengin bir bilgi ve düşünce birikimine sahiptir.

19. Türk edebiyatındaki ilk hatip aşağıdakilerden hangisidir?

- A) Yollug Tigin B) Kül Tigin
C) Tonyukuk D) Bilge Kağan

20. Bir komutanın askerlerine cesaret ve moral vermek için yaptığı söylev türü aşağıdakilerden hangisidir?

- A) Askerî B) Dinî
C) Akademik D) Siyasi

(609) SEÇMELİ MATEMATİK - 2

$$1. \begin{cases} x^2 - y^2 = 12 \\ x^2 + 3y^2 = 28 \end{cases}$$

denklemin çözüm kümesinde bulunan elemanlardan biri aşağıdakilerden hangisidir?

- A) (-2, 3) B) (-4, 3)
C) (-2, 2) D) (-4, 2)

2. Farkları 8, kareleri toplamı 50 olan iki sayının çarpımı kaçtır?

- A) -7 B) -9 C) -12 D) -18

3. $2x^2 - 7x + 5 \leq 0$ eşitsizliğinin çözüm kümesi aşağıdakilerden hangisidir?

- A) $(-\infty, \frac{5}{2}]$ B) $[1, \frac{5}{2}]$
C) $[-1, \frac{5}{2}]$ D) $[1, \infty)$

4. $x^2 - 2x > -3x + 2$ eşitsizliğinin çözüm kümesi aşağıdakilerden hangisidir?

- A) $(-\infty, -1) \cup (2, \infty)$
B) (-2, 1)
C) (-1, 2)
D) $(-\infty, -2) \cup (1, \infty)$

5. $(x^2 - 6x - 7) \cdot (x^2 - 9) < 0$ eşitsizliğini sağlayan x tam sayılarının toplamı kaçtır?

- A) 7 B) 10 C) 13 D) 15

6. $\frac{x-2}{1-x} \geq 0$ eşitsizliğinin çözüm kümesi aşağıdakilerden hangisidir?

- A) (1, 2] B) [1, 2]
C) (1, 2) D) [1, 2)

$$7. \begin{cases} \frac{x+2}{2x-6} \leq 0 \\ \frac{4}{x-6} < 0 \end{cases}$$

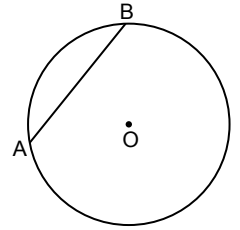
eşitsizlik sistemini sağlayan kaç farklı x tam sayısı vardır?

- A) 4 B) 5 C) 6 D) 7

8. $x^2 + 4x - m + 1 > 0$ eşitsizliği $\forall x \in \mathbb{R}$ için sağlandığına göre, m'nin alabileceği en büyük tam sayı değeri aşağıdakilerden hangisidir?

- A) -4 B) -3 C) -2 D) -1

9.

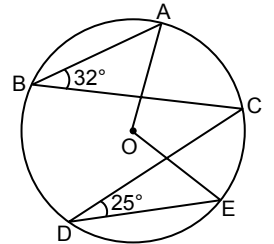


Şekildeki O merkezli çemberin yarıçapı 6 cm ve [AB] kirişinin merkeze olan en kısa uzaklığı 3 cm'dir.

Buna göre |AB| kaç santimetredir?

- A) 3 B) $3\sqrt{3}$
C) 6 D) $6\sqrt{3}$

10.



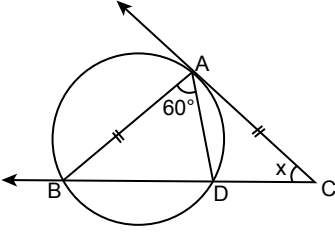
Şekildeki A, B, C, D, E noktaları O merkezli çember üzerinde ve $m(\widehat{ABC}) = 32^\circ$, $m(\widehat{CDE}) = 25^\circ$ dir.

Buna göre $m(\widehat{AOE})$ kaç derecedir?

- A) 57 B) 76 C) 95 D) 114

1. OTURUM

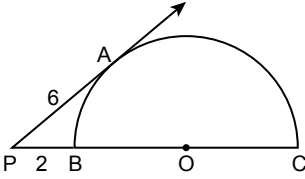
11.



Şekilde [CA, A noktasında çembere teğet, B ve D noktaları çember üzerinde ve $|AB| = |AC|$, $m(\widehat{BAD}) = 60^\circ$ dir. Buna göre x kaç derecedir?

- A) 40 B) 42 C) 44 D) 46

12.

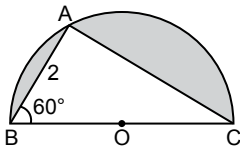


Şekildeki A, B, C noktaları O merkezli yarım çember üzerinde, [PA yarım çembere A noktasında teğet ve $|PA| = 6$ cm, $|PB| = 2$ cm'dir.

Buna göre bu yarım çemberin yarıçap uzunluğu kaç santimetredir?

- A) 6 B) 8 C) 10 D) 12

13.

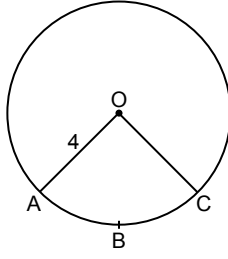


Şekildeki A, B, C noktaları O merkezli yarım çember üzerinde ve $m(\widehat{ABC}) = 60^\circ$, $|AB| = 2$ cm'dir.

Buna göre boyalı bölgenin alanı kaç santimetrekaredir? (π değerini 3 alınız.)

- A) $9 + 2\sqrt{3}$ B) $12 - 2\sqrt{3}$
C) $6 - 2\sqrt{3}$ D) $3 + 2\sqrt{3}$

14.

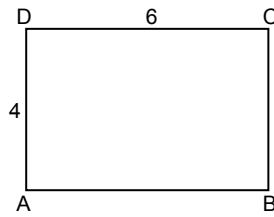


Şekildeki A, B, C noktaları O merkezli çember üzerinde, $|OA| = 4$ cm ve $|\widehat{AC}| = \frac{3\pi}{5}$ cm'dir.

Buna göre $m(\widehat{AOC})$ kaç derecedir?

- A) 45 B) 36 C) 27 D) 24

15.



Şekildeki ABCD dikdörtgeninde $|AD| = 4$ cm ve $|DC| = 6$ cm'dir.

Bu dikdörtgenin [BC] etrafında 180° döndürülmesiyle elde edilen cismin hacmi kaç π santimetreküptür?

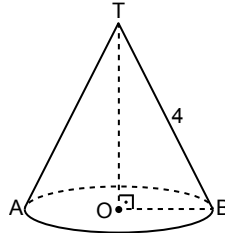
- A) 48 B) 72 C) 96 D) 144

16. Yarıçapının uzunluğu r olan kürenin hacmi $\frac{4}{3} \pi r^3$ formülü ile hesaplanır.

Hacmi 288π cm³ olan kürenin yarıçapı kaç santimetredir?

- A) 12 B) $6\sqrt{6}$
C) 6 D) $3\sqrt{6}$

17.



Şekildeki tepe noktası T, taban merkezi O olan dik dairesel koninin yan yüzeyinin alanı 12π cm², $|TB| = 4$ cm ve $[TO] \perp [OB]$ 'tir.

Buna göre $|TO|$ kaç santimetredir?

- A) $\sqrt{7}$ B) $\sqrt{10}$ C) 4 D) 5

18. Bir dik silindirin taban yarıçapının uzunluğu 4 cm, yüksekliği 3 cm olduğuna göre bu silindirin yüzey alanı kaç santimetrekaredir?

- A) 24π B) 32π C) 40π D) 56π

19. İki zar atıldığında üst yüze gelen sayıların asal olduğu bilindiğine göre bu sayılardan yalnızca birinin çift sayı olma olasılığı kaçtır?

- A) $\frac{1}{4}$ B) $\frac{4}{9}$ C) $\frac{2}{3}$ D) $\frac{5}{6}$

20. E örnek uzayında A ve B olayları için $P(A) = \frac{1}{3}$, $P(B) = \frac{2}{5}$ ve

$P(A \cap B) = \frac{1}{5}$ olduğuna göre $P(A \cup B)$ kaçtır?

- A) $\frac{7}{15}$ B) $\frac{8}{15}$ C) $\frac{11}{15}$ D) $\frac{13}{15}$

(611) DİNLER TARİHİ – 1

1. Kur'an'ın Allah'a izafe ettiği, bütün peygamberlerin getirdiği, esas ve ilkelere belli olup zaman ve mekâna göre özünde değişiklik olmayan dindir.

Tanımı verilen kavram aşağıdakilerden hangisidir?

- A) Beşerî din B) Mutlak din
C) Değişken din D) Subjektif din

2. "Göklerdeki ve yerdeki herkes ister istemez O'na boyun eğmişken ve O'na döndürülüp götürülecekken onlar Allah'ın dininden başkasını mı arıyorlar?"

(Â-i İmrân suresi, 83. ayet)

Bu ayette geçen "din" kelimesi hangi anlamda kullanılmıştır?

- A) Örf
B) Sorumluluk
C) Kulluk ve itaat
D) Kanun ve kurallar

3. "Din, Tanrı'ya ve manevi varlıklara imandır." tanımını aşağıdaki disiplinlerden hangisi yapmaktadır?

- A) Teoloji B) Ahlak
C) Felsefe D) Sosyoloji

1. OTURUM

4. Aşağıdakilerden hangisi dinin özünü oluşturan unsurlardan biri değildir?
- A) Yüce varlık
B) Akıl ve irade
C) Kutsal sembol
D) Mutlak itaat duygusu
5. Dinler tarihi, dinleri mukayese ederken onları; hak, batıl, doğruluk, yanlışlık ve üstünlük bakımından değerlendirmeye tabi tutmaz. Bu yönüyle bir dinin savunmasını yapan - - - - ilminden ayrılır.
- Bu metinde boş bırakılan yere aşağıdakilerden hangisi getirilmelidir?**
- A) tefsir B) kelim
C) fıkıh D) hadis
6. "Tahkîku Mâ li'l-Hind" adlı eser aşağıdaki âlimlerden hangisine aittir?
- A) Bîrûnî
B) Şehristanî
C) Şemsettin Sami
D) Abdülkahir el-Bağdâdî
7. İran'da ortaya çıkan ve mensuplarının büyük kısmının bu bölgede yaşadığı din aşağıdakilerden hangisidir?
- A) Sihizm B) Taoizm
C) Yahudilik D) Mecusilik
8. Mekke müşriklerle yapılan ilk büyük savaş aşağıdakilerden hangisidir?
- A) Hendek B) Uhud
C) Bedir D) Mute
9. Nizamiye medreselerinin kurulması ile birlikte birçok alanda öncü âlimlerin yetiştiği dönem aşağıdakilerden hangisidir?
- A) Endülüs B) Abbasiler
C) Dört Halife D) Selçuklular
10. Allah'a imandan sonra gelen ve Kur'an-ı Kerim'de "son gün" şeklinde zikredilen esas aşağıdakilerden hangisidir?
- A) Melek inancı
B) Ahiret inancı
C) Kader inancı
D) Kutsal kitap inancı
11. Aşağıdakilerden hangisi Yahudilik dininde ortaya çıkmış akımlardan biri değildir?
- A) Katolik B) Siyonist
C) Reformist D) Muhafazakâr
12. Yahudiler tarafından kurucu atalar olarak kabul edilen Hz. İbrahim, oğlu Hz. İshak ve torunu Hz. Yakub ile onların çocuklarını tanımlayan kavram aşağıdakilerden hangisidir?
- A) İsrail B) İbrani
C) Musevi D) Yahudi
13. Sürgün sırasında kaybolup unutulmuş Tevrat'ı yeniden kaleme alan ve kutsal toprak yerine kutsal soyu ön plana çıkaran kişi aşağıdakilerden hangisidir?
- A) Yeşu B) Davud
C) Ezra D) Süleyman
14. Yahudilikte inanç esaslarını bugünkü şekli ile tespit eden din bilginini aşağıdakilerden hangisidir?
- A) Muhammed bin Ubeydullah
B) Abdülmelik bin Mervan
C) Abdullah bin Mes'ud
D) Musa bin Meymun
15. Hz. Musa'nın Sina Dağı'nda gördüğü yanan çalıyı temsil eden en eski Yahudi sembolü aşağıdakilerden hangisidir?
- A) Dua şalı
B) Davut yıldızı
C) Yedi kollu şamdan
D) Takke biçiminde başlık
16. Çeşitli dini geleneklerde inanç esasları ve ritüeller gibi konulardaki sorunları görüşmek ve karara varmak üzere üst düzey din adamlarının katıldığı toplantıya - - - - denir.
- Bu tanımda boş bırakılan yere getirilmesi gereken kavram aşağıdakilerden hangisidir?**
- A) ikon B) konsil
C) vaftiz D) komünyon
17. "De ki: O, Allah'tır, bir tektir. Her şey O'na muhtaçtır; O, hiçbir şeye muhtaç değildir. O, doğurmamış ve doğmamıştır. Hiçbir şey O'na denk ve benzer değildir."
(İhlâs suresi)
- Bu sure ile Hristiyanlığın inanç esaslarından hangisi eleştirilmektedir?**
- A) Teslis B) Kurtuluş
C) Kutsal Kitap D) Peygamberlik
18. Hristiyanlıkta Kutsal Ruh için kullanılan sembol aşağıdakilerden hangisidir?
- A) Haç B) Kuzu
C) Balık D) Güvercin
19. Aşağıdakilerden hangisi Hristiyanlıkta kutsal kabul edilen mekânlardan biri değildir?
- A) Ürdün Nehri
B) Ağlama Duvarı
C) Meryem Ana Kilisesi
D) Kıyamet Kilisesi
20. • Havari Andreas tarafından kurulmuştur.
• Ritüel ve ayinler Grekçe yapılır.
• Ruhban sınıfının en üst kademesindeki kişiye Patrik denir.
- Hakkında bilgi verilen kilise aşağıdakilerden hangisidir?**
- A) Evanjelik B) Katolik
C) Protestan D) Ortodoks

1. OTURUM

(621) SEÇ. TÜRK DİLİ VE EDEBİYATI – 3

1. Aşağıdakilerden hangisi diğerlerinden farklı bir alanda hazırlanmıştır?

- A) Türkçede Yakın Anımlı Kelimeler Sözlüğü
B) Karşılaştırmalı Türk Lehçeleri Sözlüğü
C) Türkçede Yabancı Kelimeler Sözlüğü
D) Anayasa Sözlüğü

2. Senin bu ellerinde ne var bilmiyorum göğe bakalım Tuttukça güçleniyorum kalabalık oluyorum

Bu senin eski zaman gözlerin yalnız gibi ağaçlar gibi Sularım ısınsin diye bakıyorum ısınıyor

Bu dizelerde aşağıdakilerden hangisinin zıt (karşıt) anlamlısı yoktur?

- A) Soğumak B) Tanıdık
C) Bırakmak D) Zayıf düşmek

3.

Sözcük	Eskiden Taşındığı Anlam	Bugün Kazandığı Anlam
Bostan	Kavun, karpuz; sebze yetiştirilen yer	Sebze yetiştirilen yer
Darı	Arpa, mısır, yulaf vb. taneli bitkiler	Mısır
Davar	Her türlü varlık, hayvan ve mal	Koyun ve keçi; bunlardan oluşan sürü

Bu tabloda verilenler aşağıdakilerden hangisine örnektir?

- A) Anlam kayması
B) Anlam daralması
C) Anlam iyileşmesi
D) Anlam genişlemesi

4. Cemo'nun da tepeye tırmandığını görende, yüreğim kuş oldu, çırpındı. Barımın sesi büsbütün dillendi. Cemo tepeye çıkanda, durup uzun uzun baktı bana. Kara gözleri ıslaktı, yıldız yıldızdı. Ağır ağır geldi keçinin yanına oturdu. Gözleri gözlerimdeydi. Bakışları korkusuzdu, itaatlıydı, sevdalıydı. Kulun kölenim senin, der bir hâli vardı.

Bu parçada aşağıdaki bilgi dallarının hangisinden faydalanılmıştır?

- A) Psikoloji B) Tarih
C) Sosyoloji D) Felsefe

5. Aşağıdakilerden hangisi 1960 sonrası hikâye türünde eser veren yazarlardan değildir?

- A) Tomris Uyar
B) Rasim Özdenören
C) Talip Apaydın
D) Halide Edip Adıvar

6. 1980 sonrası Türk hikâyesi için aşağıdakilerden hangisi söylenbilir?

- A) Ağırlıklı olarak toplumsal konular tercih edilir.
B) Postmodernizmin anlatım imkânlarından yararlanır.
C) Geleneksel kurgu tekniklerine bağlı kalınır.
D) Sözcüklerin ilk anlamını kullanmaya özen gösterilir.

7. Küçürek (Minimal) hikâyede;

- kişi, zaman, mekân gibi unsurlar sınırlı bir şekilde yer alır.
- her okuyan aynı anlamı çıkarır.
- kısa ve yoğun bir anlatım vardır.

Bu cümleler doğru-yanlış olarak değerlendirildiğinde sıralama aşağıdakilerden hangisi olur?

- A) D-D-Y B) Y-Y-D
C) D-Y-D D) Y-D-Y

8. 1932 yılının 19 şubat akşamı Atatürk, I o meşhur Oyunu görmek üzere III Tepebaşı Tiyatrosuna geliyor... IV

Bu cümledeki altı çizili sözlerden hangilerinin yazımı yanlıştır?

- A) I ve II B) I ve IV
C) II ve III D) III ve IV

9. Çöp üretimi gelişmişlik göstergesi () Ne duruyorsunuz () Kullanın hemen atın () temizlemek için uğraşmayın boşuna ()

Bu parçada yay ayraçla gösterilen yerlere sırasıyla aşağıdaki noktalama işaretlerinden hangileri getirilmelidir?

- A) (...) (?) (,) (!)
B) (.) (?) (,) (?)
C) (...) (?) (,) (!)
D) (!) (!) (;) (.)

10. İbn-i Sina, en önemli eserlerini tıp ve felsefe alanında verir. Tıp bilimine yaptığı katkılar nedeniyle bütün dünyada "Modern Tıbbın Babası" olarak bilinir.

"Baba" sözcüğü bu parçadaki altı çizili ifadede hangi anlamda kullanılmıştır?

- A) Çocuğu olan erkek, peder.
B) Bir ülkeye veya bir topluluğa yararlı olmuş kimse.
C) Anlayışlı, iyi huylu erkek.
D) Koruyucu, babalık duygularıyla dolu olan kimse.

11. Aşağıdakilerden hangisi Şeref Taşlıova'ya ait değildir?

- A) Ben Bir Şeyda Bülbül
B) Güzel Görünür
C) Gönül Bahçesi
D) Sazımdan Sesler

12. Diyarbakır'da doğdu. Ortaöğrenimini Saint Joseph ve Galatasaray Liselerinde tamamladı. Mülkiye Mektebinde ve Paris Siyasal Bilgiler Fakültesinde okudu. Çeşitli dergilerde çıkan ilk şiirleri, temiz dili ve yeni buluşlarıyla dönemin edebiyat çevrelerinde ilgi uyandırdı. Söyleyiş, bakımından kusursuz bir şiir dili oluşturmayı amaçladı. Eserleri: Ömrümde Sükût, Otuz Beş Yaş, Düşten Güzel, Sonrası, Ziya'ya Mektuplar, Gün Eksilmesin Pencereyden.

Bu parçada sözü edilen sanatçı aşağıdakilerden hangisidir?

- A) Cahit Sıtkı Tarancı
B) Ahmet Hamdi Tanpınar
C) Necip Fazıl Kısakürek
D) Ahmet Muhip Dıranas

1. OTURUM

13. Aşağıdakilerden hangisi Cumhuriyet sonrası (1923-1960) toplumcu eğilimleri yansıtan şairler için söylenemez?

- A) Biçimden çok içeriğe önem verirler.
- B) Gelecekçilik (fütürizm) akımından etkilenirler.
- C) Şiirlerini ağırlıklı olarak serbest nazımla yazarlar.
- D) Şiirlerinde ideolojiden uzak dururlar.

14. Hepiniz geçim derdinde.
Bir ben miyim keyif ehli, içinizde?
Bakmayın, gün olur, ben de
Bir şiir söylerim belki sizlere dair;
Elime üç beş kuruş geçer;
Karnım doyar benim de.

Bu dizeler şekil ve içerik özellikleri dikkate alındığında aşağıdaki anlayışlarından hangisine ait olabilir?

- A) Saf (öz) şiir
- B) Garip
- C) II. Yeni
- D) Millî Edebiyat'ı yansıtan şiir

15. Aşağıdakilerden hangisi II. Yeni anlayışını benimseyen şairlerden değildir?

- A) Cemal Süreya
- B) İlhan Berk
- C) Nazım Hikmet Ran
- D) Edip Cansever

16. 1980 sonrası Türk şiirinin önemli isimlerinden. 1979'dan itibaren çeşitli dergilerde şiirleri yayımlanır. Şiirlerinde geleneksel ve modern şiirin birikiminden yararlanır. Şiirleri biçim olarak II. Yeni'ye yakındır. Her şiirini bir imge etrafında şekillendirir. Şiirlerinde alışılmamış benzetmeler ve çağrışım zenginliği görülür. Ölüm, yalnızlık, hüznün, dostluk, kardeşlik, sevgi ve aşk gibi temaları işler. Eserlerinden bazıları: Karşılığını Bulamamış Sorular, Nar: Toplu Şiirler I, Hafız ile Semender: Toplu Şiirler II...

Bu parçada sözü edilen sanatçı aşağıdakilerden hangisidir?

- A) Haydar Ergülen
- B) Lale Müldür
- C) Gülten Akın
- D) Ataç Behramoğlu

17. Aldanma cahilin kuru lafına
Kültürsüz insanın külü yalandır
Hükmetse dünyanın her tarafına
Arzusu hedefi yolu yalandır

Bu dizeler ile ilgili aşağıdakilerden hangisi söylenemez?

- A) Kafiye ve redife yer verilmiştir.
- B) Bir konuda nasihat etmek amaçlanmıştır.
- C) Günlük konuşma dili kullanılmıştır.
- D) 8'li hece ölçüsüyle söylenmiştir.

18. Gelen kayak Ümit idi. Dümende
Habip Kaptan'ı gördüler. Yirmi metre
önlerinden fırladı gitti. Kayığın içinde-
kiler başlarını döndürdüler. Denizde
kara kaderlerine bıraktıkları insanlara
baktılar. Dudaklarından bir çığlık kop-
tu. Denizdekileri kurtarmaya kalkış-
mak -onları kurtarmadan- kendilerin-
in boğulmaları demektir.

Bu parçada hikâyenin yapı unsurlarından hangisi yoktur?

- A) Olay
- B) Kişi
- C) Zaman
- D) Mekân

19. Kahramanmaraş'ta doğmuştur. Saz çalmamakla birlikte şiirlerini halk şiiri geleneğine uygun yazmıştır. Taşlamalarıyla tanınan şair, "Mihriban" adlı şiiriyle geniş kesimler tarafından sevilmiştir. Eserlerinden bazıları: Hasan'a Mektuplar, Haber Bülteni, Kan Yazısı, Beşinci Mevsim...

Bu parçada sözü edilen sanatçı aşağıdakilerden hangisidir?

- A) Âşık Mahsuni Şerif
- B) Abdurrahim Karakoç
- C) Murat Çobanoğlu
- D) Âşık Feymani

20. Durdu. Gözleri, etrafımızı saran manzaranın ve biraz evvel anlattığı hikâyenin içinde kaybolmuş gibi büyük ve dalgındı. Şakaklarında, tozlarla karışıp sonra kalın çizgiler hâlinde kuruyan terlerin izleri vardı. Derin derin nefes alıyordu. Bu anda onu, etrafını saran tabiattan ayırmaya imkân yoktu. Akşamın loşluğu içinde topraktan, çiçeklerin arasından fırlayıp büyüymüş bir mahlûk gibiydi.

Bu parça ile ilgili aşağıdakilerden hangisi söylenemez?

- A) Birinci tekil anlatıcı kullanılmıştır.
- B) Benzetmelere yer verilmiştir.
- C) Betimlemeden faydalanılmıştır.
- D) Edebî bir metinden alınmıştır.

(622) SEÇ. TÜRK DİLİ VE EDEBİYATI – 4

1. (I) Dizüstü veya tablet bilgisayarınızı, cep telefonunuzu şarj etmeniz gerektiğini düşünün. (II) Araştırmacılar geliştirilmekte olan bu pillerin şu anda kullanılanlardan daha verimli olacağını belirtiyor. (III) Bilim insanlarının üzerinde çalıştığı güneş pilleri, bunu sağlayabilecek gibi görünüyor. (IV) Bu güneş pilleri sayesinde binaların içinde ve bulutlu havalarda da çeşitli aygıtları şarj etmeye yetecek kadar elektrik enerjisi elde edilebilecek.

Bu parçadaki numaralanmış cümlelerden hangilerinin yeri değiştirilirse anlam bütünlüğü sağlanmış olur?

- A) I ve III
- B) I ve IV
- C) II ve III
- D) II ve IV

2. Antalya evleri, kayısı dalları ardında büyüyen harikulâde bir bitkidir. Kuşların öttüğü ilk saatlerde, nemli bir gecenin yumuşattığı tahtalar, çıplak ayakları ıslak bir Acem halısı gibi hızla okşarlar. Üstüne beyaz ve siyah çakıllarla şal örnekleri işlenmiş avlularda beyhude yem arayan alaca güvercinler vardır. İki erik ağacına gerilen sallıncakta sabah, sallanır durur. Duvarların gölgesi henüz bütün bahçeyi kapladığı anlarda, evler küçük bir çam gibi lâkayt, serinliği tadarlar.

Bu parçada ağır basan anlatım biçimi aşağıdakilerden hangisidir?

- A) Açıklama
- B) Betimleme
- C) Tartışma
- D) Öyküleme

3. Yaratışı alışveriş hâline getiren yazarlarla işim yok. İçten pazarlıklı edebiyat eserlerini daima kitaplığımdan uzak tuttum. Hele insana şu, dünyayı zehreden romanlara her zaman şüphe ile bakmışımdır. Hayatın acıları yetmiyor muş gibi onu, karartılmış yönleriyle bir de nefes darlığı veren romanlarda yaşamak çekilir şey midir? "Ama bunlar hayatta var!" İyî ya, hayatta varsa ne diye romana girsin? Yazar dediğin eseri öz duygularıyla inşa eder.

Böyle söyleyen bir yazarın aşağıdaki düşüncelerden hangisini savunması beklenemez?

- A) Edebiyat hayatı güzelleştirmeli ve insanı hayata bağlamalıdır.
- B) Yazarlar, menfaat uğruna eser ortaya koymaktan kaçınmalıdır.
- C) Edebî eserler samimi bir şekilde, içten geldiği gibi yazılmalıdır.
- D) Hâlihazırda bazı sosyal gerçekleri açıkça anlatmak edebiyatın görevidir.

1. OTURUM

4. Enstrüman çalmayı yeni öğrenenlere bir bakın. Gözleri, önlerindeki kâğıtlarda duran notalara kilitlenmiş, elleri enstrümanın üzerinde, parmakları gergin... Müziğin matematiğini yapıyorlar. Bir de ustalara bakın. Notalar kâğıdın üzerindeki karalamalardan ibaret değil, notalar uçuyor... Müziğin kendisini duyuyorsunuz.

Bu parçada ağır basan düşüncüyü geliştirme yolu aşağıdakilerden hangisidir?

- A) Örnekleme B) Benzetme
C) Karşılaştırma D) Tanık gösterme

5. Gümölcine'de doğar. 1927'de İstanbul Muallim Mektebini bitirir. Bir yıl Yozgat'ta öğretmenlik yaptıktan sonra, 1928'de Almanya'ya gönderilir. Yurda döndükten sonra çeşitli dergilerde çevirileri, yazı ve hikâyeleri basılır. 1946'da Aziz Nesin ve Rifat Ilgaz'la Markopaşa gazetesini çıkarır. Kişi, olay, sonuç bağlantılarını ustaca ortaya koyan, etkili betimleme gücüyle geleneksel anlatım biçimlerine zenginlik katan bir yazardır. Toplumcu gerçekçi akımın önemli temsilcilerinden kabul edilir. "Kuyucaklı Yusuf" romanı, bu anlayışla yazılmış en başarılı örneklerdendir.

Bu parçada sözü edilen sanatçı aşağıdakilerden hangisidir?

- A) Sabahattin Ali
B) Oğuz Atay
C) Fakir Baykurt
D) Tarık Buğra

6. Oğuz Atay - - - - yalnızlık, yabancılık ve acı çeken, toplumdan kaçan, herhangi bir çevreye uyum sağlayamamış entelektüel insanın romanını yazmıştır. Roman, eleştirel dili ve ironik anlatımıyla Türk romanında 1990'lı yıllarda öne çıkacak postmodern anlatıyı haber verir.

Bu parçada boş bırakılan yere aşağıdakilerden hangisi getirilmelidir?

- A) Bin Hüzünlü Haz'da
B) Tutunamayanlar'da
C) Kara Kitap'ta
D) Gece'de

7. Toplumun kültürel değerlerini kurmacanın dünyasına taşıyan roman anlayışıdır. Sanatçılar, millî ve İslami duyarlıktan beslenir; tarihten, yaşama tarzından, inançlardan gelen unsurları eserlerinde işlerler. Bu anlayışla yazılan romanlarda genellikle klasik olay kurgusu, kronolojik zaman ve ilahi (hâkim/tanrısal) bakış açışı görülür.

Bu parçada sözü edilen roman anlayışı aşağıdakilerden hangisidir?

- A) Bireyin iç dünyasını esas alan
B) Toplumcu gerçekçi
C) Postmodernizmi esas alan
D) Gelenekçi

8. **Aşağıdakilerden hangisi 1980 sonrasında Türk romanında ağırlıklı olarak ele alınan konulardan değildir?**

- A) İç göç
B) Kuşaklar arası çatışma
C) Esaret
D) İdeolojik kimlik bunalımı

9. **Aşağıdakilerden hangisi Cengiz Aytmatov'a ait değildir?**

- A) Al Yazmalım Selvi Boylum
B) Gün Olur Asra Bedel
C) Yurdunu Kaybeden Adam
D) Cengiz Han'a Küsen Bulut

10. 1960'larda;

- oyun yazarlığı nicelik ve nitelik açısından bir durgunluk yaşar.
- Türk tiyatrosunun en parlak ve hareketli dönemlerinden biri yaşanır.
- akademik düzeyde tiyatro eğitimi yapılır, tiyatro sanatı konusunda bilimsel araştırmalar çoğalır ve tiyatro eleştirileri gelişir.

Bu cümleler doğru-yanlış olarak değerlendirildiğinde sıralama aşağıdakilerden hangisi olur?

- A) D-Y-D B) Y-D-D
C) Y-D-Y D) D-Y-Y

11. Kudüs'te doğdu. İstanbul Üniversitesi Edebiyat Fakültesi Felsefe Bölümünü bitirdi. Edebiyat öğretmenliği, milletvekiliği, kültür ataşeliği ve öğretim üyeliği yaptı. Batı tekniği ile folklor ve halk malzemesini işlemek suretiyle millî tiyatroya ulaşmak istedi. Eserlerinde toplumsal değişimi, değerlerine yabancılaşmayı ele aldı. Geleneksel tiyatromuzdan esinlenerek yazdığı "Köşebaşı" ile tanındı.

Bu parçada sözü edilen yazar aşağıdakilerden hangisidir?

- A) Haldun Taner
B) Güngör Dilmen
C) Turan Ofazoğlu
D) Ahmet Kutsi Tecer

12. • Aksesuarlar ve dekor önemli yer tutar.
• Cümleler kısa, açık ve anlaşılırdır.
• Zaman ve mekân geçişleri müzik ve efekt kullanılarak yapılır.

Bu cümleler "radyo tiyatrosu" ile ilgili doğru-yanlış olarak değerlendirildiğinde sıralama aşağıdakilerden hangisi olur?

- A) Y-D-D B) D-Y-Y
C) Y-D-Y D) D-Y-D

13. **Aşağıdakilerden hangisi Orhan Asena'ya ait değildir?**

- A) Hürrem Sultan
B) Bir Pazar Günü
C) Tanrılar ve İnsanlar
D) Fadik Kız

14. **ANU** — (Yüzü bulutlanmış) Doğru, şimdiye dek hep biz yenildik İştâr. Çünkü silahımızı seçemedik.

İŞTAR — (İşkilli) Ne demek istiyorsun?

ANU — (Kurnaz) Silah kavgaya göre seçilmeli. Bazen bir topuzun eğemediği bir başı, bir gülüş eğebilir.

İŞTAR — (Araştırmacı) Yani?

ANU — (Göğüs geçirir.) Yani biz kendimizi denedik İştâr, sıra sende.

Bu parça aşağıdaki metin türlerinin hangisine aittir?

- A) Roman B) Deneme
C) Tiyatro D) Söylev

1. OTURUM

15. Yazar, söz aldığı anda hem insanlığın adına konuşur hem insanlığa karşı. Bu, sorunların tek bir yanıtı olması gerektiğine inanıyorsak eğer hiç kuşkusuz açık bir tutarsızlık yansıtıyor. Gelgelelim toplumun, dolayısıyla da ancak toplum içinde var olabilen ve o toplum tarafından biçimlendirilen bireyin sorunları, tarihin bize durmadan anımsattığı gibi tek yanıtla indirgenemiyor. Yunan tragediyelerindeki kahramanların yazgısı tanrısal, dolayısıyla kaçınılmazdı. Çağımızın anti-kahraman bireylerinin yazgısı ise alabildiğine dünyasal. Bu yüzden de hep bir ikilem yansıtıyor ve dram, şıklar arasındaki seçim zorluğu üzerinde temelleniyor.

Bu parça aşağıdaki metin türlerinin hangisine örnektir?

- A) Nutuk B) Roman
C) Tiyatro D) Deneme

16. Deneme ile ilgili aşağıdakilerden hangisi söylenemez?

- A) Ele alınan konu derinlemesine işlenir.
B) Daha çok evrensel konular ele alınmakla birlikte konu sınırlaması yoktur.
C) Yazar, duygu ve düşüncelerini kanıtlama yoluna gitmez.
D) Amaç okura, ele alınan konu hakkında bir bakış açısı kazandırmaktır.

17. Dünya edebiyatında deneme türünün ilk örneklerini veren yazar aşağıdakilerden hangisidir?

- A) M. De Montaigne
B) A. Camus
C) J. P. Sartre
D) T. S. Eliot

18. I. Dilin, dil ötesi işlevi kullanılır.
II. Herhangi bir dinleyici topluluğuna bir düşünceyi aşlamak amaçlanır.
III. Coşkulu ve edebî bir dille yapılır.
IV. Uzun ve anlaşılması güç cümleler kurulur.

Numaralanmış cümlelerden hangileri söylev ile ilgili söylenemez?

- A) I ve II B) I ve IV
C) II ve III D) III ve IV

19. Türk edebiyatındaki ilk söylev aşağıdakilerden hangisidir?

- A) Sekiz Yükmeç
B) İrk Bitig
C) Yenisey Yazıtları
D) Orhun Abideleri

20. Bir politikacının ulusal mecliste, kapalı mekânlarda veya açık alanlarda yaptığı söylev türü aşağıdakilerden hangisidir?

- A) Dinî B) Akademik
C) Siyasi D) Hukuki

(713) İSLAM KÜLTÜR VE MEDENİYETİ – 1

1. "Medinetü'l Fâdila" adlı eser aşağıdakilerden hangisine aittir?

- A) İbn-i Rüşd
B) Farabî
C) Ziya Gökalp
D) Sezai Karakoç

2. İslam medeniyetinin özünü aşağıdakilerden hangisi oluşturmaktadır?

- A) Tevhit B) Ahlak
C) Değerler D) Örf ve âdetler

3. Aşağıdakilerden hangisi aklîselim sahibi insanın tutum ve davranışlarından biri değildir?

- A) İletişime açık olması
B) Öz güven sahibi olması
C) Çelişkili söz ve iddialara önem vermesi
D) Davranışlarında tutarlılık göstermesi

4. "Havâss-ı Hamse" aşağıdakilerden hangisi için kullanılan bir kavramdır?

- A) Kur'an ve Sünnet
B) Örf ve âdetler
C) Aklîselim
D) Beş duyu

5. • İslam hukuk kurallarını içeren kânun kitabıdır.
• Ahmet Cevdet Paşa başkanlığındaki bir komisyon tarafından derlenmiştir.

Hakkında bilgi verilen eser aşağıdakilerden hangisidir?

- A) er-Risale
B) Mecelle
C) Fetâvâ-i Hindiyye
D) Tarih-i Cevdet

6. Orta Asya'da kurulan ilk Türk İslam Devleti aşağıdakilerden hangisidir?

- A) Karahanlılar B) Göktürk
C) Uygur D) Hazar

7. Aşağıdakilerden hangisi İslam kültür ve medeniyetinin zirveye ulaşmasında etkili olan unsurlar arasında yer almaz?

- A) Evrensel bakış açısına sahip olması
B) İlme ve ilim adamlarına değer vermesi
C) Bilimsel eserlerin Arap diline tercüme edilmesi
D) Farklı kültürlerle karşı yargılayıcı tavrının olması

8. Kur'an-ı Kerim'in aslının bozulmuş olması İslam kültür ve medeniyetinin aşağıdaki esaslarından hangisine örnek oluşturmaktadır?

- A) Yerellik B) Özgünlük
C) Hürriyet D) Evrensellik

9. "İş ehline verilmezse kıyamet yaklaşmış demektir."

Bu hadiste aşağıdakilerden hangisinin önemi vurgulanmaktadır?

- A) Liyakati esas almanın
B) Mütevazı olmanın
C) Çalışkan olmanın
D) İstişare etmenin

10. "Allah'ın rahmeti sayesinde sen onlara karşı yumuşak davrandın. Eğer kaba, katı yürekli olsaydın, onlar senin etrafından dağılıp giderlerdi. Artık sen onları affet. Onlar için Allah'tan bağışlama dile. İş konusunda onlarla müşavere et. Bir kere de karar verip azmettin mi, artık Allah'a dayan. Şüphesiz Allah, kendisine dayanıp güvenenleri sever."

(Âl-i İmrân suresi, 159. ayet)

Bu ayette aşağıdakilerden hangisine değilmiştir?

- A) İstişare yapmak
B) Tevekkül etmek
C) Merhametli olmak
D) Adaletli olmak

1. OTURUM

11. İslam'ın insana kazandırdığı özellikler insanın erdemli bir toplum oluşturmasını sağlamıştır. Bu nitelikteki toplum İslam kültür ve medeniyetini geliştirmiştir. Çok geniş bir coğrafyaya yayılan İslam kültür ve medeniyeti değişik etnik köken ve inançtan insanı bünyesinde barındırır. Müslümanlar bunu beşerî bir zenginlik olarak görür. Farklı sosyolojik gruptan, farklı etnik kökenden ve inançtan oluşan İslam toplumunda herkese adil ve hakça davranılmıştır.

Bu metinden İslam toplumu ile ilgili aşağıdakilerden hangisine ulaşılamaz?

- A) İnsana değer verildiğine
B) Hakkın ve adaletin gözetildiğine
C) Bireyci anlayışın egemen olduğuna
D) Farklılıkların zenginlik kabul edildiğine

12. • Kutsal kitapları getiren meleğin "Ruhu'l-Emin" sıfatına sahip olması
• Peygamberlerin ortak sıfatlarından birinin "Emin" olması
• Mekke'nin "Beledü'l-Emin" kılınması

Bu bilgiler aşağıdaki ilkelere hangisi ile ilişkilendirilebilir?

- A) Güven
B) Kardeşlik
C) Yardımlaşma ve dayanışma
D) İyiliği emretme kötülükten sakınma

13. İnsanın mensup olduğu dine, etnik kökenine, toplumsal konumuna ve cinsiyetine bakılmaksızın can, mal, namus, inanç ve aklının korunması ilkesine denir.

Tanımı yapılan kavram aşağıdakilerden hangisidir?

- A) İsar B) Âdemiyyet
C) Merhamet D) Liyakat

14. "Kişinin başkasının menfaatlerini kendi menfaatlerine tercih etmesi" aşağıdakilerden hangisi ile ifade edilmektedir?

- A) Külliyyet B) Nübüvvet
C) Fütüvvet D) Meşveret

15. "İlim öğrenmek her Müslümana farzdır."

Bu hadiste aşağıdakilerden hangisi vurgulanmaktadır?

- A) Allah'ın ilim sahibi olduğu
B) İlime ve âlime saygı gösterilmesi gerektiği
C) Dinî ilimleri öğrenmeye öncelik verilmesi gerektiği
D) İslam'ın, inananlarını bilgi sahibi olmakla sorumlu tuttuğu

16. Kur'an-ı Kerim'in ilk nüshasından yapılan çoğaltma işlemi Hz. Osman zamanında gerçekleştirildi. - - - başkanlığındaki bir komisyon tarafından yedi adet çoğaltılıp ülkenin farklı merkezlerine gönderildi. Böylelikle metin farklılıklarının ortaya çıkma ihtimali önlenmiş olup Kur'an-ı Kerim hiç değişime uğramadan günümüze kadar ulaştı.

Bu metinde boş bırakılan yere aşağıdakilerden hangisi getirilmelidir?

- A) Zeyd bin Sabit
B) Muaz bin Cebel
C) Zübeyir bin Avvam
D) Sa'd bin Ebi Vakkas

17. I. Sahih-i Buhari
II. el-Muvatta
III. Sünen-i Tirmizi
IV. el-Müsned

Numaralanmış eserlerden hangileri Kütübü's-Sitte içerisinde yer almaktadır?

- A) I ve II B) I ve III
C) II ve IV D) III ve IV

18. Aşağıdakilerden hangisi iyiliği emretme, kötülükten sakındırma sorumluluğunu toplumda yerleştirmek amacı ile kurulmuştur?

- A) Hisbe Teşkilatı
B) Beytü'l-Mal
C) Hazine-i Âmire
D) Divanü'l-Harac

19. Hz. Peygamber döneminde okuma, yazma ve Kur'an öğretilen okullara ne ad verilmektedir?

- A) Vakıf B) Külliye
C) Küttab D) Rasathane

20. "el-Melik" sıfatı Allah'ın hangi özelliğini ifade etmektedir?

- A) Her şeyi bildiğini
B) Bağışlayıcı olduğunu
C) Hak ile batılı birbirinden ayırdığını
D) Denetleme ve yönetme hakkına sahip olduğunu

(817) AKAİD – 1

1. Akaidin konusunu oluşturan imanın altı esası, geleneğimizde ilahiyât, nübüvât ve sem'iyât olmak üzere üç ana başlık altında toplanmıştır.

Buna göre aşağıdaki esaslardan hangisi sem'iyât başlığı altında ele alınmıştır?

- A) Allah'a iman
B) Peygamberlere iman
C) Kitaplara iman
D) Ahirete iman

2. "Ergenlik çağına kadar çocuktan, iyileşinceye kadar akıl hastasından ve uyanıncaya kadar uyuyandan sorumluluk kaldırılmıştır."

Bu hadis dinin aşağıdaki yönlerinden hangisi ile ilgilidir?

- A) Kaynağının Allah olması
B) Akıl sahibi kişileri muhatap alması
C) İnsanın inanma ihtiyacını karşılaması
D) İnsanı dünya ve ahiret mutluluğuna ulaştırmayı hedeflemesi

3. İslam akaidi Allah'ın sıfatları konusunda orta yolu izlemiştir. Ne tenzihte aşırı giderek ilahi sıfatları inkâr etmiş ne de Allah'ı yaratılanlara benzetme ve Allah'ı cisim kabul etme gibi bir yanılaşa düşmüştür.

Bu metinde altı çizili bölüm ile aşağıdaki kavram çiftlerinden hangisine işaret edilmektedir?

- A) Teşbih ve tecsim
B) Tahrif ve tebdil
C) İkraha ve inkâr
D) İfrat ve tefrit

4. Aşağıdakilerden hangisi Ömer Nasuhi Bilmen'e ait bir eserdir?

- A) Fıkhü'l-Ekber
B) Kitabü't-Tevhid
C) İslam Akaidi
D) Kelam Tarihi

1. OTURUM

5. "İnsanlardan inanmadıkları hâlde 'Allah'a ve ahiret gününe inandık' diyenler vardır. Bunlar Allah'ı ve inanlanları aldatmaya çalışırlar. Oysa sadece kendilerini aldatırlar da farkında değillerdir. Onların kalplerinde bir hastalık vardır. Allah da onların hastalığını çoğaltmıştır. Söylemekte oldukları yalanlar sebebiyle de onlar için elim bir azap vardır."

(Bakara suresi, 8-10. ayetler)

Bu ayetlerde iman ile ilgili aşağıdakilerden hangisinin önemi vurgulanmaktadır?

- A) Dil ile ikrarı
B) Kalp ile tasdikini
C) İcmalî imanını
D) Tafsilî imanını
6. "Bedeviler 'İnandık' dediler. De ki: 'Siz iman etmediniz ama 'boyun eğdik' deyin. Henüz iman kalplerinize yerleşmedi'..."

(Hucurât suresi, 14. ayet)

Bu ayette aşağıdakilerden hangisi vurgulanmaktadır?

- A) İman ile İslam farklı kavramlardır.
B) İman etmenin karşılığı cennettir.
C) İslam esaslarını belirleyen Allah'tır.
D) Ümitsizlik hâlinde yapılan iman geçersizdir.
7. **Aşağıdaki ifadelerden hangisi yanlıştır?**
- A) İmanda şüpheye yer yoktur.
B) Amel, imanın ayrılmaz bir parçasıdır.
C) İman, güçlü veya zayıf olma açısından artma ve eksilme gösterir.
D) İman, inanılması gereken hususlar açısından artmaz ve eksilmez.

8. **Aşağıdaki davranışlardan hangisi münafıklık alametlerinden değildir?**

- A) Yalan söylemek
B) Sözünde durmamak
C) Cimrilik yapmak
D) Emanete ihanet etmek
9. Dinen mükellef ve akli yerinde olan kişi, herhangi bir zorlama ve tehdit altında olmadan, kasten söylediği sözün küfre götürdüğünü bilerek bir söz söylese imandan çıkar.

Buna göre iman ile ilgili aşağıdakilerden hangisine ulaşamaz?

- A) Akli olgunluğa sahip bir insanın davranışıdır.
B) Özgür iradenin bir sonucudur.
C) Bilinçli bir tercihtir.
D) Dil ile ikradır.

10. **Aşağıdaki açıklamalardan hangisi "Ehli-kible tekfir edilemez." ilkesi ile ilgilidir?**

- A) Harama götüren yol haramdır.
B) Zaruretler haramları mubah kılar.
C) Müslümanı küfür ile itham etmek doğru değildir.
D) Kişi, suçu ispat edilene kadar suçsuz kabul edilir.

11. "De ki: O, Allah'tır, bir tektir. Her şey O'na muhtaçtır; O, hiçbir şeye muhtaç değildir. O, doğurmamış ve doğmamıştır. Hiçbir şey O'na denk ve benzer değildir."

(İhlâs suresi)

Bu surede aşağıdakilerden hangisi vurgulanmaktadır?

- A) Allah'ın sıfatları
B) İbadet esasları
C) Ahlaki prensipler
D) Toplumsal ilişkiler
12. **Âlemin varlığının zorunlu değil mümkün olduğu fikrinden yola çıkılarak ortaya konan delile ne ad verilir?**

- A) Hudûs
B) İmkân
C) Ekmel varlık
D) Gaye ve nizam

13. **Aşağıdaki ayetlerden hangisi hudûs delili ile ilgilidir?**

- A) "De ki: Onları (çürümüş kemikleri) ilk defa var eden diriltecektir. O, her yaratılışı hakkıyla bilendir."
(Yâsin suresi, 79. ayet)
- B) "O, gökte de ilâh olandır; yerde de ilah olandır. O, hüküm ve hikmet sahibidir; hakkıyla bilendir."
(Zuhruf suresi, 84. ayet)

- C) "Yeryüzünde bulunan her canlı yok olacaktır. Ancak azamet ve ikram sahibi Rabb'inin zâtı bâkî kalacaktır."
(Rahmân suresi, 26-27. ayetler)

- D) "Ey insanlar! Allah'a muhtaç olan sizsiniz. Zengin ve övülmeye lâyık olan ancak O'dur."
(Fâtır suresi, 15. ayet)

14. "...Allah'ın zâtından başka her şey yok olacaktır..."
(Kasas suresi, 88. ayet)

Bu ayet Allah'ın aşağıdaki sıfatlarından hangisi ile ilgilidir?

- A) Kıyam bi-nefsihî
B) Vahdaniyet
C) Kıdem
D) Bekâ

15. **Allah'ın peygamberlerine vahiy gönderip, kitaplar indirmesi aşağıdaki sıfatlarından hangisi ile ilgilidir?**

- A) Semi
B) Kıdem
C) Kelam
D) Basar

16. **Aşağıdakilerden hangisi Allah'a inanan bir kişiden beklenen tutum ve davranışlardan biri değildir?**

- A) Güzel işlere yönelmek
B) Yalnız olduğu hissine kapılmak
C) Allah ile arasına aracı koymaktan kaçınmak
D) Yaptıklarından sorumlu olduğunu düşünmek

17. **Kur'an-ı Kerim'de "Cibrîl, Rûhu'l-Kudûs" ve "er-Rûhu'l-Emîn" gibi isimlerle kendisinden bahsedilen melek hangisidir?**

- A) Azrail
B) Mikail
C) İsrail
D) Cebrail

18. **Melekler ile ilgili aşağıdakilerden hangisi söylenemez?**

- A) Allah'a isyan etmezler.
B) İradeli ve akıllı varlıklardır.
C) İnsandan önce yaratılmışlardır.
D) İnsanda sorumluluk bilincinin yerleşmesine yardımcı olurlar.

19. I. Allah tarafından yaratılmışlardır.
II. Dişi varlıklardır.
III. Tapılmaya layıklardır.
IV. Duyu organları ile algılanamazlar.
Cahiliye müşrikleri melekler ile ilgili yukarıdaki tanımlamalardan hangileri sebebi ile Kur'an-ı Kerim'de eleştirilmektedir?

- A) I ve II
B) I ve IV
C) II ve III
D) III ve IV

20. "Sizi çift çift yarattık, uykunuzu dinlenme vakti kıldık, geceyi bir örtü yaptık, gündüzü geçimi sağlama vakti kıldık, üstünüze yedi kat sağlam gök bina ettik, parlak ışık veren güneşi var ettik, taneler, bitkiler ve ağaçları sarmaş dolaş bahçeler yetiştirmek için yoğunlaşmış bulutlardan bol yağmur indirdik."

(Nebe suresi, 8-16. ayetler)

Bu ayetler aşağıdaki meleklerden hangisinin görevleri ile ilişkilendirilebilir?

- A) Mikail
B) İsrail
C) Münker ve Nekir
D) Kirâmen Kâtibîn

1. OTURUM

(819) KELAM – 1

1. “Kelamullah” ifadesinin anlamı aşağıdakilerden hangisidir?

- A) Allah'ın evrene koyduğu yasalar
- B) Allah'ın varlığı ve birliği
- C) Allah'ın isimleri
- D) Allah'ın sözü

2. İslam dininin temel inanç konularını ele alarak akli açıklamalar yapan ve ilm-i tevhid, usûlü'd-din, fıkıh-ı ekber gibi isimlerle de bilinen ilim dalı aşağıdakilerden hangisidir?

- A) Tefsir
- B) Kelam
- C) Hadis
- D) Siyer

3. Aşağıdakilerden hangisi İslam âlimlerinin “usûl-i selâse” olarak ele aldıkları konulardan biri değildir?

- A) Tevhid
- B) Nübüvvet
- C) Meleklerle iman
- D) Ahirete iman

4. “Eğer göklerde ve yerde Allah'tan başka tanrılar olsaydı bu ikisinin düzeni bozulurdu. Demek ki Arş'ın Rabb'i olan Allah, onların yakıştırdıkları sıfatlardan münezzehtir.”
(Enbiyâ suresi, 22. ayet)

Bu ayette aşağıdakilerden hangisi vurgulanmaktadır?

- A) Allah'ın âleme daima müdahale ettiği
- B) Allah'ın eşsiz, benzersiz ve tek ilah olduğu
- C) Evrende bir takım ilahi yasaların olduğu
- D) Göklerde ve yerde çeşitli varlıkların bulunduğu

5. Hz. Peygamber, Allah'tan aldığı ilahi mesajları insanlara hem tebliğ etmiş hem de yaşayarak örnek olmuştur. Anlaşılması zor olan konuların da açıklamasını yapmıştır. Hz. Peygamber'in vefatından sonra yaşanan siyasi olaylar ve ihtilaflar ilk fikri hareketleri ortaya çıkarmıştır.

Bu metinde Kelam ilminin aşağıdaki yönlerinden hangisi vurgulanmaktadır?

- A) Doğuşu
- B) Tanımı
- C) Amacı
- D) Konusu

6. Aşağıdakilerden hangisi Ehl-i sünnetin kabul ettiği bilgi kaynaklarından biri değildir?

- A) Havass-ı selime
- B) Haber-i sadık
- C) Selim akıl
- D) Sezgi

7. Aşağıdaki âlimlerden hangisi “Ashabu'l-hadis” akımına öncülük etmiştir?

- A) Ebu'l-Hasan el-Eş'ârî
- B) Ebu Mansûr el-Mâtürîdî
- C) Ahmed bin Hanbel
- D) Hasan el-Basrî

8. Felsefe ve mantığı kelam ilmine dâhil eden âlim aşağıdakilerden hangisidir?

- A) İmam Gazâlî
- B) Ebu Hanife
- C) Bâkîllânî
- D) Neseffî

9. Aşağıdakilerden hangisi İslam dininin muhtevasını oluşturan temel esaslardan biri değildir?

- A) İman
- B) Ahlak
- C) Gelenek
- D) Muamelat

10. Kelam ile felsefe arasındaki benzerlik aşağıdakilerden hangisidir?

- A) Meseleleri sadece akılla çözmeye çalışmaları
- B) Varlık, bilgi ve değerler konularını ele almaları
- C) Sağlam bir inanç temeli oluşturmaları
- D) Vahyi kaynak kabul etmeleri

11. “Kitâbu't-Tevhid” aşağıdaki kelam âlimlerinden hangisine aittir?

- A) Ebu'l-Hasan el-Eş'ârî
- B) Nüreddin es-Sâbunî
- C) İmam-ı Âzam Ebu Hanife
- D) Ebu Mansur el-Mâtürîdî

12. • Osmanlıların son döneminde yetişen önemli fikir ve ilim adamlarındandır.
• Yeni İlm-i Kelam en önemli eserlerindedir.

Hakkında bilgi verilen âlim aşağıdakilerden hangisidir?

- A) Bekir Topaloğlu
- B) İsmail Hakkı İzmirli
- C) Ömer Nasuhi Bilmen
- D) Muhammed Hamdi Yazır

13. “Varlığının bir başlangıcı olmaksızın diğer şeylerden önce mevcut olan ve yokluğu mümkün olmayan” anlamına gelen kavram aşağıdakilerden hangisidir?

- A) Hâdis
- B) Beşerî
- C) Kadim
- D) İstidlâfî

14. Allah'ın “Muhyî” isminin anlamı aşağıdakilerden hangisidir?

- A) Hayat ve can veren
- B) İzzet ve şeref veren
- C) Şekil ve özellik veren
- D) Gözeten ve dengede tutan

15. “Biz insanı katışık bir nutfeden yarattık ve onu imtihan edeceğiz. Bu yüzden, onun iştmesini ve görmesini sağladık.”

(İnsân suresi, 2. ayet)

Bu ayetten insan ile ilgili aşağıdakilerin hangisine ulaşamaz?

- A) Yaratılışının bir amacı olduğuna
- B) Sorumlu bir varlık olduğuna
- C) Belirli özelliklere sahip olduğuna
- D) Diğer canlılardan üstün olduğuna

16. Aşağıdaki hadislerin hangisinde aklın önemine ve rolüne değinilmektedir?

- A) “Allah, yanılarak, unutarak ve mecbur bırakılarak yaptıklarından dolayı ümmetimi sorumlu tutmaz.”
- B) “Müminlerin iman bakımından en üstünü, ahlak bakımından en güzel olanıdır.”
- C) “Ergenlik çağına kadar çocuktan, iyileşinceye kadar akıl hastasından ve uyanıncaya kadar uyuyan dan sorumluluk kaldırılmıştır.”
- D) “Allah sizin suretlerinize ve mallarınıza bakmaz, ancak kalplerinize ve amellerinize bakar.”

17. “Size vermediğimiz imkânları onlara vermiştik. Kendilerine kulaklar, gözler ve kalpler bahşetmiştik; ama Allah'ın ayetlerini bile bile inkâr ettikleri için kulakları, gözleri ve kalpleri onlara bir fayda sağlamadı ve alaya aldıkları şeyler onları kuşattı.”
(Ahkâf suresi, 26. ayet)

Bu ayette altı çizili bölümde aşağıdaki bilgi kaynaklarından hangisine değinilmektedir?

- A) Mütevatir haber
- B) Havass-ı selime
- C) Haber-i resul
- D) Akl-ı selim

1. OTURUM

18. Aşağıdakilerden hangisi itikadî hükümlerin özellikleri arasında yer almaz?

- A) Açıklık B) Kesinlik
C) Bütünlük D) Değişkenlik

19. Aşağıdaki kavramlardan hangisi akli delillerin yöntemlerinden biri değildir?

- A) Nas B) Kıyas
C) İstidlâl D) Tümevarım

20. "Aklen varlığı gerekli ve zorunlu olan" anlamındaki kavram aşağıdakilerden hangisidir?

- A) Mümteni B) Mümkün
C) Vâcib D) Hâdis

(825) OSMANLI TÜRKÇESİ – 1

1. Cami, tekke, mektep, medrese, han, çeşme, hamam, sebil, kütüphane gibi herhangi bir abidenin ekseriya dış bazen de iç cephesinde yer alan veya nişan taşı, mezar taşı gibi bir dikilitaş üzerindeki yazılardır. Çoğunlukla bulunduğu bina veya adına dikildiği şahısla ilgili bilgiler ihtiva eder. Bu bilgiler devrin şairlerince kaleme alınır, sonra da bir hat üstadına yazdırılır. Manzumenin son bir veya iki mısrasında o yılın tarihi düşülür. Bu yazılar mermer üzerine kabartma şeklinde oyularak hazırlanır.

Bu parçada aşağıdakilerin hangisiyle ilgili bilgi verilmiştir?

- A) Kitaplar B) Kitabeler
C) Levhalar D) Hilyeler

2. Aşağıdakilerden hangisi Osmanlı Türkçesinde yer alan okutucu harflerden değildir?

- A) elif B) ayın
C) vav D) ye

3. "ض" harfinin adı aşağıdakilerden hangisidir?

- A) Sad B) Dal
C) Zı D) Dad

4. "ص, س, ث" harflerinin karşıladığı ortak ses aşağıdakilerden hangisidir?

- A) Ş B) D C) S D) T

5. Aşağıdakilerden hangisi kendinden sonra gelen harfle birleşir?

- A) ن B) ژ C) ذ D) ا

6. Aşağıdakilerin hangisinde bir harfin ortada yazılışı verilmemiştir?

- A) سد B) بـ C) تـ D) مـ

7. "ا ر پ ي ق" harflerinin tamamıyla aşağıdaki sözcüklerden hangisi yazılabilir?

- A) Bakır B) Rakip
C) Ayrık D) Yaprak

8. "۱ ۸ + ۷ ۲" işleminin sonucu aşağıdakilerden hangisidir?

- A) ۸۴ B) ۹۰ C) ۹۵ D) ۷۶

9. پارلاق چاناق یلواش قاینار.

Aşağıdakilerden hangisi bu cümledeki sözcüklerden değildir?

- A) Yavan B) Çanak
C) Kaynar D) Parlak

10. Aşağıdaki sözcüklerden hangisinin ikinci hecesi açıktır?

- A) نه دن B) تکرلک
C) سوه جن D) گرچک

11. يدك تکرلک نره ده

Bu cümlelerin sonuna aşağıdaki noktalama işaretlerinden hangisi getirilmelidir?

- A) ؟ B) ! C) ... D) .

12. Aşağıdaki sözcüklerden hangisinin son hecesindeki okutucu diğerlerinden farklıdır?

- A) اوزوم B) اورتوک
C) آسلان D) اویون

13. Aşağıdaki sözcüklerin hangisinde "ye" okutucusu farklı bir sesi karıştırmıştır?

- A) سیلگی B) تیلکی
C) آکشی D) طوزجی

14. تکر کدی چاناقده کی آتی
III II I
خیزلیجه بییدی.
IV

Bu cümledeki altı çizili sözcüklerden hangisi bir gereç adıdır?

- A) I B) II C) III D) IV

15. I. چشمه
II. یاپیلماز
III. کنارینه
IV. ایرماق

Numaralanmış sözcüklerle bir atasözü oluşturulmak istenirse sonda ikinci sözcük aşağıdakilerden hangisi olur?

- A) I B) II C) III D) IV

16. "۱۹۹۷/۰۷/۲۶" tarihinin günümüz Türkçesindeki karşılığı aşağıdakilerden hangisidir?

- A) 26/08/1998 B) 26/07/1997
C) 22/07/1997 D) 29/08/1998

17. Aşağıdaki harflerden hangisi Kur'an alfabesinde vardır?

- A) چ B) ژ C) ظ D) پ

18. • Osmanlı Türkçesi alfabesi soldan sağa doğru yazılır.
• Osmanlı Türkçesinde noktalama işaretleri kullanılmaz.
• Osmanlı Türkçesi alfabesinde rakamlar soldan sağa doğru yazılır.

Bu cümleler doğru-yanlış olarak değerlendirildiğinde sıralama aşağıdakilerden hangisi olur?

- A) D-Y-D B) Y-D-Y
C) D-D-Y D) Y-Y-D

1. OTURUM

19. Aşağıdakilerden hangisi eşya adı değildir?

- A) ماصا B) طاش
C) بارداق D) قازان

20. أشك طار سمره گله مز .

Bu cümledeki sözcüklerden hangisi hayvan adıdır?

- A) أشك B) طار
C) سمره D) گله مز

(931) SİYER – 1

1. Hz. Peygamber'in getirdiği emir ve yasaklar yalnızca gönderildiği toplum için değil, kendisinden sonra yaşayacak olan bütün insanlık için de bağlayıcıdır.

Bu metin Hz. Peygamber'in aşağıdaki özelliklerinden hangisi ile doğrudan ilişkilidir?

- A) Vefalı olması
B) Beşer olması
C) Güvenilir olması
D) Son peygamber olması

2. Allah'ın emirlerinin ilk muhatabı olan Hz. Peygamber, gönderilen vahiyleri en doğru şekilde uygulamış, gerektiğinde açıklamalar yapmış ve Müslümanlar için bir "üsve-i hasene" olmuştur.

Bu metinde altı çizili kavram ile ilgili ayet aşağıdakilerden hangisidir?

- A) "...Kim Allah ve Resülü'ne karşı gelirse onun için cehennem ateşi vardır."
(Enfâl suresi, 13. ayet)
- B) "De ki: 'Hak, Rabb'inizdendir, artık dileyen inansın, dileyen inkâr etsin...'"
(Kehf suresi, 29. ayet)
- C) "Andolsun, Allah'ın Resülü'nde sizin için; Allah'a ve ahiret gününe kavuşmayı uman, Allah'ı çok zikreden kimseler için güzel bir örnek vardır."
(Ahzâb suresi, 21. ayet)
- D) "Biz seni Hak ile müjdeleyici ve uyarıcı olarak gönderdik..."
(Bakara suresi, 119. ayet)

3. Aşağıdaki kaynaklardan hangisi hadis külliyyatı içerisinde yer almaktadır?

- A) el-Müsned
B) Kitâbü'l-Meğâzî
C) es-Sîretü'n-Nebeviyye
D) Târîhu'l-Ümem ve'l-Mülûk

4. Hz. Peygamber'in;

- hayatını,
- ahlakını ve dış görünüşünü,
- siyasi ve askerî mücadelelerini konu alan bir çok eser yazılmıştır.

Buna göre aşağıdakilerden hangisi bu eserlerden biri değildir?

- A) Meğazi B) Siyer
C) Şemâil D) Menâkıb

5. İbn Sa'd'a ait bir eserdir. Eserde siyer konularına, sahabe, tabiin, tebeu't-tabiin ve ardından gelen neslin biyografilerine ve hanım sahabilere yer verilmiştir.

Hakkında bilgi verilen eser aşağıdakilerden hangisidir?

- A) Ahbâru Mekke
B) et-Tabakâtü'l-Kübrâ
C) el-Fıkhü'l-Ekber
D) er-Risale

6. Hz. Nuh'tan itibaren Arapların soyunu ve sırasıyla Hz. Peygamber'in dedelerini ve onun hayatını anlatan eser aşağıdakilerden hangisidir?

- A) el-Bidâye ve'n-Nihâye
B) Kitabu't-Tevhit
C) Ensâbü'l-Eşraf
D) el-Ümm

7. Hz. İbrahim'in oğlu Hz. İsmail'in soyundan geldiği kabul edilen Arap kolu aşağıdakilerden hangisidir?

- A) Adnânî B) Kahtânî
C) Sâmî D) Ârâmî

8. İslam öncesi dönemde Hz. İbrahim'in tebliğ ettiği tevhit inancına tâbi olanları ifade etmek için aşağıdaki kavramlardan hangisi kullanılmaktadır?

- A) Budist B) Zerdüş
C) Hanif D) Hristiyan

9. Aşağıdakilerden hangisi putpe-restler ile ilgili bir bilgi değildir?

- A) Önemli kararlarını putlara danışarak almışlardır.
B) Zerdüş'tün öğretileri ile eski İran inanç ve geleneklerinden etkilenmişlerdir.
C) Tanrılara saygı göstermek amacıyla put evleri inşa etmişlerdir.
D) Savaşta galip gelmek, erkek evlat sahibi olmak için putlardan yardım istemişlerdir.

10. "...Biz atalarımızı bir din üzerinde bulduk, biz ancak onları taklit ederiz..."
(Zuhuf suresi, 23. ayet)

Bu ayetten cahiliye toplumu ile ilgili aşağıdakilerin hangisine ulaşamaz?

- A) Asabiyet duygusuna sahip olduklarına
B) Taassup içerisinde bulduklarına
C) Hayatı sorgulamadan yaşadıklarına
D) Göçebe bir hayat yaşadıklarına

11. Esirler gibi olmamakla beraber hürlerle aynı haklara da sahip olmayan, azat edilmiş köle ve cariyelere - - - - denilmektedir.

Bu tanımda boş bırakılan yere aşağıdaki kavramlardan hangisi getirilmelidir?

- A) bedevî B) hadari
C) mevali D) medeni

12. Kâbe'ye asılan seçkin kaside koleksiyonu aşağıdaki kavramlardan hangisi ile ifade edilmektedir?

- A) Ahbâr
B) Muallakat
C) Eyyâmü'l-Arab
D) Ensâbü'l-Arab

13. • Hz. İbrahim, ailesini bu şehre getirmiştir.
• Hz. İsmail ve annesine hayat veren zemzem burada akmaya başlamıştır.
• Kur'an-ı Kerim'de "Ümmü'l-Kurâ", "Beledü'l-emin" gibi isimlerle anılmaktadır.

Hakkında bilgi verilen şehir aşağıdakilerden hangisidir?

- A) Küfe B) Kudüs
C) Mekke D) Medine

1. OTURUM

14. Aşağıdakilerden hangisi Taif şehri ile ilgili bir bilgi değildir?

- A) Sakif kabilesinin yaşadığı şehirdir.
- B) Ekonomisi, Yahudi kabilelerinin hâkimiyetindedir.
- C) Deri işlemeciliği ile tüm Arabistan'da meşhur olmuştur.
- D) Arabistan'a gelen yolların kesişme noktasında yer almaktadır.

15. Benî Kaynuka kabilesi aşağıdaki zanaatlardan hangisi ile ön plana çıkmıştır?

- A) Demircilik
- B) Oymacılık
- C) Dokumacılık
- D) Kuyumculuk

16. Hz. Muhammed'in (sav.) soyu aşağıdaki peygamberlerden hangisine dayanmaktadır?

- A) Hz. İsmail
- B) Hz. İshak
- C) Hz. Musa
- D) Hz. İsa

17. Aşağıdakilerden hangisi Kusay bin Kilab ile ilgili bir bilgi değildir?

- A) Mekke şehir devletini kurarak Kureşlileri bir araya getirmiştir.
- B) Kâbe hizmetlerini düzenleyerek hacılara yardımda bulunmuştur.
- C) Yemen valisi Ebrehe ve ordusuna karşı Kâbe'yi korumaya çalışmıştır.
- D) Önemli işleri görüşmek üzere Dar'un-Nedve'yi kurmuştur.

18. Hz. Peygamber'in, kaybolan zemzem kuyusunu bulup yeniden faaliyete geçiren dedesi aşağıdakilerden hangisidir?

- A) Adnan
- B) Kilab
- C) Abdulmenaf
- D) Abdülmuttalib

19. • Hz. Peygamber'in en çok kullanılan ikinci ismidir.

- "Allah'ı herkesten daha iyi ve daha çok öven" anlamlarına gelir.
- Hz. İsa'nın kendisinden sonra geleceğini müjdelediği isimdir.

Bu bilgiler Hz. Peygamber'in aşağıdaki isimlerinden hangisine aittir?

- A) Ahmet
- B) Âkîb
- C) Mâhi
- D) Mustafa

20. Aşağıdakilerden hangisi Hz. Peygamber'in Kâbe hakemliği ile ilgilidir?

- A) Tüccarların yaşadığı haksızlıkların çözülmesi
- B) Hacerülesved taşının yerine yerleştirilmesi
- C) Kabileler arasındaki kan davalarının durdurulması
- D) Kâbe'nin tamiratına başlayacak kabilenin seçilmesi

(974) SEÇMELİ GİRİŞİMCİLİK – 1

1. Aşağıdakilerden hangisi ekonomi biliminin çalışma alanının dışındadır?

- A) Ülkelerin zenginleşirken hangi yöntemleri kullandığı
- B) Kaynakların insanlar arasında nasıl bölüşüldüğü
- C) İnsanların daha fazla nasıl mutlu edileceği
- D) Yeni teknolojilerin üretime olan etkileri

2. Zorunlu ihtiyaçların insan için temel özelliği aşağıdakilerden hangisidir?

- A) Karşılanmadığında insan hayatının tehlikeye girmesi
- B) Karşılanmasının yüksek maliyet gerektirmesi
- C) Kıt kaynaklar tüketilerek ihtiyacın karşılanabilmesi
- D) Zaman içinde önem sırasının sürekli değişmesi

3. Ekonomik faaliyetlerin tamamının insanlara sunduğu fayda aşağıdakilerden hangisidir?

- A) İstihdam yaratmak
- B) Refahı yükseltmek
- C) Barınmasını sağlamak
- D) Eğitimi sağlamak

4. Aşağıdakilerden hangisi ekonomideki üretim faktörleri arasında yer almaz?

- A) Emek
- B) Doğa
- C) Girişimci
- D) Fiyat

5. Sermaye için aşağıdakilerden hangisi söylenebilir?

- A) Makine ve teçhizatlar sermaye değildir.
- B) Kıt kaynaklar arasında değeriendirilemez.
- C) Sermayesi yüksek olan ülkeler sorunları daha kolay aşar
- D) Üretimde insan emeğinin üretkenliğini azaltır.

6. • Modern tarım makineleri ekilebilen alanları artırmıştır.
- Robotlar sayesinde otomobil fabrikaları daha hızlı ve hatasız araç üretmektedir.
 - Soğutucuya sahip tırlar çok fazla gıdayı uzun mesafeye taşıyabilir.
 - Yeni inşaat araçları ve teknikleri konut üretimini hızlandırmıştır.

Verilenlere göre aşağıdaki genellemelerden hangisine ulaşılır?

- A) Gelişmiş teknoloji üretim verimliliğini artırır.
- B) Yeni teknolojiler eskilerini tamamen ortadan kaldırır.
- C) Robot teknolojisi fabrikalarda üretimin tüm evrelerinde kullanılır.
- D) Teknolojinin gelişmesi tüm mal ve hizmetlerin fiyatını düşürmüştür.

7. Günümüzde bir malın değeri para ile ifade edilse de bazı malların değeri para yerine başka bir mal ile de ifade edilebilir. Bu durum "reel değişim oranları" kavramını ortaya çıkarmıştır.

Buna göre aşağıdakilerin hangisinde reel değişim oranından söz edilebilir?

- A) 100 metrelik duvarın 5 işçi ile 30 günde örülmesi
- B) Lüks ve konforlu seyahat araçlarının daha pahalı hizmet sunması
- C) Bir kilo peynir üretimi için 10 kilo sütün kullanılması
- D) Bir adet traktörün yirmi ton domates bedelinde olması

1. OTURUM

8. Sermaye sahipleriyle mallarının satışı için sözleşme imzalayıp satıştan kâr payı alan ve böylece Uzak Doğu'yla bir ticaret yolu kurmaya çalışan ilk girişimci aşağıdakilerden hangisidir?

- A) Marco Polo
- B) Richard Cantillon
- C) John Law
- D) Jean Babtist Say

9. Aşağıdakilerden hangisi yaratıcılık özellikleri gelişmiş girişimcide gözlemlenen bir durumdur?

- A) İşletmenin yapısında ve işleyişinde geleneksel yapıyı korur.
- B) Beliren bir ihtiyaç, eksiklik veya problemde çözüm yolunu bulur.
- C) Kararlarını diğer çalışanların fikirlerini temel alarak verir.
- D) Yeni icatlara ve keşiflere daima mesafeli durur.

10. Devletin girişimci için enerji, ulaşım, iletişim alanlarında hizmet sunması ve bazı bürokratik engelleri azaltmasının temel amacı aşağıdakilerden hangisidir?

- A) Tüketimi artırmak
- B) Girişimciliği teşvik etmek
- C) İthalatı kolaylaştırmak
- D) Adil rekabet ortamı sunmak

11. Aşağıdakilerden hangisine sahip olan ailelerde ilerde girişimci özelliklere sahip birey yetişmesinin mümkün olduğu söylenebilir?

- A) Ailenin yeniliklere kapalı risk alma-yan yapıda olması
- B) Anne ve babanın çocuklarını otoriter ve sıkı denetimde tutması
- C) Ailenin çocuktaki başarıya azmini pekiştirmesi
- D) Çocuğun meslek seçiminde babanın belirleyici olması

12. Teknolojinin gelişmesi ve bilgi toplumu-na geçiş ile küreselleşme rekabetin artması, rakiplerin yeni stratejiler geliştirmesi, nüfus yapısının ve teknolojik sınırlarının değişmesi gibi yeni konular - - - - girmiştir.

Bu cümlede boş bırakılan yere gelecek en uygun ifade aşağıdakilerden hangisidir?

- A) eğitim dünyasına
- B) enerji tüketimine
- C) inşaat teknolojisine
- D) çalışma hayatına

13. Aşağıdakilerden hangisi girişimcinin kendi işini kurmasının avantajlarından biri değildir?

- A) Liderlik yapma şansını sunması
- B) Yüksek kazanç sağlama imkânının doğması
- C) Ailesine daha az, işine daha fazla zaman ayırması
- D) Çevresinin saygınlık ve takdirini kazanması

14. Aşağıdakilerden hangisi girişimcilikle karıştırılan kavramdır?

- A) İşveren
- B) Çalışan
- C) Taşeron
- D) İşletme

15. Girişimci işini yaparken aşağıdakilerden hangisine karşı sorumluluk sahibidir?

- A) Yabancı devletlere
- B) Sektördeki büyük firmalara
- C) Küresel güçlere
- D) Devleti ve halkına

16. Mal ve hizmet satışlarını artırmayı hedefleyen bir işletmede, girişimcinin aşağıdakilerden hangisini yapması gerekir?

- A) Ürün ve hizmet kalitesini düşürmesi
- B) Geleneksel üretim şeklinde ısrar etmesi
- C) Yeni pazarlar bulması ve ulaşması
- D) Çalışan kişi sayısını azaltması

17. Aşağıdaki özelliklerden hangisine sahip olan ülkelerde girişimci sayısı azdır?

- A) Nüfusu hızlı artan
- B) Eğitim düzeyi düşük olan
- C) Gelir seviyesi yüksek olan
- D) Meslek çeşitliliği fazla olan

18. Girişimcinin tüm enerjisini, kaynaklarını, zamanlarını bir araya getirerek işinden başka bir şey düşünmemesi aşağıdakilerden hangisiyle ilgilidir?

- A) Vizyon
- B) Önsezi
- C) Odaklanma
- D) Esneklik

19. Steven Spielberg aşağıda verilen sektörlerin hangisinde yaptığı yeniliklerle Dünya tarihinin önemli yatırımcıları arasında sayılır?

- A) Sinema
- B) Otomotiv
- C) Elektronik
- D) Tekstil

20. Başarılı olan bir girişimi görerek aynı yerde aynı tip ve özelliklere sahip şirket kurarak üretim veya hizmet sunulması girişimciliğin hangi yanlış uygulamasıdır?

- A) Yüksek maliyet
- B) Hedefsizlik
- C) Hatalı istihdam
- D) Taklitçilik

1. OTURUM

(999) MATEMATİK – 2

1. $\frac{a}{3} = \frac{b}{4} = \frac{c}{5}$ ve $a + b - c = 12$ olduğuna göre b kaçtır?

A) 30 B) 24 C) 18 D) 12

2. $(a - 3)$ sayısı ile $(b + 2)$ sayısı doğru orantılıdır.

$a = 4$ iken $b = -1$ olduğuna göre $a = 1$ iken b kaçtır?

A) -4 B) -3 C) -2 D) -1

3. Bir geziye katılan kişi sayısının 3 fazlasının 4 katı 52'den azdır.

Buna göre bu geziye katılan kişi sayısı en fazla kaçtır?

A) 8 B) 9 C) 10 D) 11

4. Erdem, 80 sorudan oluşan bir sınavda soruların tamamını cevaplamıştır.

Erdem bu soruların $\frac{3}{5}$ 'ini doğru cevapladığına göre kaç soruyu yanlış cevaplamıştır?

A) 48 B) 44 C) 36 D) 32

5. Tuz oranı %10 olan 40 litre tuzlu su ile tuz oranı %25 olan 60 litre tuzlu su karıştırıldığında elde edilen yeni karışımın tuz oranı yüzde kaç olur?

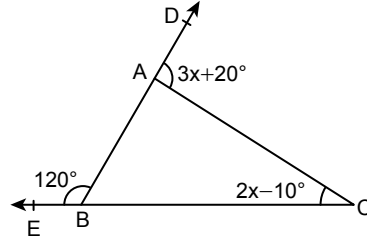
A) 35 B) 27 C) 23 D) 19

6. Maliyeti 80 TL olan bir gömleğin indirimli satış fiyatı 64 TL olarak belirlenmiştir.

Buna göre bu gömleğin satışından yüzde kaç zarar edilmiştir?

A) 16 B) 20 C) 26 D) 32

7.

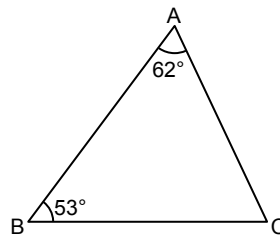


Şekilde ABC üçgen, $m(\widehat{ABE}) = 120^\circ$, $m(\widehat{ACB}) = 2x - 10^\circ$ ve $m(\widehat{DAC}) = 3x + 20^\circ$ dir.

Buna göre x kaç derecedir?

A) 10 B) 20 C) 30 D) 40

8.

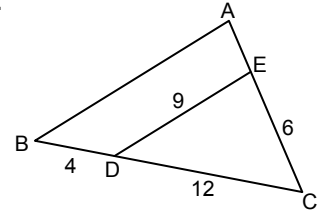


Şekildeki ABC üçgeninde $m(\widehat{ABC}) = 53^\circ$, $m(\widehat{BAC}) = 62^\circ$ dir.

Buna göre bu üçgenin kenar uzunluklarının doğru sıralanışı aşağıdakilerden hangisidir?

- A) $|AC| < |AB| < |BC|$
 B) $|BC| < |AC| < |AB|$
 C) $|AC| < |BC| < |AB|$
 D) $|BC| < |AB| < |AC|$

9.

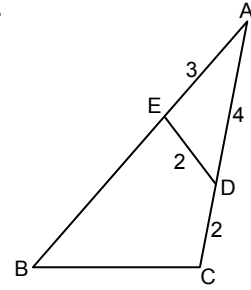


Şekildeki ABC üçgeninde $[DE] \parallel [BA]$ ve $|BD| = 4$ cm, $|DE| = 9$ cm, $|DC| = 12$ cm ve $|CE| = 6$ cm'dir.

Buna göre $|AB| + |AE|$ kaç santimetredir?

A) 12 B) 14 C) 16 D) 18

10.

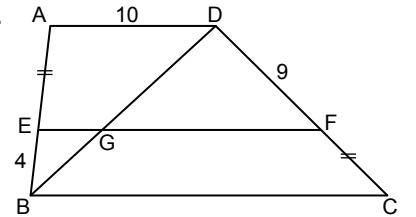


Şekilde $\widehat{ABC} \sim \widehat{ADE}$, $|AE| = 3$ cm, $|AD| = 4$ cm ve $|DC| = |ED| = 2$ cm'dir.

Buna göre $|BC|$ kaç santimetredir?

A) 2 B) 3 C) 4 D) 5

11.



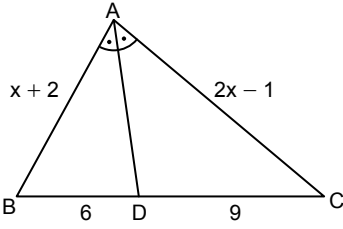
Şekilde $[AD] \parallel [EF] \parallel [BC]$ ve $|AD| = 10$ cm, $|EB| = 4$ cm, $|DF| = 9$ cm, $|AE| = |FC|$ 'tir.

Buna göre $|EG|$ kaç santimetredir?

A) 3 B) 4 C) 5 D) 6

1. OTURUM

12.

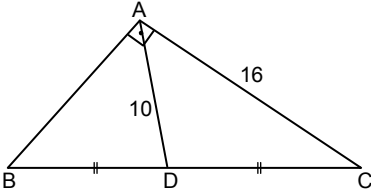


Şekildeki ABC üçgeninde $m(\widehat{BAD}) = m(\widehat{DAC})$ ve $|BD| = 6$ cm, $|DC| = 9$ cm, $|AB| = (x + 2)$ cm, $|AC| = (2x - 1)$ cm'dir.

Buna göre x kaçtır?

- A) 3 B) 4 C) 6 D) 8

13.

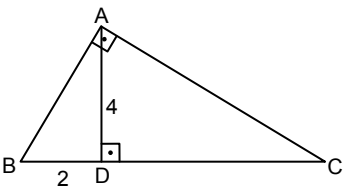


Şekildeki ABC üçgeninde $m(\widehat{BAC}) = 90^\circ$ ve $|BD| = |DC|$, $|AD| = 10$ cm, $|AC| = 16$ cm'dir.

Buna göre ABC üçgeninin çevresi kaç santimetredir?

- A) 36 B) 42 C) 48 D) 54

14.

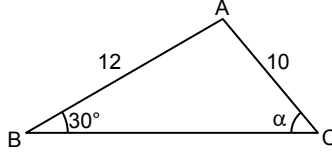


Şekildeki ABC üçgeninde $[BA] \perp [AC]$, $[AD] \perp [BC]$ ve $|BD| = 2$ cm, $|AD| = 4$ cm'dir.

Buna göre |AC| kaç santimetredir?

- A) $2\sqrt{3}$ B) $2\sqrt{5}$
C) $4\sqrt{3}$ D) $4\sqrt{5}$

15.

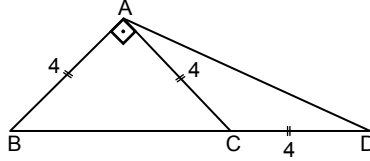


Şekildeki ABC üçgeninde $m(\widehat{ABC}) = 30^\circ$, $m(\widehat{ACB}) = \alpha$ ve $|AB| = 12$ cm, $|AC| = 10$ cm'dir.

Buna göre $\tan \alpha$ kaçtır?

- A) $\frac{3}{4}$ B) $\frac{4}{5}$ C) $\frac{5}{6}$ D) $\frac{6}{5}$

16.

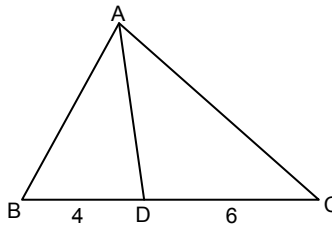


Şekilde ABC ikizkenar dik üçgen ve $|AB| = |AC| = |CD| = 4$ cm'dir.

Buna göre $A(\widehat{ACD})$ kaç santimetrekaredir?

- A) $4\sqrt{2}$ B) $8\sqrt{2}$
C) $12\sqrt{2}$ D) $16\sqrt{2}$

17.



Şekildeki ABC üçgeninde $A(\widehat{ABC}) = 120$ cm² ve $|BD| = 4$ cm, $|DC| = 6$ cm'dir.

Buna göre $A(\widehat{ABD})$ kaç santimetrekaredir?

- A) 40 B) 48 C) 60 D) 72

18. 25, 13, 17, 7, 21, 19 sayılarından oluşan veri grubunun medyanı (ortanca) kaçtır?

- A) 18 B) 17 C) 16 D) 15

19. 12, 11, 15, x, 16, 18 sayılarından oluşan veri grubunun tepe değeri 18'dir.

Buna göre bu veri grubunun aritmetik ortalaması kaçtır?

- A) 17 B) 16 C) 15 D) 14

20. Bir kütüphaneden bir hafta boyunca ödünç alınan kitap sayısının günlere göre dağılımı aşağıdaki tabloda verilmiştir.

Pazartesi	Salı	Çarşamba	Perşembe	Cuma	Cumartesi	Pazar
55	46	63	48	70	118	100

Bu tablo, daire grafiği ile gösterildiğinde kütüphaneden pazar günü ödünç alınan kitap sayısını gösteren daire diliminin merkez açısının ölçüsü kaç derece olur?

- A) 36 B) 50 C) 72 D) 100

**TEST BİTTİ.
CEVAPLARINIZI KONTROL EDİNİZ.**

CEVAP KÂĞIDI VE SORU KİTAPÇIĞI İLE İLGİLİ AÇIKLAMALAR

1. Cevap kâğıdınızdaki bilgilerin doğruluğunu kontrol ediniz ve cevap kâğıdınızı mürekkepli kalemle imzalayınız.
2. Cevap kâğıdı üzerinde kodlamalarınızı siyah kurşun kalemle yapınız.
3. Değiştirmek istediğiniz bir cevabı, yumuşak silgiyle cevap kâğıdını örselemeden temizce siliniz ve yeni cevabınızı kodlayınız.
4. Soru kitapçığının sayfalarını görevlilerin uyarıları doğrultusunda kontrol ediniz, baskı hatası var ise değiştirilmesini sağlayınız.
5. Soruların çözümü için size ayrıca boş kâğıt verilmeyecektir. Soru kitapçığının içindeki boş alanları soru çözümleri için kullanabilirsiniz.
6. Her sorunun dört seçeneğinden sadece biri doğrudur. Doğru seçeneği, cevap kâğıdınızın ilgili sütununa soru numarasını dikkate alarak yuvarlağın dışına taşımadan kodlayınız. Soru kitapçığı üzerinde yapılan cevaplandırmalar dikkate alınmayacaktır.
7. Cevaplamaya istediğiniz dersin sorusundan başlayabilirsiniz. Cevabını bilmediğiniz sorular üzerinde fazla zaman kaybetmeden diğer sorulara geçiniz. Zamanınız kalırsa bu sorulara daha sonra dönebilirsiniz.
8. Yanlış cevaplarınız dikkate alınmadan sadece doğru cevaplarınız üzerinden puanlama yapılacaktır.
9. Soruları ve sorulara verdiğiniz cevapları, yanınızda götürmek amacıyla kaydetmeyiniz; hiçbir şekilde dışarı çıkarmayınız.
10. Sınav bitiminde soru kitapçığı ve cevap kâğıdını salon görevlilerine teslim ediniz.
11. Aday tarafından cevap kâğıdına yazılması veya işaretlenmesi gereken bilgilerde eksiklik ya da yanlışlık olması durumunda sorumluluk adaya ait olacaktır.

SALON GÖREVLİLERİNCE SINAV BAŞLAMADAN ÖNCE ADAYLARA YAPILACAK SON UYARILAR

- Soracağınız bir şey varsa şimdi sorunuz, sınav başladıktan sonra sorularınıza cevap verilmeyecektir.
- Başlama zilini bekleyiniz.

Hepinize başarılar dileriz.

(Salon başkanı başlama ve bitiş saatini tahtaya yazacaktır.)

Bu kitapçığın her hakkı saklıdır. Hangi amaçla olursa olsun, kitapçığın tamamının veya bir kısmının Millî Eğitim Bakanlığı Ölçme, Değerlendirme ve Sınav Hizmetleri Genel Müdürlüğü'nün yazılı izni olmadan kopya edilmesi, fotoğraflarının çekilmesi, bilgisayar ortamına alınması, herhangi bir yolla çoğaltılması, yayımlanması veya başka bir amaçla kullanılması yasaktır. Bu yasağa uymayanlar, doğabilecek cezai sorumluluğu ve kitapçığın hazırlanmasındaki mali külfeti peşinen kabullenmiş sayılır.

25 TEMMUZ 2020 TARİHİNDE YAPILAN AÇIK ÖĞRETİM LİSESİ / MESLEKİ AÇIK ÖĞRETİM LİSESİ /
AÇIK ÖĞRETİM İMAM HATİP LİSESİ
2019-2020 ÖĞRETİM YILI 2. DÖNEM SINAVI 1. OTURUM T KİTAPÇIĞI CEVAP ANAHTARI

(111) DİN KÜL. AHL. BİL. – 1

1. A
2. C
3. D
4. B
5. A
6. C
7. B
8. C
9. D
10. B
11. C
12. A
13. D
14. C
15. B
16. D
17. A
18. C
19. B
20. D

(115) DİN KÜL. AHL. BİL. – 5

1. C
2. D
3. C
4. A
5. B
6. D
7. A
8. C
9. B
10. D
11. C
12. A
13. D
14. B
15. C
16. A
17. D
18. B
19. C
20. D

(125) FELSEFE – 3

1. D
2. C
3. B
4. A
5. C
6. B
7. B
8. D
9. A
10. D
11. C
12. B
13. A
14. D
15. C
16. A
17. D
18. C
19. C
20. B

(136) SEÇMELİ TARİH – 2

1. A
2. D
3. B
4. A
5. D
6. C
7. D
8. A
9. B
10. D
11. C
12. A
13. A
14. B
15. B
16. D
17. C
18. B
19. A
20. C

(112) DİN KÜL. AHL. BİL. – 2

1. A
2. D
3. C
4. B
5. D
6. C
7. A
8. B
9. C
10. D
11. B
12. A
13. C
14. A
15. B
16. C
17. A
18. D
19. B
20. D

(121) FELSEFE – 1

1. A
2. B
3. C
4. C
5. D
6. A
7. C
8. B
9. D
10. C
11. A
12. B
13. A
14. A
15. C
16. B
17. D
18. C
19. C
20. D

(132) TARİH – 2

1. B
2. D
3. A
4. B
5. D
6. D
7. A
8. D
9. B
10. B
11. A
12. D
13. A
14. C
15. B
16. C
17. A
18. C
19. D
20. C

(151) COĞRAFYA – 1

1. C
2. D
3. A
4. B
5. D
6. C
7. A
8. B
9. D
10. B
11. A
12. C
13. A
14. D
15. B
16. C
17. D
18. A
19. B
20. C

25 TEMMUZ 2020 TARİHİNDE YAPILAN AÇIK ÖĞRETİM LİSESİ / MESLEKİ AÇIK ÖĞRETİM LİSESİ /
AÇIK ÖĞRETİM İMAM HATİP LİSESİ
2019-2020 ÖĞRETİM YILI 2. DÖNEM SINAVI 1. OTURUM T KİTAPÇIĞI CEVAP ANAHTARI

(155) SEÇMELİ COĞRAFYA – 1

1. B
2. C
3. B
4. D
5. D
6. C
7. C
8. A
9. D
10. C
11. B
12. D
13. A
14. C
15. D
16. B
17. A
18. A
19. C
20. B

(181) İNGİLİZCE – 1

1. B
2. C
3. A
4. D
5. A
6. C
7. B
8. D
9. B
10. A
11. D
12. A
13. C
14. D
15. B
16. A
17. D
18. B
19. B
20. C

(181) FRANSIZCA – 1

1. C
2. C
3. B
4. D
5. A
6. C
7. B
8. B
9. A
10. D
11. B
12. D
13. C
14. B
15. A
16. C
17. D
18. C
19. D
20. B

(244) İNGİLİZCE – 5

1. C
2. A
3. B
4. D
5. A
6. D
7. B
8. C
9. A
10. C
11. D
12. A
13. A
14. D
15. B
16. D
17. C
18. B
19. D
20. D

(157) SEÇMELİ COĞRAFYA – 3

1. D
2. A
3. C
4. C
5. C
6. B
7. A
8. D
9. B
10. A
11. D
12. C
13. C
14. D
15. B
16. D
17. B
18. A
19. A
20. C

(181) ALMANCA – 1

1. D
2. A
3. D
4. A
5. C
6. D
7. B
8. B
9. C
10. A
11. C
12. D
13. D
14. B
15. B
16. C
17. B
18. A
19. D
20. A

(222) SAĞLIK BİLGİSİ VE
TRAFİK KÜLTÜRÜ – 2

1. C
2. D
3. B
4. A
5. B
6. C
7. D
8. B
9. C
10. A
11. D
12. B
13. A
14. B
15. A
16. C
17. B
18. D
19. C
20. A

(244) ALMANCA – 5

1. B
2. C
3. B
4. A
5. C
6. D
7. A
8. B
9. C
10. D
11. B
12. C
13. A
14. D
15. C
16. B
17. D
18. D
19. A
20. A

25 TEMMUZ 2020 TARİHİNDE YAPILAN AÇIK ÖĞRETİM LİSESİ / MESLEKİ AÇIK ÖĞRETİM LİSESİ /
AÇIK ÖĞRETİM İMAM HATİP LİSESİ
2019-2020 ÖĞRETİM YILI 2. DÖNEM SINAVI 1. OTURUM T KİTAPÇIĞI CEVAP ANAHTARI

(244) FRANSIZCA – 5	(425) SEÇMELİ FİZİK – 1	(436) SEÇMELİ KİMYA – 2	(443) BİYOLOJİ – 3
1. D	1. D	1. C	1. B
2. C	2. A	2. D	2. A
3. C	3. C	3. A	3. D
4. A	4. B	4. C	4. C
5. D	5. C	5. A	5. D
6. B	6. A	6. B	6. A
7. B	7. D	7. C	7. B
8. C	8. C	8. C	8. A
9. C	9. C	9. B	9. C
10. D	10. B	10. D	10. D
11. C	11. A	11. D	11. C
12. A	12. D	12. C	12. B
13. B	13. C	13. B	13. B
14. C	14. B	14. B	14. D
15. A	15. D	15. A	15. A
16. C	16. A	16. D	16. B
17. D	17. B	17. A	17. B
18. D	18. B	18. B	18. A
19. D	19. C	19. A	19. C
20. B	20. D	20. A	20. D

(421) FİZİK – 1	(432) KİMYA – 2	(441) BİYOLOJİ – 1	(446) SEÇMELİ BİYOLOJİ – 2
1. B	1. D	1. C	1. A
2. C	2. C	2. A	2. D
3. B	3. B	3. B	3. B
4. C	4. C	4. A	4. C
5. B	5. C	5. D	5. A
6. A	6. D	6. C	6. A
7. D	7. A	7. A	7. B
8. A	8. D	8. B	8. C
9. D	9. B	9. D	9. A
10. A	10. A	10. C	10. D
11. B	11. C	11. B	11. B
12. C	12. B	12. A	12. C
13. A	13. A	13. D	13. C
14. D	14. A	14. B	14. A
15. C	15. C	15. C	15. D
16. B	16. D	16. D	16. D
17. D	17. B	17. B	17. B
18. A	18. A	18. D	18. C
19. C	19. B	19. C	19. B
20. D	20. C	20. A	20. D

25 TEMMUZ 2020 TARİHİNDE YAPILAN AÇIK ÖĞRETİM LİSESİ / MESLEKİ AÇIK ÖĞRETİM LİSESİ /
AÇIK ÖĞRETİM İMAM HATİP LİSESİ
2019-2020 ÖĞRETİM YILI 2. DÖNEM SINAVI 1. OTURUM T KİTAPÇIĞI CEVAP ANAHTARI

(461) SEÇMELİ EKONOMİ – 1

1. C
2. A
3. D
4. B
5. A
6. C
7. C
8. B
9. D
10. A
11. B
12. A
13. D
14. C
15. B
16. A
17. C
18. B
19. D
20. D

(477) SEÇMELİ İŞLETME – 2

1. A
2. C
3. B
4. D
5. B
6. A
7. D
8. C
9. A
10. D
11. C
12. B
13. A
14. D
15. D
16. B
17. A
18. C
19. C
20. B

(502) İNGİLİZCE – 8

1. A
2. D
3. C
4. B
5. D
6. A
7. C
8. B
9. D
10. A
11. B
12. D
13. A
14. D
15. B
16. A
17. D
18. A
19. B
20. C

(502) FRANSIZCA – 8

1. D
2. B
3. B
4. D
5. A
6. C
7. A
8. B
9. C
10. A
11. C
12. D
13. A
14. B
15. B
16. A
17. C
18. C
19. D
20. D

(465) TEMEL DİNİ BİL.- 1

1. D
2. B
3. C
4. A
5. C
6. A
7. D
8. B
9. C
10. D
11. A
12. C
13. A
14. D
15. B
16. A
17. C
18. B
19. D
20. A

(479) SEÇMELİ MANTIK – 2

1. C
2. D
3. A
4. A
5. B
6. B
7. C
8. D
9. D
10. C
11. A
12. B
13. C
14. B
15. D
16. A
17. C
18. D
19. A
20. B

(502) ALMANCA – 8

1. B
2. C
3. B
4. D
5. A
6. A
7. C
8. B
9. D
10. B
11. C
12. B
13. A
14. C
15. A
16. D
17. C
18. A
19. D
20. D

(511) FIKİH – 1

1. B
2. C
3. A
4. C
5. D
6. A
7. B
8. D
9. B
10. A
11. D
12. A
13. C
14. D
15. B
16. C
17. B
18. D
19. B
20. A

25 TEMMUZ 2020 TARİHİNDE YAPILAN AÇIK ÖĞRETİM LİSESİ / MESLEKİ AÇIK ÖĞRETİM LİSESİ /
AÇIK ÖĞRETİM İMAM HATİP LİSESİ
2019-2020 ÖĞRETİM YILI 2. DÖNEM SINAVI 1. OTURUM T KİTAPÇIĞI CEVAP ANAHTARI

(532) SEÇMELİ
PEYGAMBERİMİZİN HAYATI – 2

1. A
2. C
3. D
4. B
5. D
6. C
7. A
8. D
9. C
10. D
11. A
12. B
13. A
14. C
15. D
16. B
17. C
18. D
19. A
20. B

(547) TÜRK DİLİ VE
EDEBİYATI – 7

1. C
2. B
3. B
4. D
5. D
6. B
7. A
8. D
9. A
10. C
11. B
12. C
13. A
14. B
15. D
16. C
17. C
18. B
19. D
20. A

(609) SEÇMELİ MATEMATİK – 2

1. D
2. A
3. B
4. D
5. C
6. A
7. B
8. A
9. D
10. D
11. A
12. B
13. C
14. C
15. B
16. C
17. A
18. D
19. B
20. D

(621) SEÇMELİ TÜRK DİLİ VE
EDEBİYATI – 3

1. D
2. B
3. B
4. A
5. D
6. B
7. C
8. C
9. A
10. B
11. D
12. A
13. D
14. B
15. C
16. A
17. D
18. C
19. B
20. A

(544) TÜRK DİLİ VE
EDEBİYATI – 4

1. A
2. A
3. B
4. C
5. D
6. A
7. C
8. B
9. C
10. B
11. A
12. C
13. A
14. C
15. C
16. A
17. D
18. D
19. B
20. D

(548) TÜRK DİLİ VE
EDEBİYATI – 8

1. B
2. D
3. C
4. B
5. D
6. B
7. C
8. A
9. C
10. B
11. A
12. B
13. B
14. D
15. A
16. D
17. C
18. C
19. D
20. A

(611) DİNLER TARİHİ – 1

1. B
2. C
3. A
4. C
5. B
6. A
7. D
8. C
9. D
10. B
11. A
12. B
13. C
14. D
15. C
16. B
17. A
18. D
19. B
20. D

(622) SEÇMELİ TÜRK DİLİ VE
EDEBİYATI – 4

1. C
2. B
3. D
4. C
5. A
6. B
7. D
8. C
9. C
10. B
11. D
12. A
13. B
14. C
15. D
16. A
17. A
18. B
19. D
20. C

25 TEMMUZ 2020 TARİHİNDE YAPILAN AÇIK ÖĞRETİM LİSESİ / MESLEKİ AÇIK ÖĞRETİM LİSESİ /
AÇIK ÖĞRETİM İMAM HATİP LİSESİ
2019-2020 ÖĞRETİM YILI 2. DÖNEM SINAVI 1. OTURUM T KİTAPÇIĞI CEVAP ANAHTARI

(713) İSLAM KÜLTÜR VE MEDENİYETİ – 1	(819) KELAM – 1	(931) SİYER – 1	(999) MATEMATİK – 2
1. B	1. D	1. D	1. B
2. A	2. B	2. C	2. A
3. C	3. C	3. A	3. B
4. D	4. B	4. D	4. D
5. B	5. A	5. B	5. D
6. A	6. D	6. C	6. B
7. D	7. C	7. A	7. C
8. B	8. A	8. C	8. C
9. A	9. C	9. B	9. B
10. D	10. B	10. D	10. C
11. C	11. D	11. C	11. B
12. A	12. B	12. B	12. D
13. B	13. C	13. C	13. C
14. C	14. A	14. B	14. D
15. D	15. D	15. D	15. A
16. A	16. C	16. A	16. A
17. B	17. B	17. C	17. B
18. A	18. D	18. D	18. A
19. C	19. A	19. A	19. C
20. D	20. C	20. B	20. C

(817) AKAİD – 1	(825) OSMANLI TÜRKÇESİ – 1	(974) SEÇMELİ GİRİŞİMCİLİK – 1
1. D	1. B	1. C
2. B	2. B	2. A
3. A	3. D	3. B
4. C	4. C	4. D
5. B	5. A	5. C
6. A	6. A	6. A
7. B	7. D	7. D
8. C	8. B	8. A
9. D	9. A	9. B
10. C	10. C	10. B
11. A	11. A	11. C
12. B	12. C	12. D
13. A	13. D	13. C
14. D	14. B	14. A
15. C	15. A	15. D
16. B	16. B	16. C
17. D	17. C	17. B
18. B	18. D	18. C
19. C	19. B	19. A
20. A	20. A	20. D